

Игры Юных эрудитов

По теме: «Правила
Дорожного Движения»

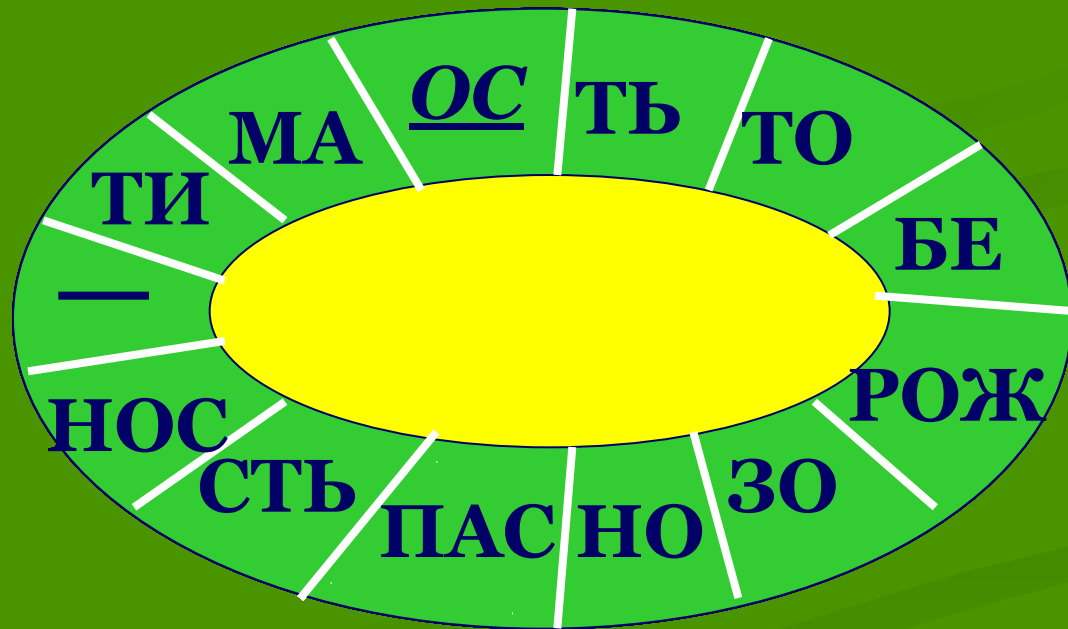
1 задание

РАЗМИНКА



Время выполнения 1.5
мин

Незнайка принес вам плакат из букв.
Но, составляя буквы, он их все перепутал.
Попытайтесь все - таки прочесть,
что тут написано.



2 задание



Знаки

Время выполнения 1.5




Белый круг с каёмкой красной –
Пешком ходить здесь не опасно.
1 Может, и висит он зря?
Что вы скажете, друзья?


Видно, строить будут дом –
Кирпичи висят кругом.
3 Но у нашего двора
Стройплощадка не видна.

2 Если ты спешишь в пути через
улицу пройти,
Там иди, где весь народ, там, где
знак

4 Чудо-конь велосипед.
Можно ехать или нет?
Странный этот синий знак.
Не понять его никак!



Если нужно вызвать маму,
Позвонить гиппопотаму,
По пути связаться с другом –
Этот знак к твоим услугам! **5**



6 Затихают все моторы
И внимательны шофёры,
Если знаки говорят:
«Близко школа! Детский сад!»

3 задание



Размышлялка

Время выполнения 2

Из карточек со слогами составьте слова. Если вы правильно справитесь с заданием, то у вас останется слово не связанное с ПДД

Слоги на карточках:

- лод
- ров
- фо
- ре
- щи
- пе
- р
- гу
- к
- ре
- ро
- мо
- ст
- рек
- ли
- ок
- га
- ход
- пе
- цы
- све
- то
- ре
- до

Ответ



Дорога

Перекресток

Светофор

Регулировщик

Переход

Молодцы




4 задание




Математическая разминка

Время выполнения 3

Расположите цифры от 1 до 6 так, чтобы цифры ни в одном горизонтальном и ни в одном вертикальном ряду не повторялись



ОТВЕТ



A 6x6 grid of numbers from 1 to 6, each in a different color. The grid is set against a light blue grid background. The numbers are arranged as follows:

5	1	4	2	6	3
3	5	1	4	2	6
6	3	5	1	4	2
2	6	3	5	1	4
4	2	6	3	5	1
1	4	2	6	3	5

5 задание

Логическая задчка



Время выполнения 3

В семье четверо детей, им 5, 8, 13 и 15 лет, а зовут их Тоня, Коля, Света и Маша. Сколько лет каждому из них, если одна девочка ходит в детский сад, Тоня старше, чем Коля, а сумма лет Тони и Светы делится на три





ОТВЕТ

- Свете – 5 лет
- Коле – 8 лет
- Тоне – 13 лет
- Маше – 15 лет

6 задание

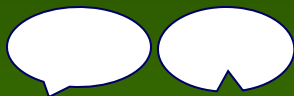
Ребусы



Время выполнения 4

1

П



Б



1- Пробка

2- Автобус

2

АВ



3

100 п

3 - Стоп 4 - Перекресток

4



7 задание

Шарады



Время выполнения 2

**Шарада - это загадка, в стихах,
в ней задуманное слово распадается
на несколько отдельных частей,
причем каждая из них представляет
собой самостоятельное слово, как
правило, односложное. Разгадав
каждую часть шарады и сложив эти
части вместе, легко узнать
задуманное слово.**

- Начало - нота. Потом оленя украшение.
А вместе - место оживленного движения.

ДО – РОГА

- Названье ноты напиши,
Прибавить имя поспеши -
И покачусь я по дороге,
Или тебе обую ноги.

РЕ - ЗИНА



8 задание

Анаграммы



Время выполнения 4

Анаграмма — слово в зашифрованном виде

ЗАДАНИЕ:

Переставьте буквы, не прибавляя и не выбрасывая ни одной так, чтобы получилось новое слово.



РАМ А Н Г А М А

1

ГОРОДА

2

ХЕДРОЕП

3

ИТОВДЛЕБ

4

РВТОСЕФО

5

ПРОПКИЕСИ

1

ДОРОГА

2

ПЕРЕХОД

3

ВОДИТЕЛЬ

4

СВЕТОФОР

5

ИНСПЕКТОР

9 задание

Дорожный лабиринт



Время выполнения 4

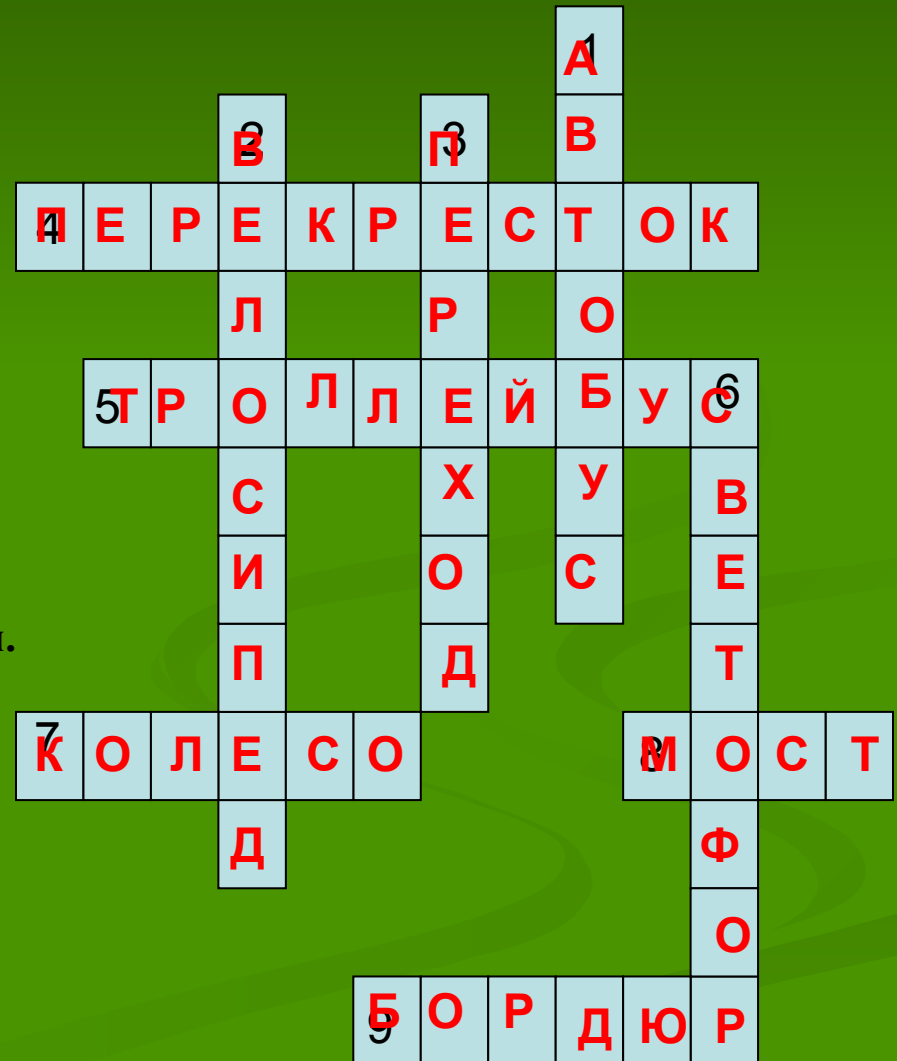
ДОРОЖНЫЙ ЛАБИРИНТ

По горизонтали:

4. Пересечение двух дорог.
5. Удивительный вагон! Посудите сами: рельсы в воздухе, а он держит их руками.
7. У машины - есть, у телеги - есть, у велосипеда - есть, а у поезда - не счесть.
8. Через реку во всю ширь лег огромный богатырь. Он лежит - не дрожит, по нему трамвай бежит.
9. Специальный камень, отделяющий край тротуара от проезжей части.

По вертикали:


1. Что за чудо этот дом! Окна светлые кругом. Носит обувь из резины. А питается бензином.
2. Этот конь не ест овса, вместо ног - два колеса. Сядь верхом и мчись на нем. Только лучше правь рулем.
3. Где бы нам через дорогу к магазину перейти? Вот за этими ларьками, там, где стрелка у ворот, мы на стрелке этой сами прочитали ...
6. Я глазами моргаю неустанно день и ночь. Я машинам помогаю и тебе хочу помочь.



10 задание

Перекресток загадок





Трамвай