

Случаи сложения

вида $+ 4$

стр. 67

Урок № 107



Школа России
Математика 1 класс





Устный счёт



$$\square - 3 = 8$$

$$11 - \square = 9$$

$$\square - 3 = 9$$

Вставь пропущенные числа.

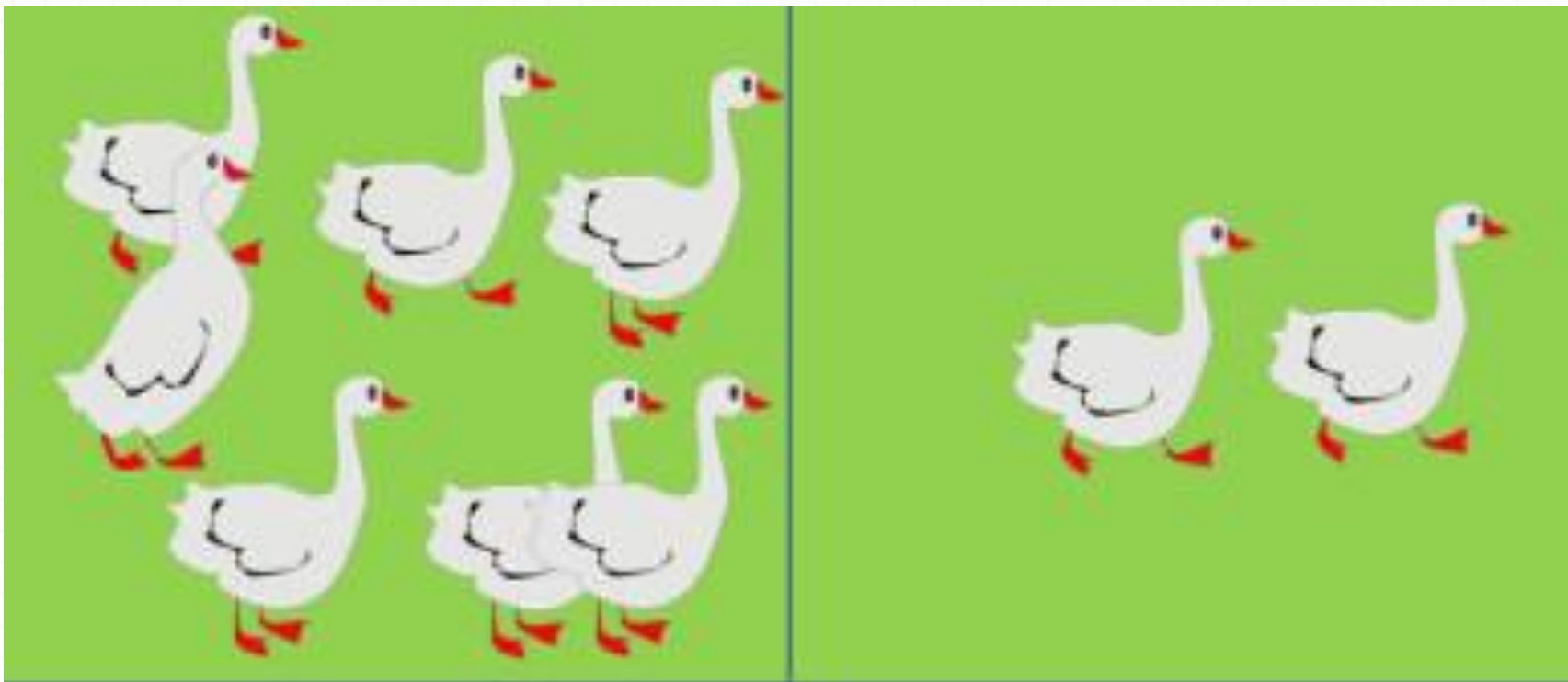
Прочитай примеры разными способами.



$$11 - 3 = 8$$

$$8 + 4 = 12$$

Составь задачи по решению.



$$9 - 2 = 7$$

$$7 - 2 = 5$$


$$7 + 2 = 9$$

Для детского сада купили 4 мишки, 5 собачек и 3 утёнка. Сколько всего игрушек купили для детского сада?



12


$$4 + 5 + 3 = 12$$



Математический диктант

• 17 11 6 11 10 12 14 20

Новый материал



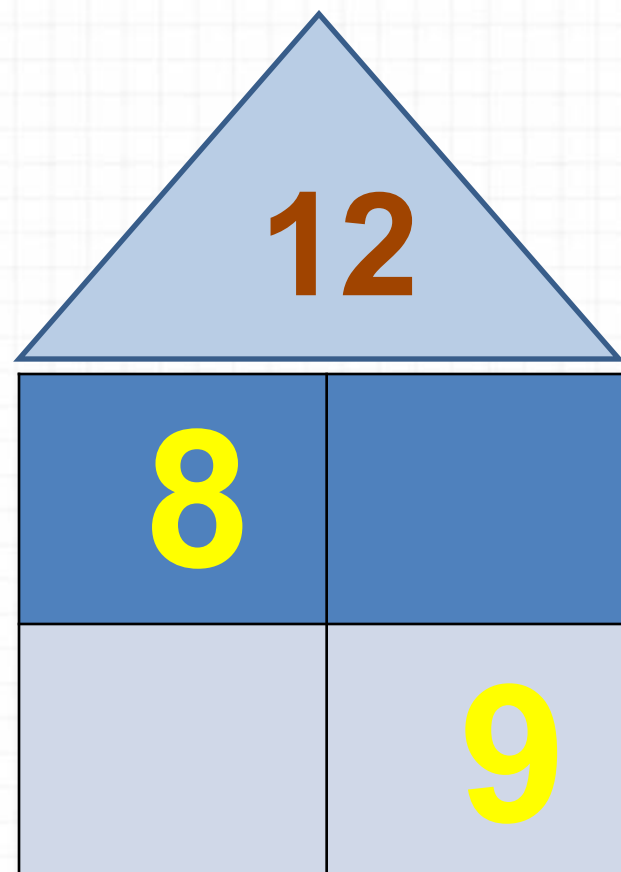
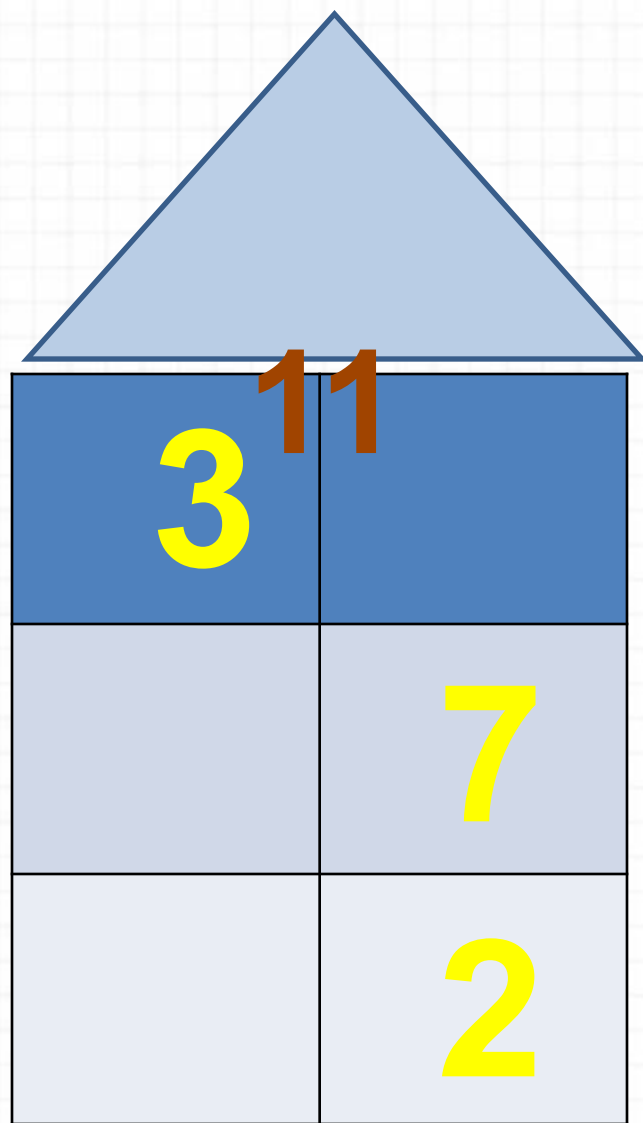
Купили **7** машинок, **4** зайки, а мишек столько, сколько машинок и зайчат вместе. Сколько купили мишек?


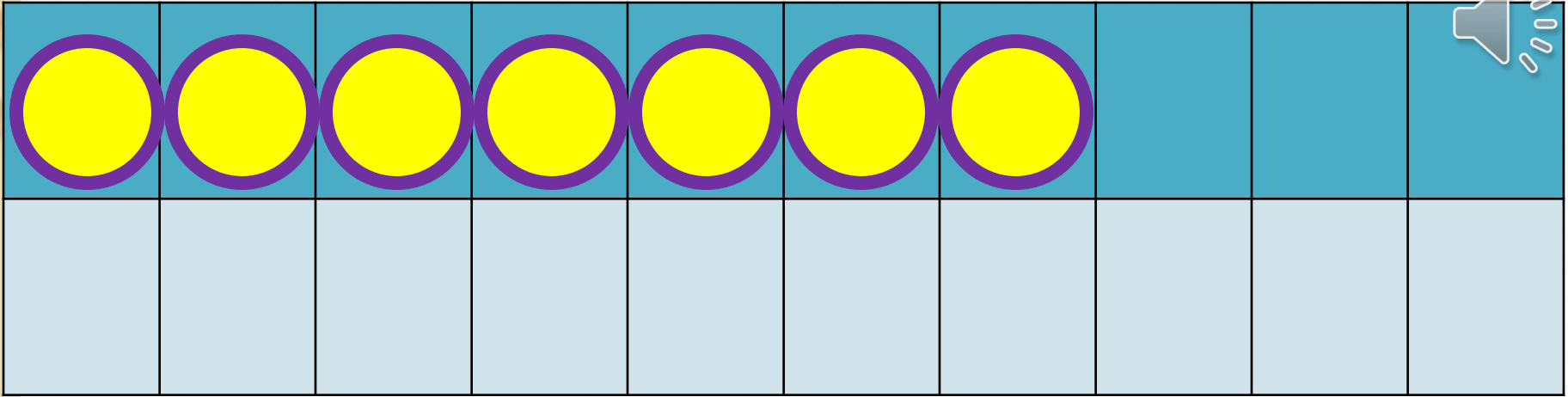
11

$$7 + 4 = 11$$




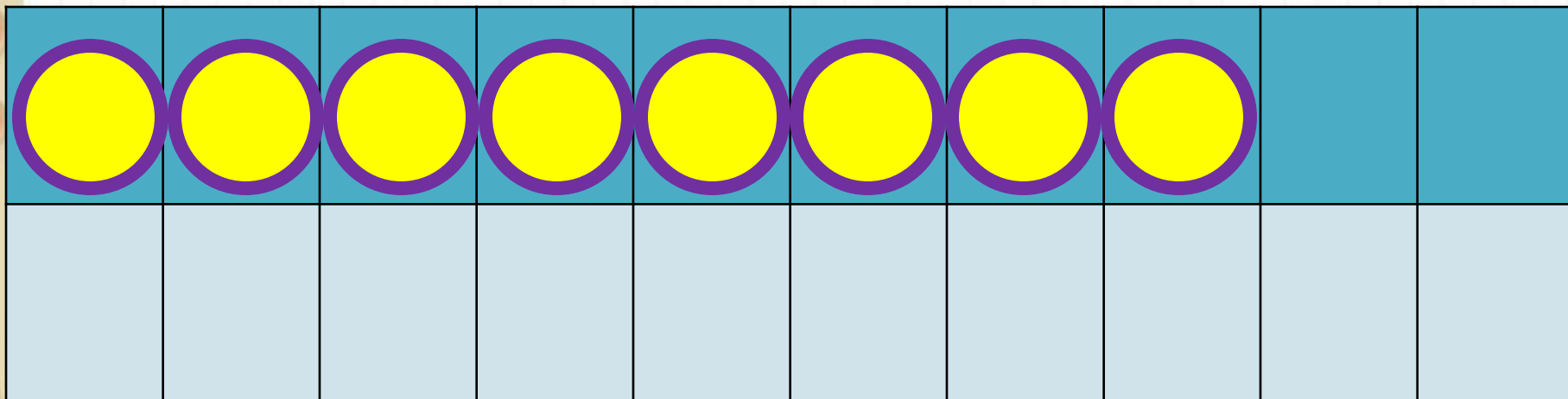
Засели домики.






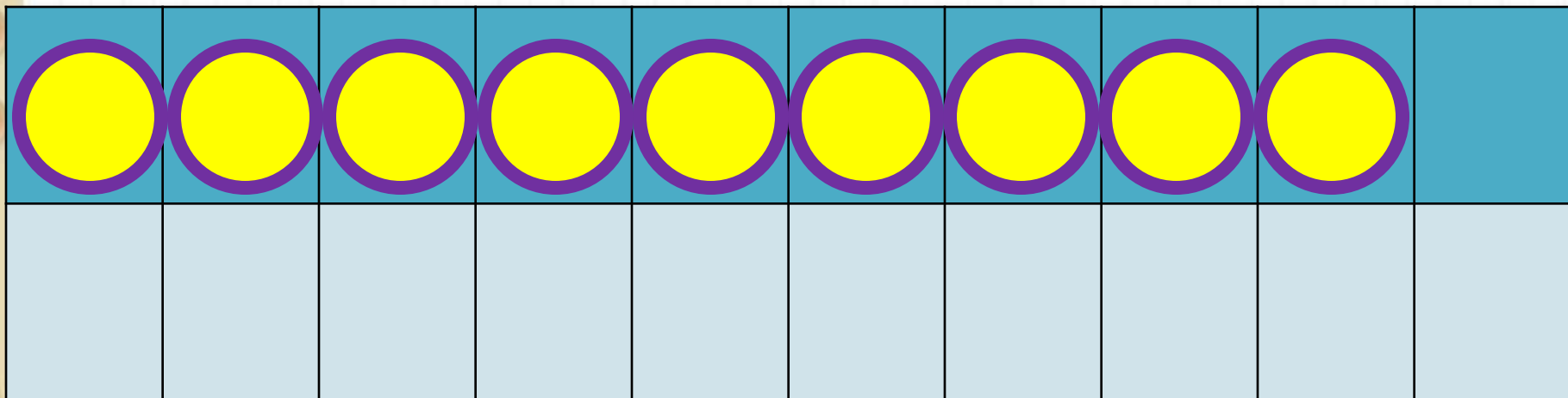
$$7 + 4$$

$$7 + 3 + 1$$



$$8 + 4$$

$$8 + 2 + 2$$



$$9 + 4$$

$$9 + 1 + 3$$

Запомни!

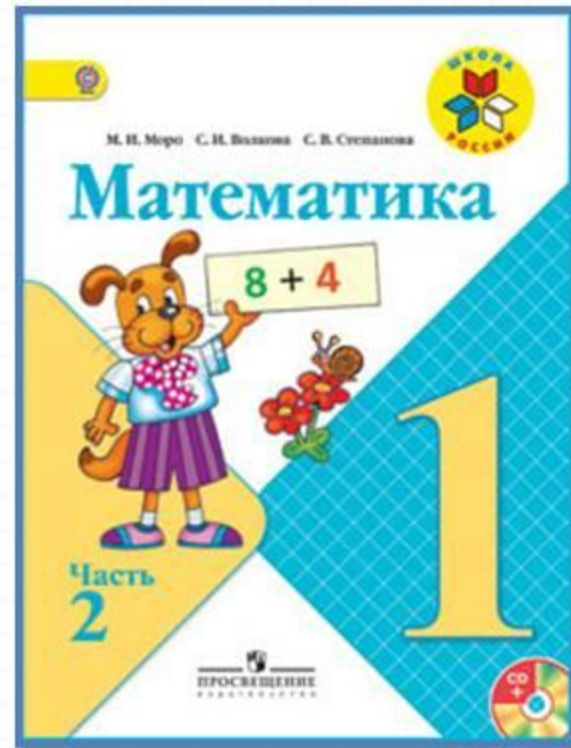
$$7 + 4 = 11$$

$$8 + 4 = 12$$

$$9 + 4 = 13$$

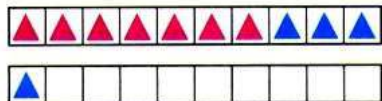
Какое число учимся сегодня прибавлять?

Работа по учебнику



стр. 67

Объясни, как к числу 7 прибавить 4.



$$\begin{array}{r} 7 + 4 \\ 7 + 3 + 1 \end{array}$$

Рассуждая так же, вычисли.

$$\begin{array}{r} 8 + 4 \\ 8 + 2 + \square \end{array}$$

$$\begin{array}{r} 9 + 4 \\ 9 + \square + \square \end{array}$$

Запомни!

$7 + 4 = 11$

$8 + 4 = 12$

$9 + 4 = 13$

1. $7 + 3 + 2$
 $8 + 2 + 3$

$6 + 4 + 3$
 $5 + 5 + 1$

$9 + 1 + 6$
 $9 + 1 + 7$

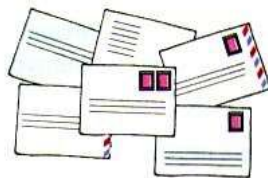
2. Составь задачи и реши их.

Было



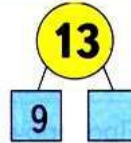
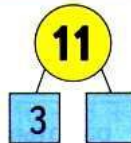
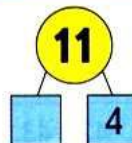
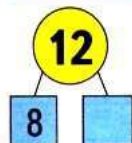
Стало на 2 больше.
Сколько стало ... ?

Было



Стало на 1 меньше.
Сколько стало ... ?


3. Узнай разными способами, на сколько сантиметров длина одного отрезка меньше длины другого.



$\square + 4$



Объясни, как к числу 7 прибавить 4.



$$\begin{array}{r} 7 + 4 \\ \hline 7 + 3 + 1 \end{array}$$

Рассуждая так же, вычисли.

$$\begin{array}{r} 8 + 4 \\ \hline 8 + 2 + \square \end{array}$$

$$\begin{array}{r} 9 + 4 \\ \hline 9 + \square + \square \end{array}$$

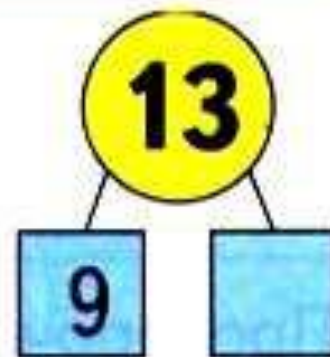
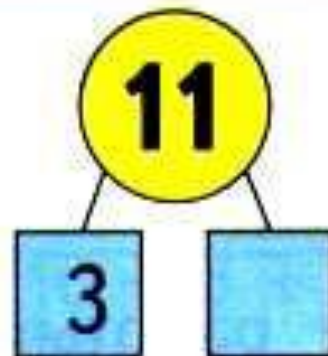
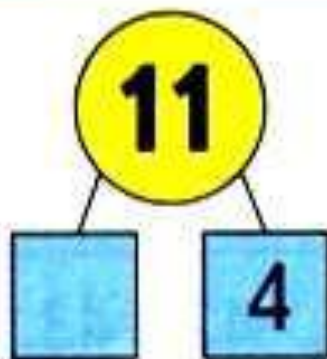
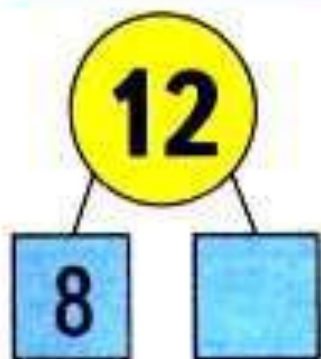
Запомни!

$$7 + 4 = 11$$

$$8 + 4 = 12$$

$$9 + 4 = 13$$

3. Узнай разными способами, на сколько сантиметров длина одного отрезка меньше длины другого.



Физкультминутка

Яблоня в моём саду
Гнётся низко на ветру.
Наклонилась вправо, влево.
Покачаться захотела.
Ветки вниз и вверх качнула
И вперёд их протянула.
А как стихнет ветерок
Моя яблонька заснёт.



Закрепление изученного



Найдите примеры с ответом

12.

$$9 + 3 =$$

$$9 + 4 =$$

$$8 + 4 =$$

$$10 + 2 =$$


$$10 - 2$$

$$9 + 2 =$$

$$5 + 5 =$$

$$10 + 7 =$$

$$14 - 2 =$$




Задания на смекалку



В первой клетке сидят **4** цыплёнка и **2** кролика, а во второй **5** цыплят. Где больше глаз и на сколько?

на 2 больше в 1

клетке



Каким этажом сверху будет **пяты́й** этаж десятиэтажного дома?



ШЕСТИ

Самостоятельная работа

• $5+2+4=$

$3+6+4=$

• $5+3+4=$

$7+2+3=$

1. $7 + 3 + 2$
 $8 + 2 + 3$

$6 + 4 + 3$
 $5 + 5 + 1$

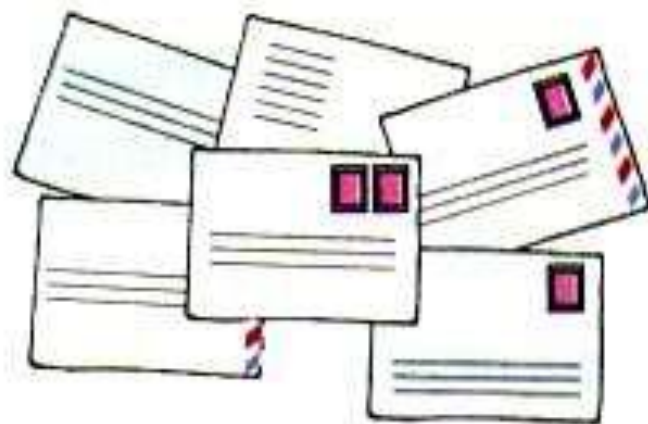
$9 + 1 + 6$
 $9 + 1 + 7$

2. Составь задачи и реши их.

Было



Было



Рефлексия

Какие примеры мы решали сегодня на уроке?

Почему они записаны в красной рамочке?

Кто смог их запомнить?

Оцените свою работу на уроке?

