



Внеклассное мероприятие в 5 классе



Правила игры



- Команда выбирает категорию и стоимость задания. На экране высвечивается задание, которое необходимо **выполнить**.
- Если ответ **правильный**, то команда **зарабатывает баллы**.
- Побеждает та команда, которая **заработала больше всех баллов**.



Своя игра



Цифры и числа	<u>100</u>	<u>200</u>	<u>300</u>	<u>400</u>
Задачи	<u>100</u>	<u>200</u>	<u>300</u>	<u>400</u>
Правила	<u>100</u>	<u>200</u>	<u>300</u>	<u>400</u>
Логика	<u>100</u>	<u>200</u>	<u>300</u>	<u>400</u>
Действия	<u>100</u>	<u>200</u>	<u>300</u>	<u>400</u>



пауза



Цифры
и
числа

100

Сколько месяцев в
году содержит 30
дней?



11



Цифры
и
числа

200

**Сколько
существует цифр?**

10



Цифры
и
числа

300

**Как называется
число,
делящееся
без остатка на 2?
чётное**



Цифры
и
числа

400

**К натуральному числу
справа приписали три
нуля.**

**Во сколько раз
увеличилось число?**

в 1000 раз



Задачи

100

**Горело 5 свечей,
две погасли.
Сколько свечей
осталось?**

2



Задачи

200

**Тройка лошадей
пробежала 30 км.
Сколько километров
пробежала каждая
лошадь?**



30

**Площадь квадрата
равна 49 см^2 .**

**Чему равен
его периметр?**



Задачки

400

**Шла девочка в лес, а
навстречу ей
3 девочки.**

**Сколько человек
шло из леса?**

3



Правила

100

Прямоугольник с равными сторонами

Квадрат



Правила

200

**Число, полученное в
результате деления,
и не делящееся
больше на делитель**

Остаток




Правила

300

**Нахождение одного
из слагаемых по
сумме и другому
слагаемому**

Вычитание



Правила

400

**Число,
определяющее
положение точки
на прямой?
координата**



Логика

100


Какой из
числовых
рядов лишний?

2	5	8	11	14
1	4	7	10	13
3	4	5	6	7



Логика

200




Логика

300

Из круга получили данную фигуру.

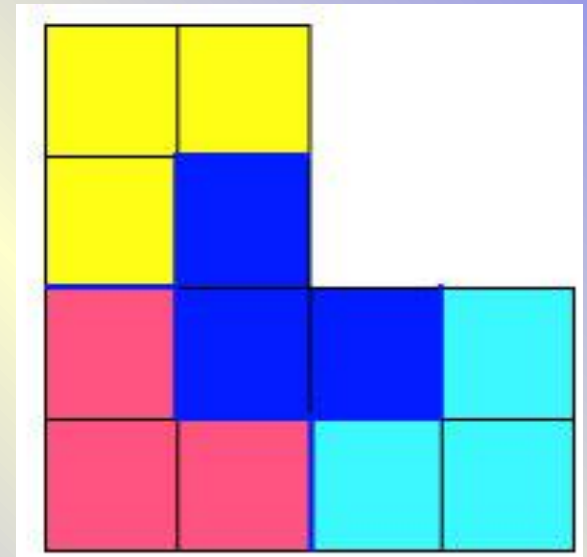
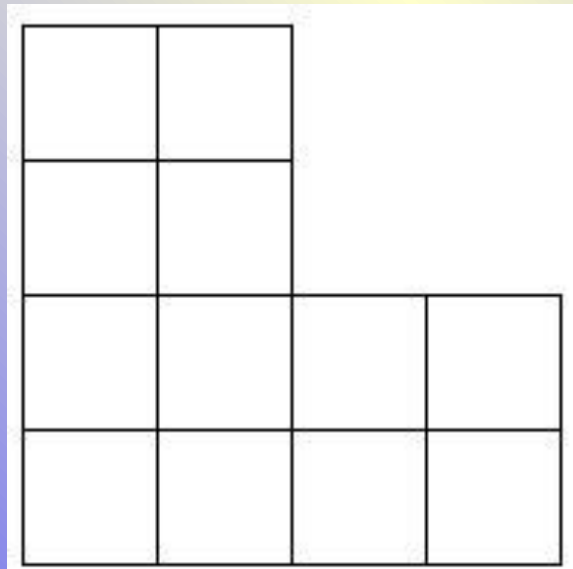
Объясните процесс превращения.



Логика

400

Необходимо фигуру
разрезать на 4
равные части.



Действия

100

**Что легче:
1 тонна снега или
1000 кг ваты?**



Равны



Действия

200



**У одной палки
2 конца.**

**Сколько концов у
7 с половиной
таких палок?**

16



Действия

300



**В комнате находятся
2 мальчика и
3 кошки и 1 попугай.**

**Сколько ног
можно насчитать?**

4



Действия

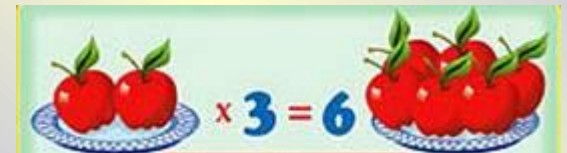
400

Даны числа:

0;1;2;3;4;5;6;7;8;9.

Что больше:

**их сумма или
произведение**



Весёлые вопросы:

Варит отлично твоя голова: пять плюс один получается...

Вышел зайчик погулять, лап у зайца ровно...

Ходит в народе такая молва: шесть минус три получается...

Говорил учитель Ире, что два больше, чем...

Меньше в десять раз, чем метр, всем известно...

Ты на птичку посмотри: лап у птицы ровно ...

У меня собачка есть, у нее хвостов аж...

У доски ты говори, что концов у палки...

Отличник тетрадкой своею гордится: внизу, под диктантом, стоит...


На уроках будешь спать, за ответ получишь...

Вот пять ягодок в траве. Съел одну, осталось -...

Мышь считает дырки в сыре: три плюс две – всего...



**Как расставить
10 стульев у
четырёх стен
комнаты,
чтобы у каждой
стены было по трое?**



СВОЯ

ИГРА

