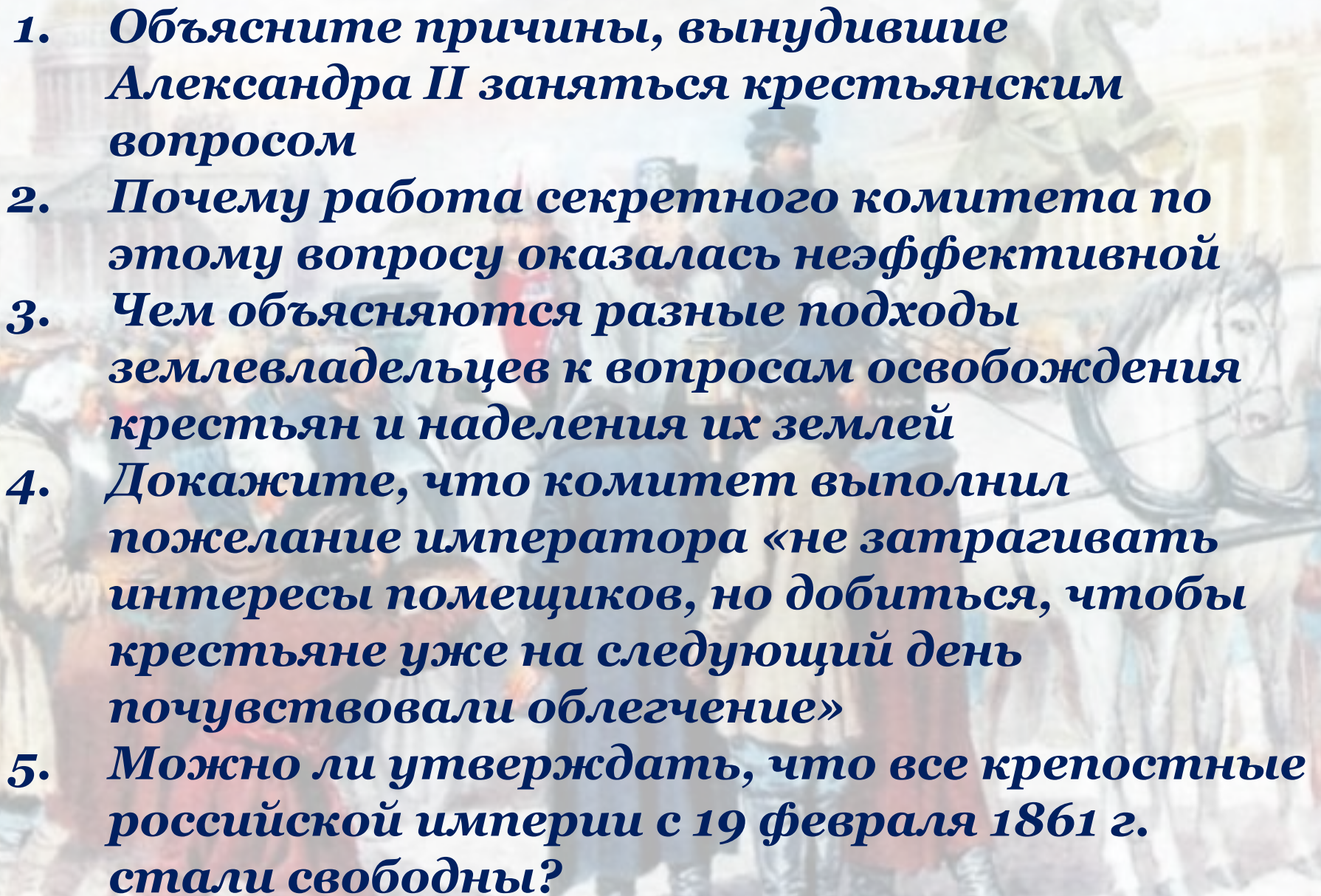
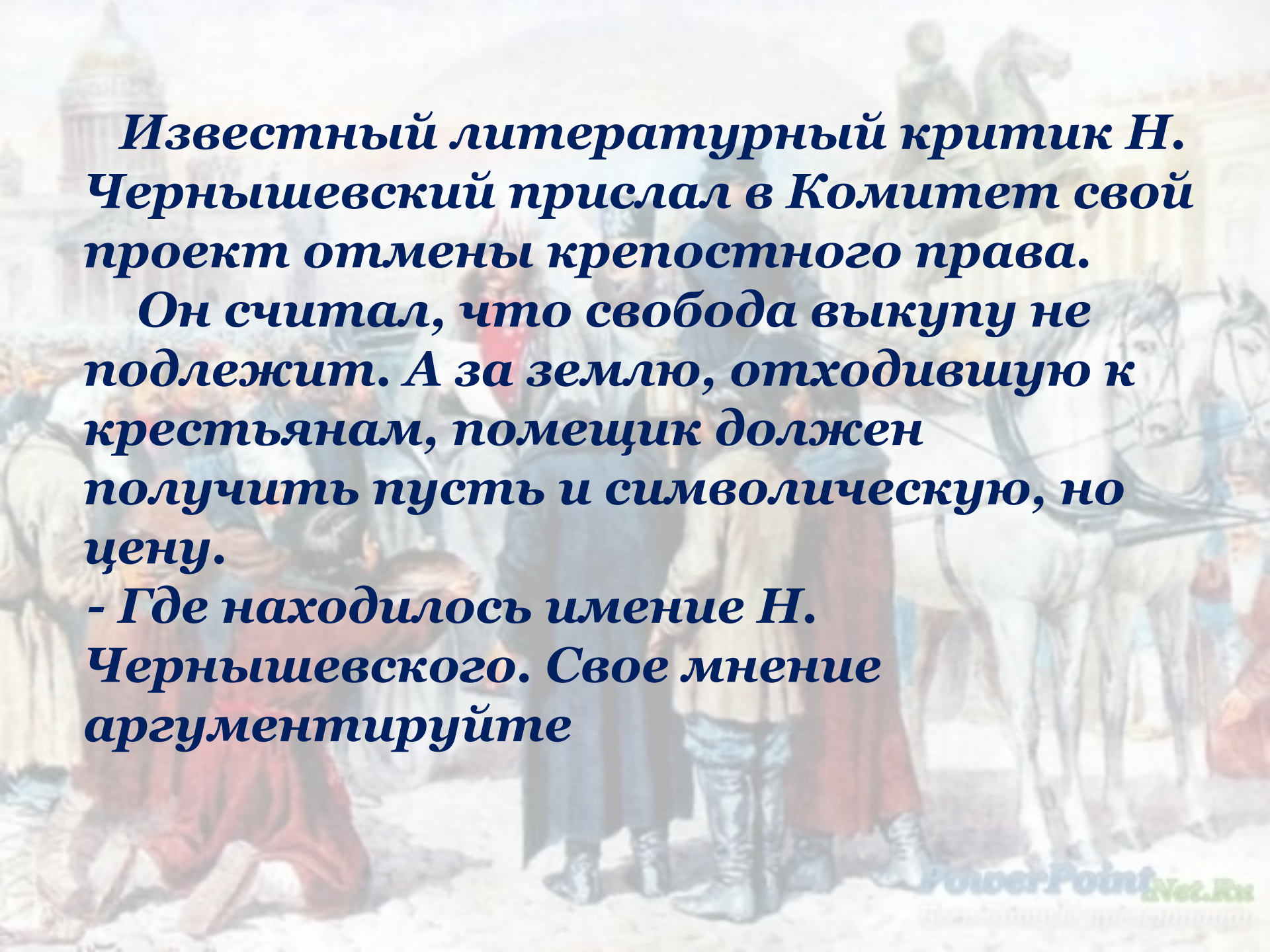


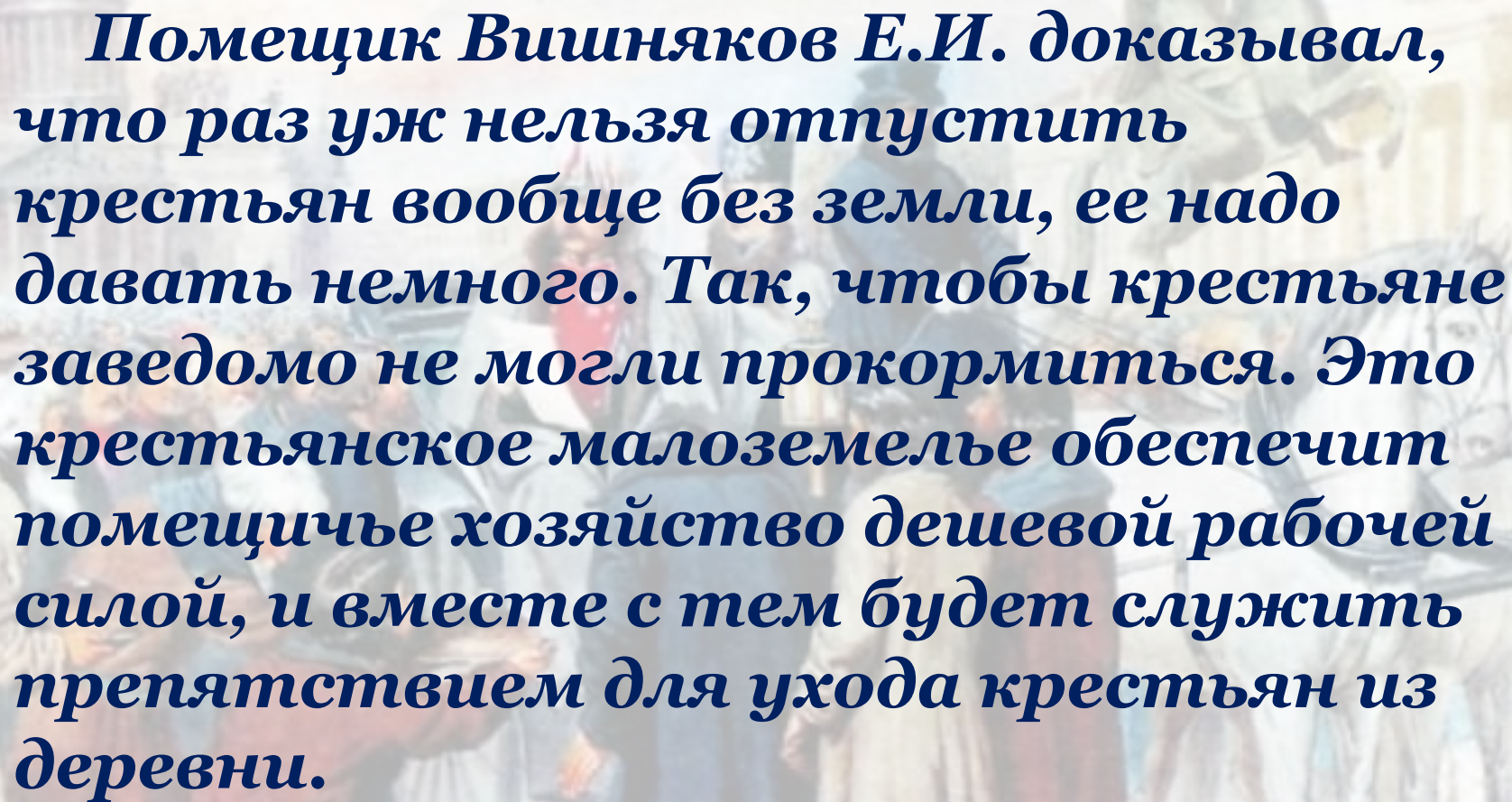
- 
1. **Объясните причины, вынудившие Александра II заняться крестьянским вопросом**
 2. **Почему работа секретного комитета по этому вопросу оказалась неэффективной**
 3. **Чем объясняются разные подходы землевладельцев к вопросам освобождения крестьян и наделения их землей**
 4. **Докажите, что комитет выполнил пожелание императора «не затрагивать интересы помещиков, но добиться, чтобы крестьяне уже на следующий день почувствовали облегчение»**
 5. **Можно ли утверждать, что все крепостные российской империи с 19 февраля 1861 г. стали свободны?**



Известный литературный критик Н. Чернышевский прислал в Комитет свой проект отмены крепостного права.

Он считал, что свобода выкупу не подлежит. А за землю, отходящую к крестьянам, помещик должен получить пусть и символическую, но цену.

- Где находилось имение Н. Чернышевского. Свое мнение аргументируйте

The background is a faded, historical-style illustration. It depicts a group of people, including men and women in period clothing, and several horses. Some horses are harnessed together, suggesting a scene of labor or transport. The overall tone is historical and somewhat somber, consistent with the text's subject matter.

Помещик Вишняков Е.И. доказывал, что раз уж нельзя отпустить крестьян вообще без земли, ее надо давать немного. Так, чтобы крестьяне заведомо не могли прокормиться. Это крестьянское малоземелье обеспечит помещичье хозяйство дешевой рабочей силой, и вместе с тем будет служить препятствием для ухода крестьян из деревни.

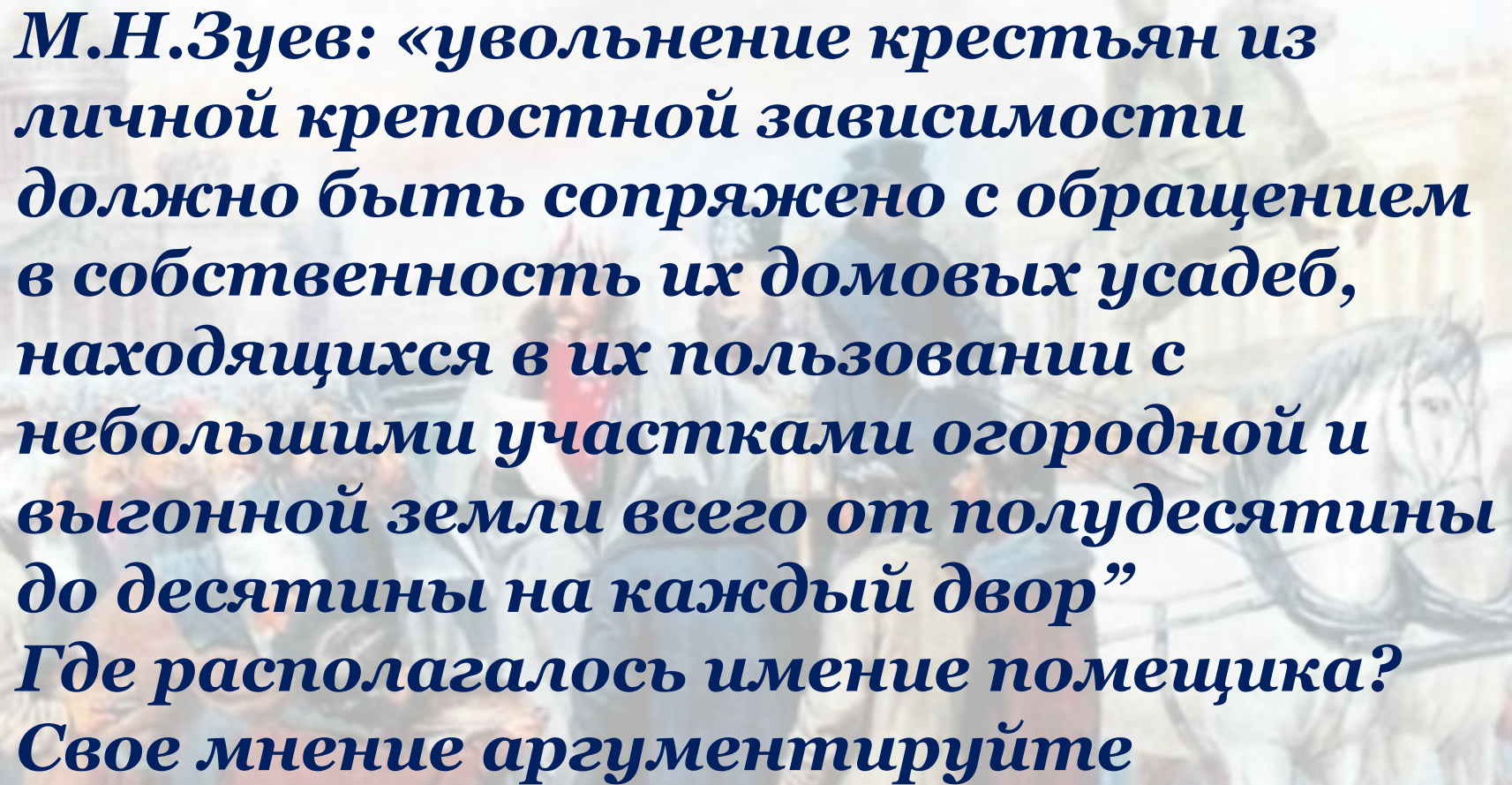
Где находилось его поместье? Свое мнение аргументируйте

Помещик А.Унковский: «Освободить крестьян сразу, без переходного состояния, но с вознаграждением помещика как за землю, предоставляемую крестьянам, так и за самих освобождаемых крестьян. При этом выкуп земли (совсем небольшой) должны осуществить сами крестьяне, а выкуп свободы возложить на все сословия»

Где располагалось имение помещика А. Унковского? Свое мнение аргументируйте

Ю.Самарин: «Крестьянин и земля должны быть нераздельны, поэтому надобно составить договоры крестьян с помещиками на срок поболее 20 лет. По этим договорам крестьяне будут продолжать трудиться на земле помещиков, выплачивая оброк несколько поболее обычного. Разница будет платой крестьян за выделяемые им в будущем наделы. И лишь по истечении этого срока крестьяне получают и свободу и землю»

**Где располагалось имение помещика?
Свое мнение аргументируйте**

The background of the slide is a faded, historical illustration. It depicts a group of people in 19th-century attire, including long coats and hats. In the foreground, a man in a red coat is kneeling or bowing. To the right, several horses are harnessed together, suggesting a scene of labor or transport. The overall tone is historical and somewhat somber.

***М.Н.Зуев: «увольнение крестьян из личной крепостной зависимости должно быть сопряжено с обращением в собственность их домовых усадеб, находящихся в их пользовании с небольшими участками огородной и выгонной земли всего от полудесятины до десятины на каждый двор»
Где располагалось имение помещика?
Свое мнение аргументируйте***



Отмена крепостного права в России

Сколько же стоит земля?

Стоимость земли – это сумма, положив которую в банк под 6% годового дохода, помещик мог ежегодно получать сумму, равную сумме годового оброка

□ В Тверской губернии крестьяне платили ежегодный оброк 8 рублей

-рассчитайте, сколько же стоит земля в Тверской губернии. Что для этого нужно сделать?

$$x = \frac{8 * 100}{6}$$

-Сколько получилось?

133,3 руб.

Сколько же стоит земля?

□ Могут ли крестьяне осилить такую сумму, если, придя на престол, император был вынужден простить им недоплаченные налоги?

- Что же делать?

Посредником между крестьянами и барином выступит государство. Оно кредитует крестьянину 80% этой суммы на 49 лет

- рассчитайте, сколько же государство даст в долг крестьянину

- Сколько же?

$$x = \frac{133,3 * 80}{100}$$

106,6 руб.

- А сколько он выплатит помещику сам?

26,7 руб.

Сколько же стоит земля?

Но и это – сумма огромная. Крестьянин не сможет ее отдать и будет должен и помещику 20% и государству 80% стоимости земли

Крестьянин будет выплачивать государственному банку те же 6% в год от суммы долга

- сколько же это?

$$x = \frac{106,6 * 6}{100}$$

6,4 руб. – эта сумма явно меньше ежегодного оброка, а значит заплатить ее крестьянину будет легче.

Но выплачивать он будет 49 лет. Сколько же он заплатит государству за его доброту?

313,6 руб.

Освобождение крестьян на окраинах России происходит в

1865 – 1874 гг., т.к.:

На Кавказе, вследствие недостатка земли, пригодной для земледелия, крестьяне выкупали также дома и дворовые постройки, что увеличило стоимость земли в среднем на 12%

-рассчитайте самостоятельно выкупные операции для жителя Абхазии, если его ежегодный оброк составлял 7 руб.

Цена земли – 116,6 руб. + 12% - 13,9 руб.

Государственный кредит – 102,8 руб.

Сам платит – 27,7 руб.

Выплаты банку – 6,2 руб

За 49 лет – 302,2 руб.

В Средней Азии, вследствие недостатка воды и частной собственности на нее, крестьяне выкупали также воду, что увеличило стоимость земли в среднем на 15%

-рассчитайте самостоятельно выкупные операции для жителей Северного Казахстана, если ежегодно они платили 4 руб.

Цена земли – 66,6 руб. + 15% - 10 руб.

Государственный кредит – 61,3 руб.

Сам платит – 15,3 руб.

Выплаты банку – 3,7 руб

За 49 лет – 180 руб.

**-рассчитайте самостоятельно
выкупные операции для жителя
Саратовской губернии, где годовой
оброк составлял в среднем 9 рублей**

Цена земли – 150 руб.

Государственный кредит – 120 руб.

Сам платит – 30 руб.

Выплаты банку – 7,2 руб

За 49 лет – 353 руб.

**-рассчитайте самостоятельно
выкупные операции для жителя
Петербуржской губернии, где годовой
оброк составлял в среднем 12 рублей**

Цена земли – 200 руб.

Государственный кредит – 160 руб.

Сам платит – 40 руб.

Выплаты банку – 9,6 руб.

За 49 лет – 470,4 руб.



Стр. 142
Определите
историческое
значение
отмены
крепостного
права в России



Домашнее задание

• П. 19

*• Как рассчитывали
стоимость земли
крепостные крестьяне,
владевшие лишь
четырьмя действиями
математики?*