

# ОЗНАКОМЛЕНИЕ С ЗАДАЧЕЙ В 2 ДЕЙСТВИЯ

- Мы умные, мы дружные  
Мы - внимательные,  
Мы – старательные.  
Мы в первом классе учимся  
И всё у нас получится!

- Назовите числа в порядке их  
увеличения:

**17, 10, 5, 15, 2, 20, 8**

- На какие две группы можно  
распределить эти числа?

Проверка:

**2, 5, 8, 10, 15, 17, 20**

-Найди лишнее число

5

8

16

6



14  
рублей



16  
рублей



18  
рублей



# Примеры4

• 5      0      9      3      10      6      10

# Самостоятельная работа

•  $9+1 +8=$

$12-2-7=$

•  $2+8+1=$

$7+3+5=$

•  $11-1-7=$

$4+6+3=$





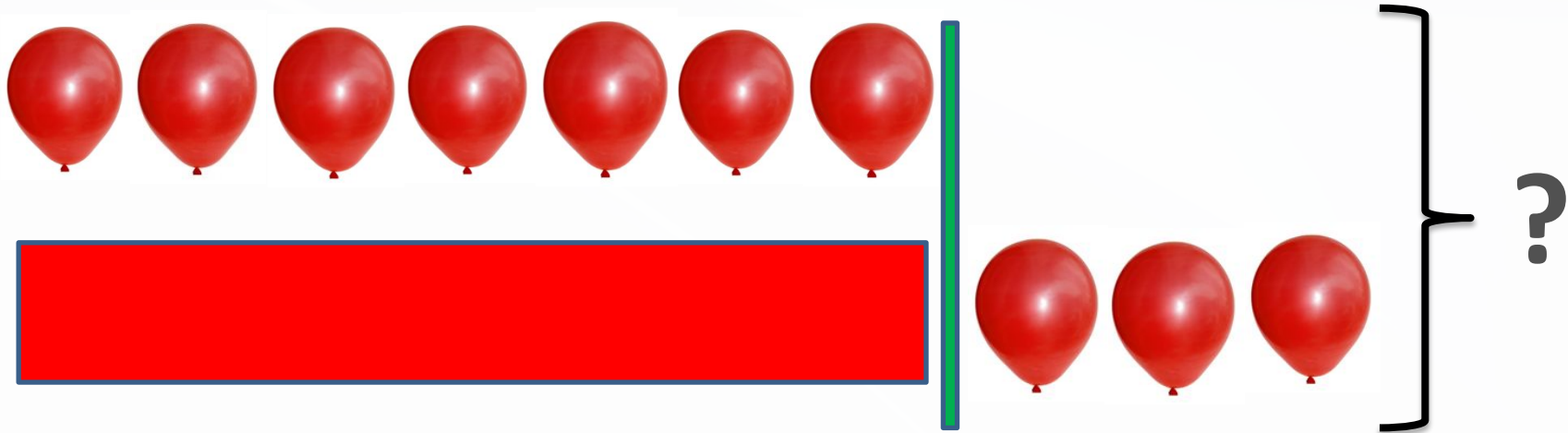
# ЗАДАЧ

**А**

На лесной полянке  
выросли четыре  
маленькие и одна  
большая незабудка.  
Сколько незабудок  
выросло на лесной  
поляне?

На лесной полянке  
выросли четыре  
маленькие и одна  
большая незабудка.  
Красивые были  
цветы?





**НА ПЕРВОЙ ПРОВОЛОКЕ 7 ШАРИКОВ, А НА ВТОРОЙ – НА 3 ШАРИКА БОЛЬШЕ.**

**СКОЛЬКО ВСЕГО ШАРИКОВ НА ДВУХ ПОЛКАХ?**

## План решения:

- 1) Сначала надо узнать, сколько шариков на второй проволоке.
- 2) Потом можно узнать, сколько шариков на двух проволоках.

# Решение:

1)  $7+3=10$  (ш.)-на II проволоке

2)  $7+10=17$  (ш.)-всего

- **Ответ:** всего 17 шариков