

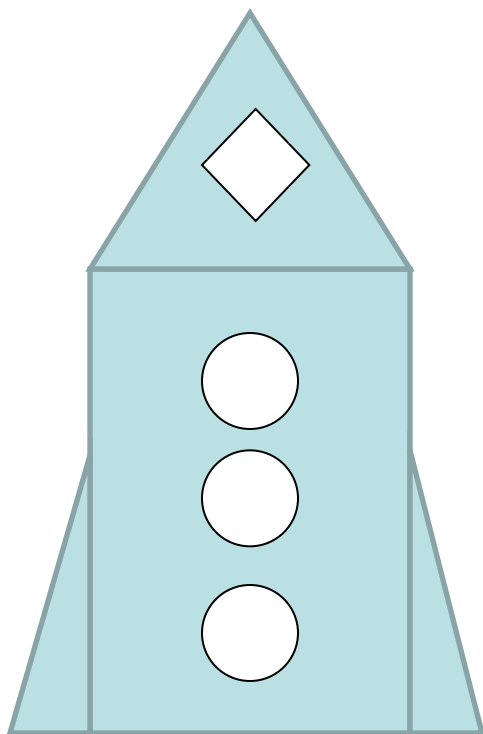
Подорож до космічних планет

Урок математики за темою
«Числа 11- 20.
Закріплення теми»

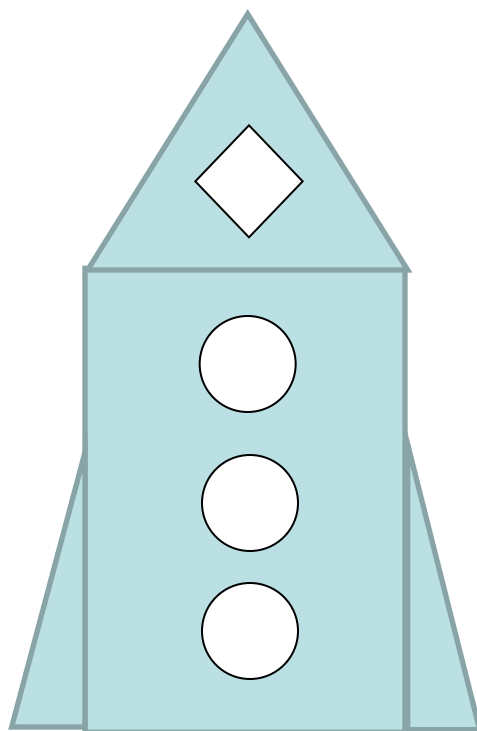


Знайдіть ракету.
Назвіть геометричні фігури.

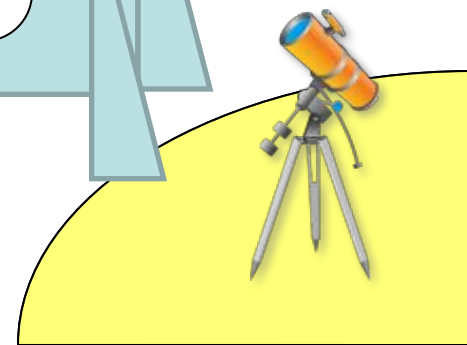
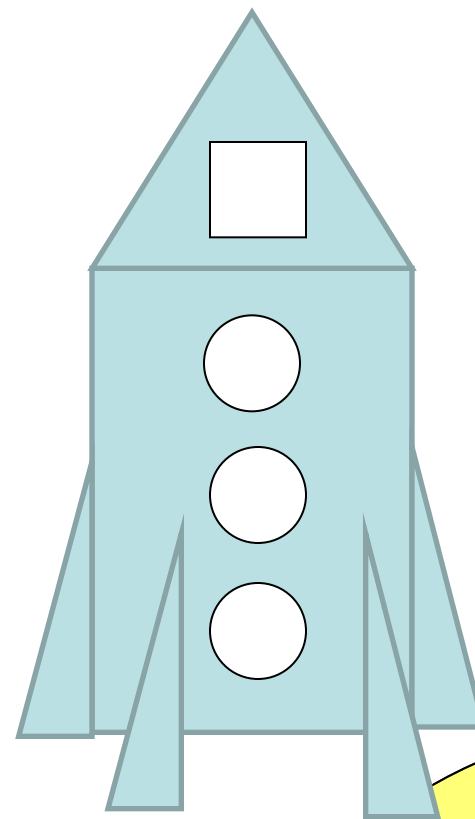
СОЮЗ



ВОСТОК




БУРАН



Тренування

- Порахувати від 10 до 20 у прямому порядку.
- Порахувати від 20 до 10 у зворотньому порядку.
- Яке число наступне для числа 12, 16?
- Яке число є попереднім для числа 17, 14?
- Назвіть «сусідів» числа 15, 18.
- Яке число більше 17 на 1?
- Яке число менше 11 на 1?
- Як утворити 16 із числа 14?
- Яке число більше: 14 чи 18?
- Перший доданок 10, другий доданок – 9. Назвіть суму.
- Зменшуване 18, від'ємник -8. Назвіть різницю цих чисел.
- Назвіть число, в якому 1 десяток і 3 одиниці.
- Миколі 4 роки. Таня старша від нього на 1 рік. Скільки років Тетянці?





Що є центром системи планет?

| | | | | |
|----------|----------|----------|----------|----------|
| 20 | 11 | 19 | 16 | 14 |
| Е | С | Ц | Н | О |

$$16 + 3 + 1$$

$$10 + 8 - 2$$

$$12 + 4 + 3$$

$$10 - 6 + 10$$

$$14 - 2 - 1$$

11 14 16 19 20

СОНЦЕ



Самостійна робота



18

9

13

10

3

18

16

2

4

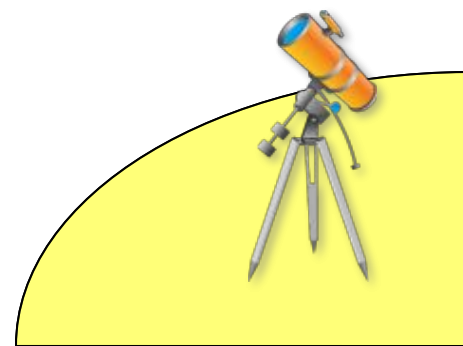
14


4

2

5

$$4 + 14 = 18$$





Веселі задачі



$$9 \rightarrow 7$$

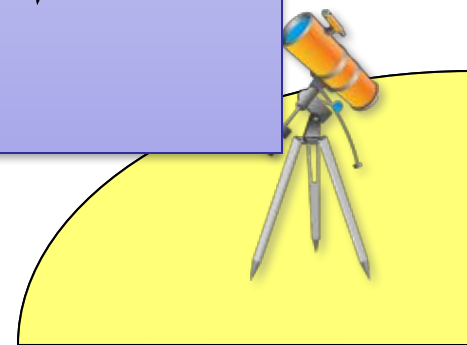



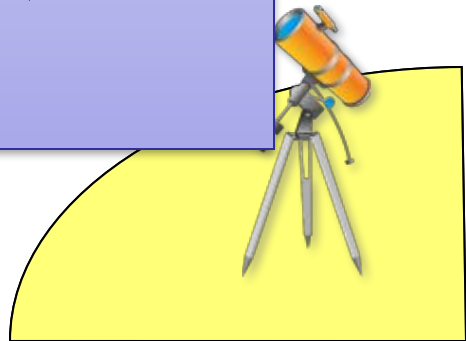

19 НА 4 МЕНШЕ





Знайди зірку





Повертаємось додому!

11 см

