The image depicts a classroom setting. At the top, a projector screen displays a map of the world, showing continents and oceans. Below the screen is a dark blue chalkboard. On the chalkboard, there are two purple rectangular boxes containing text. The top box contains the text 'Случаи сложения вида + 6.' and the bottom box contains 'Урок № 102'. At the bottom of the chalkboard, there are four pieces of chalk: a green one, a yellow one, a grey one, and a pink one.

**Случаи сложения  
вида + 6.**

**Урок № 102**

# УСТНЫЙ СЧЁТ





Собери примеры с ответом **13**.

$9 + 4$

$14 - 1$

$10 + 3$

$8 + 5$

$8 + 4$

$7 + 4$

$7 + 6$

$9 + 5$



После того как Лена съела **5** слив, на тарелке осталось **10** слив. Сколько слив было на тарелке?



**15** (слив)

$$5 + 10 = 15$$

(слив)





Бабушка испекла **6** пирожков с капустой и **10** пирожков с мясом. За обедом съели **4** пирожка. Сколько пирожков осталось?



12

$$6 + 10 - 4 = 12$$



Осенью на новой улице посадили **12** лип, а рябин на **10** меньше. Сколько посадили рябин?

2

$$12 - 10 = 2$$

Сколько всего деревьев посадили?

14

$$12 + 2 = 14$$

(деревьев)



# НОВЫЙ МАТЕРИАЛ



$$7 + 2$$

$$7 + 3$$

$$7 + 4$$

$$7 + 5$$

$$11 - 1$$

$$11 - 2$$


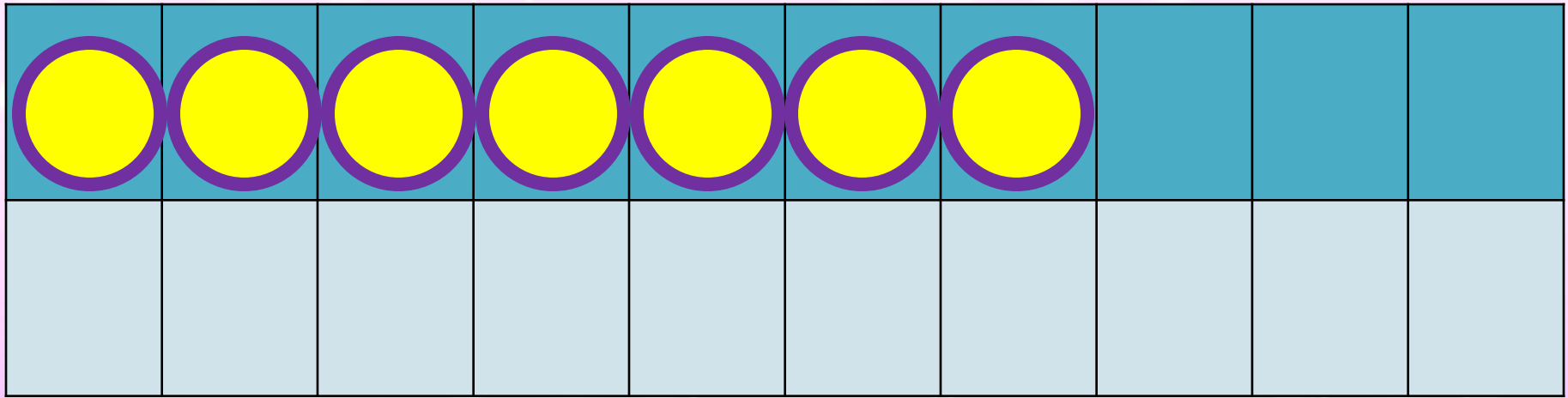
$$11 - 3$$

$$11 - 4$$



**Сравни выражения каждого столбика. Что вы заметили? Как изменяются значения выражений. Продолжи первый столбик. Как к  $7 + 6$  ?**


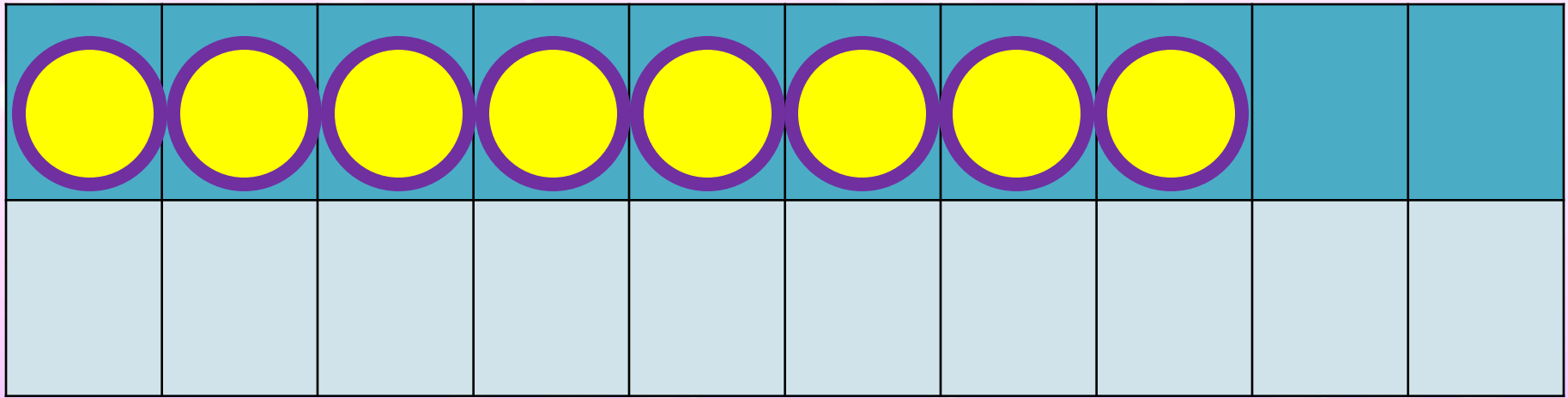




$$7 + 6$$

$$7 + 3 + 3$$





$$8 + 6$$

$$8 + 2 + 4$$





$$9 + 6 = 9 + \underline{\quad} + \underline{\quad} =$$

$$6 + 6 = 6 + \underline{\quad} + \underline{\quad} =$$



**Заполни пропуски.**

Увеличь на 6 числа.



5	7	4	3	8	9	10





**конец**

