



1 2 3

Математика 1 класс.

«Общий приём сложения
двузначных чисел с переходом
через десяток»

**Мы умные, мы дружные
Мы - внимательные,
мы – старательные.
Мы в 1 классе учимся и
всё у нас получится!**




**Над рекой летели птицы: голубь, щука,
2 синицы, 3 стрижа и 5 ежей. Сколько птиц,
ответь скорей?
(6 птиц, остальные не птицы).**



2 синиц
ы



3
стрижа



5
ежей

Сможет ли купить Коля машинки?



Цена: 30
рублей



Цена: 60
рублей



Минутка чистописания

-Найди лишнее число

6

8

15

9

Расскажите, всё что вы знаете о числе 15?

- Увеличьте на **2** числа: 11, 15, 17,18.

13	17	19	20
-----------	-----------	-----------	-----------

- Уменьшите на **3** числа:10,11,13,15

7	8	10	12
----------	----------	-----------	-----------

- Назовите соседей числа: **15, 18,11**

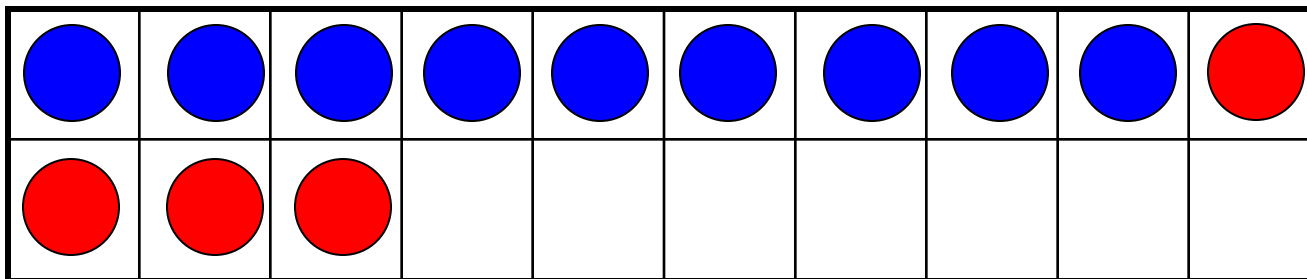
14 и 16

17 и 19

10 и 12

Сложи клубнику в тарелку





$$9+4$$

Как к 9 синим кружкам прибавить 4 красных?
Сначала дополним 9 до 10.

Сколько ещё осталось прибавить? 3

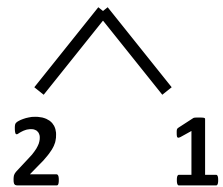
Почему 3?

Записать это можно так:

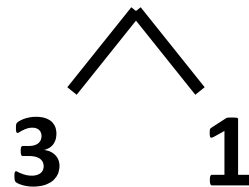
$$9+4= 10+3= 13$$

Вычисли с объяснением:

$$8+3=10+2=11$$



$$7+4=10+1=11$$



$$6+5=10+1=11$$



$$9+5=10+2=14$$



Физ. минутка

*На дворе мороз и ветер,
Во дворе гуляют дети.
Ручки, ручки согревают,
Ручки, ручки потирают.
Чтоб не зябли наши ножки,
Мы потопаем немножко.
Нам мороз не страшен,
Вот как мы теперь попляшем.*

Задача 1.

У обезьяны были бананы.

7 бананов она съела на обед, а 6 бананов оставила на ужин.

Сколько бананов было у запасливой обезьянки?



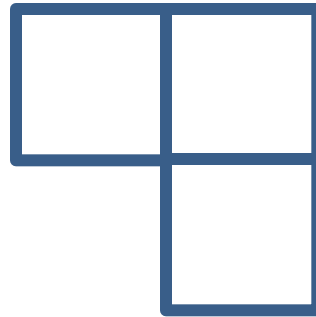

Проверка:

$$7+6=13(б.)$$

Ответ: у обезьянки было 13 бананов.

Игры с палочками

Из **10** палочек сложите **3** одинаковых квадрата



Итог урока

Как прибавить число по частям?

***Чтобы прибавить число по частям
нужно прибавить столько, сколько не
хватает до 10, а потом прибавить то,
что осталось.***

***Кто считает, что сегодня хорошо
потрудились?***

Задание:

- Учебник стр.65 34 (2,3 столбик), № 5
письменно, тетрадь стр. 33 все задания.