

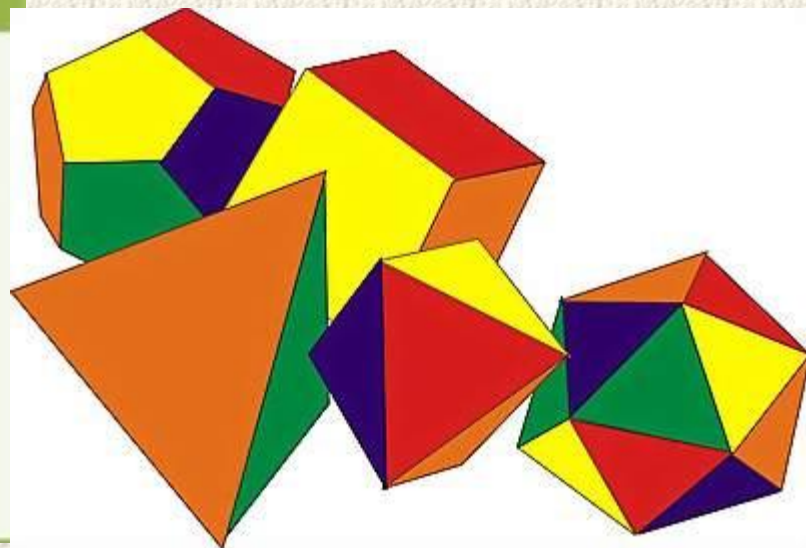
Геометрические тела и их изображение





ВЫ УЗНАЕТЕ

- Какие тела называют многогранниками
- Как изображают многогранники
- Термины, связанные с многогранниками



Нас окружает множество предметов. Они отличаются формой, размерами, материалом из которого изготовлены, окраской и другими качествами.





куб



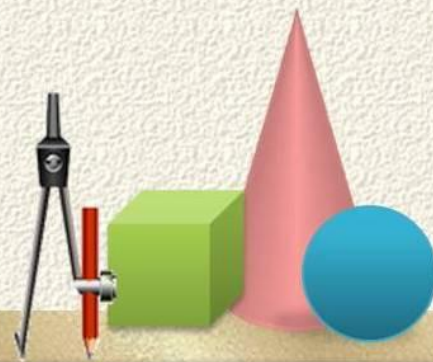
цилиндр



шар



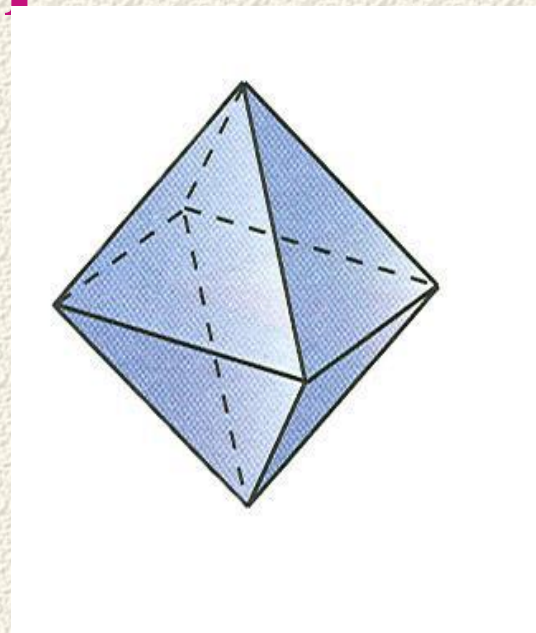
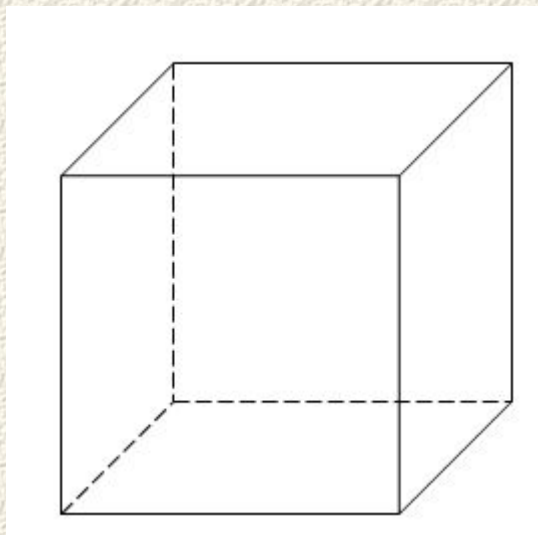
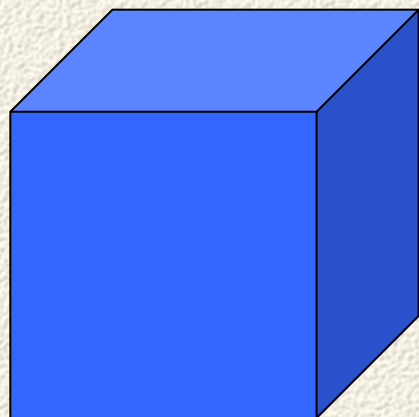
конус



Название	Что обозначает
КОНУС	Сосновая шишка (с греческого)
ЦИЛИНДР	Валик, каток (с греческого)
ШАР	Геометрическое тело, ограниченное сферой
СФЕРА	Мяч, шар (с греческого)
ПИРАМИДА	Огонь, костёр (с греческого)



Изображение многогранников



Линии, которые изображаются на рисунка пунктиром называются **невидимыми**, так как они скрыты от наших глаз.



Чтение текста с пометками


(работа с учебником, стр. 186)

+ я это знал

- я этого не знал

! это меня удивило

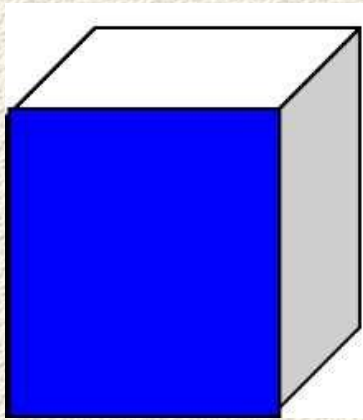
? хотел бы знать подробнее



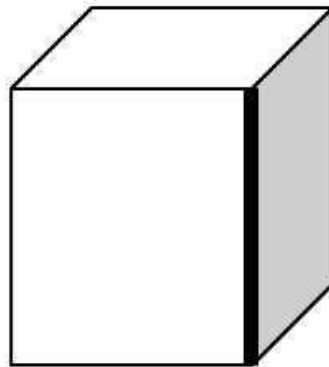
Задание 1. Среди геометрических тел, изображенных на рисунке, выберите многогранники



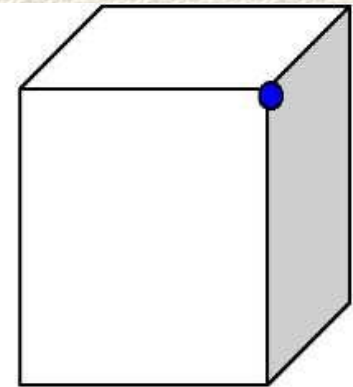
Задание 2. Подпишите названия выделенных элементов многогранника




1)



2)



3)



Задание №3(работа с учебником)

Рис. 10.2	а)	б)	в)	г)	д)	е)
Число граней и форма						
Число ребер						
Число вершин						



Физкультминутка!







Домашнее задание

У: стр. 186-187, 1, 2 фрагмент – читать;
№ 679, 681, 682, 674 выполнить в тетради,
сфотографировать и прикрепить.



Спасибо за урок!

