

Зарубежная Азия /ВИЗИТНАЯ КАРТОЧКА/



11 «А» класс, ШК. № 1073

Учитель Кузнецов Н.К.

Страны Азии

- На территории Азии к настоящему времени полностью или частично расположено **54** государства, из них четыре (Абхазия, Китайская Республика(Тайвань), Турецкая Республика Северного Кипра, Южная Осетия) признаны только частично. Из непризнанных государств — Нагорно-Карабахская Республика.

Зарубежная Азия ~4,100,000,000 чел.

1,353,601,000



1,258,351,000



244,769,000



Китай, Индия, Индонезия, Пакистан, Бангладеш,
Япония и Филиппины

179,951,000



152,409,000



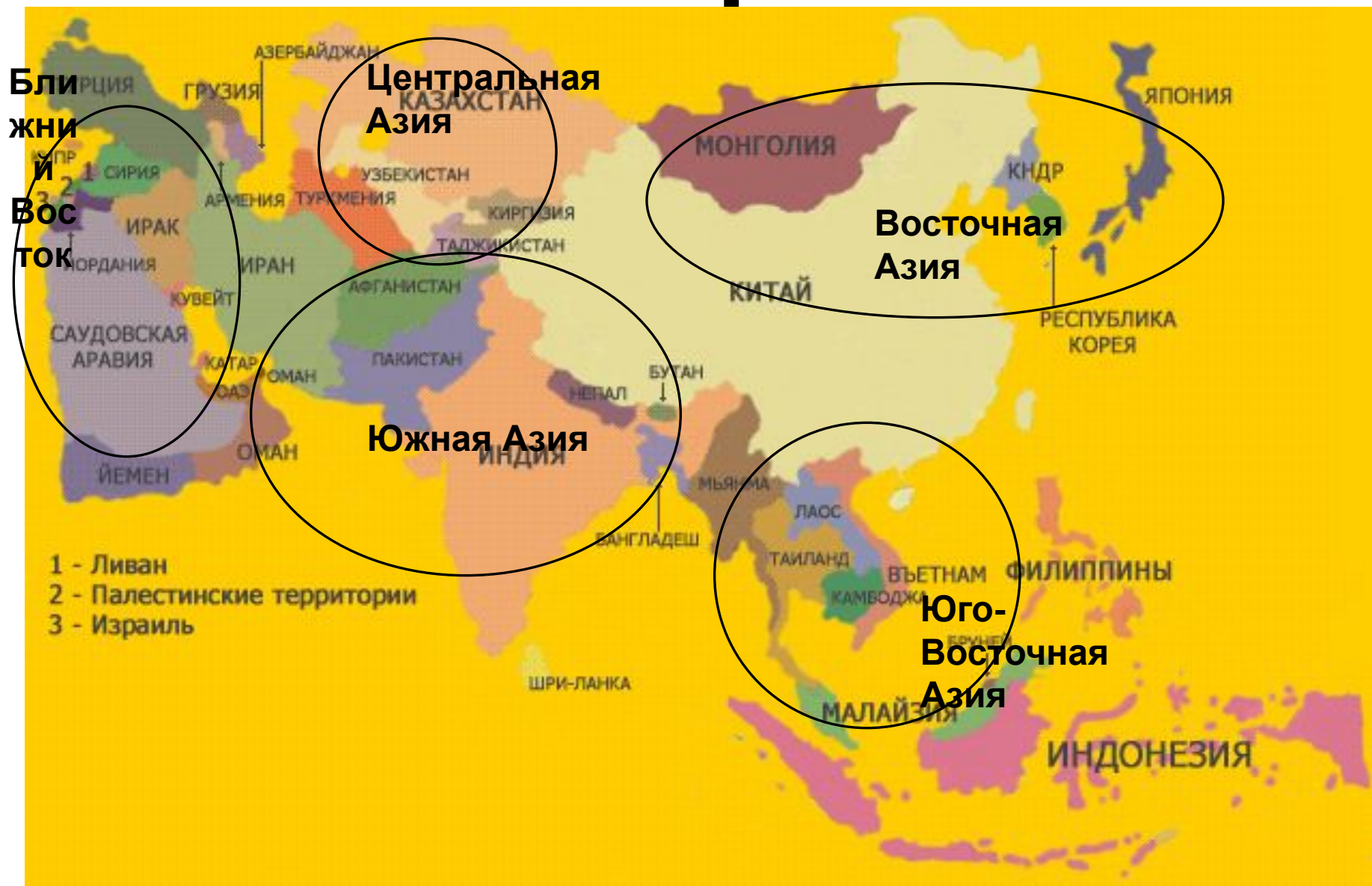
126,435,000



96,471,000



Основные регионы



Назови регионы



1



2



- Ближний Восток
- Центральная Азия
- Восточная Азия
- Юго-Восточная Азия
- Южная Азия






5



3

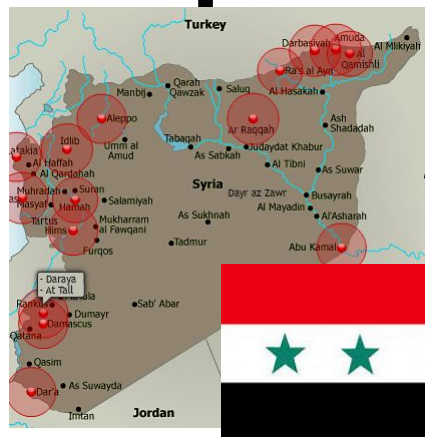
Азия- центр цивилизаций



Азия- сложный геополитический регион



регион



Запиши !

Основные народы Азии



китайцы- ханьцы

японцы



индусы- хинди



тайцы



персы



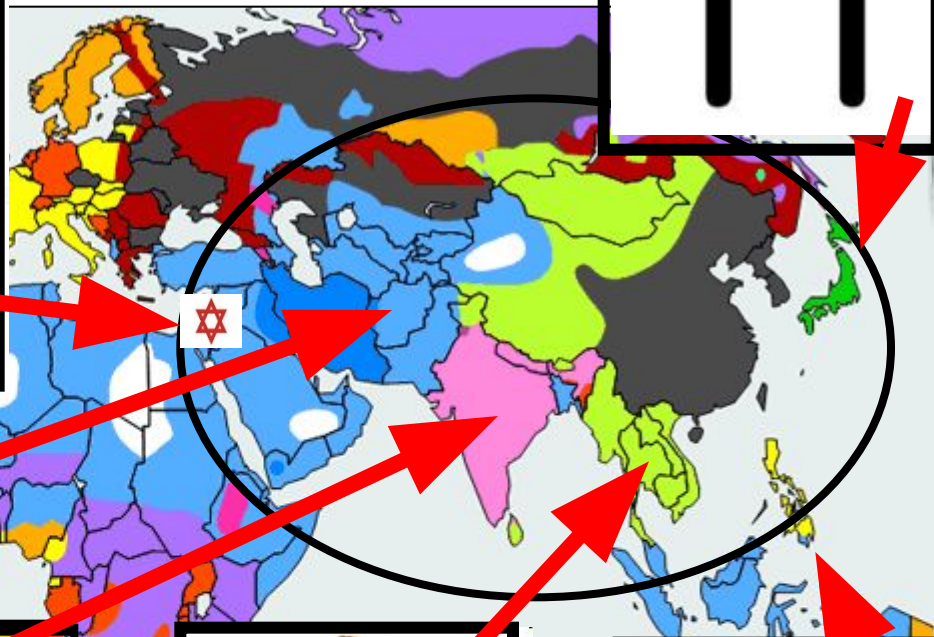


индонезийцы


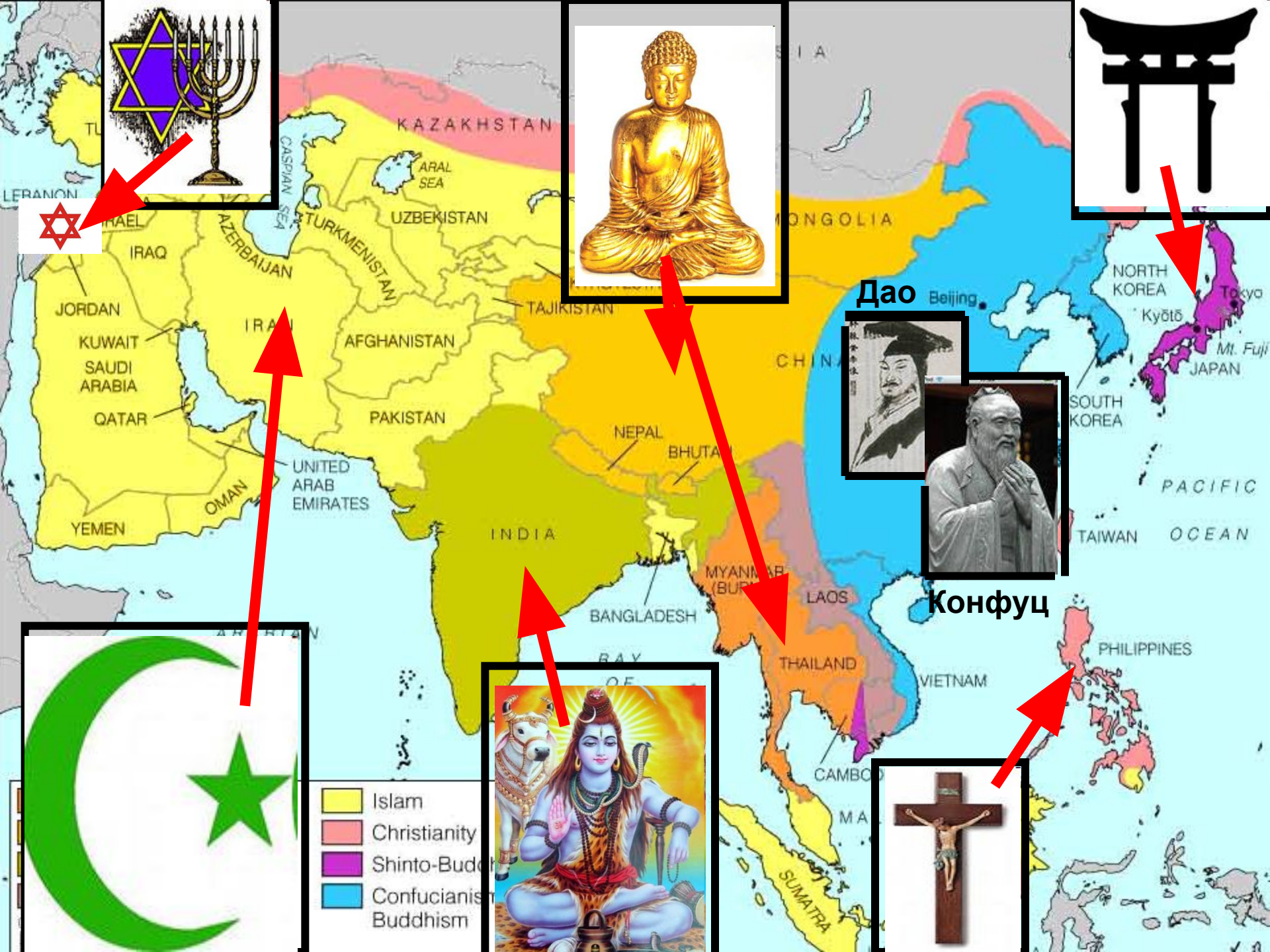


Религии Азии

Попробуй
назвать
религии и
страны
испове-
дующие их



- **На следующем слайде найди отличие от предыдущего и попробуй объяснить это**



Dao



Конфуц



- Islam
- Christianity
- Shinto-Buddhism
- Confucianism
Buddhism



Внимательно прочитай и попробуй сделать какой-либо вывод:

Абак, Доменная печь (сталь), Книгопечатание
Бронза, Штанген-инструмент, Часы, Компас,
Арбалет

Сухой док, Веер, Фейерверк и ракета,
Рыболовный крючок

Порох, Планер, Граната, Воздушный шар,
Воздушный змей

Лак, Спички, Бумага, Бумажные деньги, Парашют
Поршневой насос, Фарфор, Пропеллер

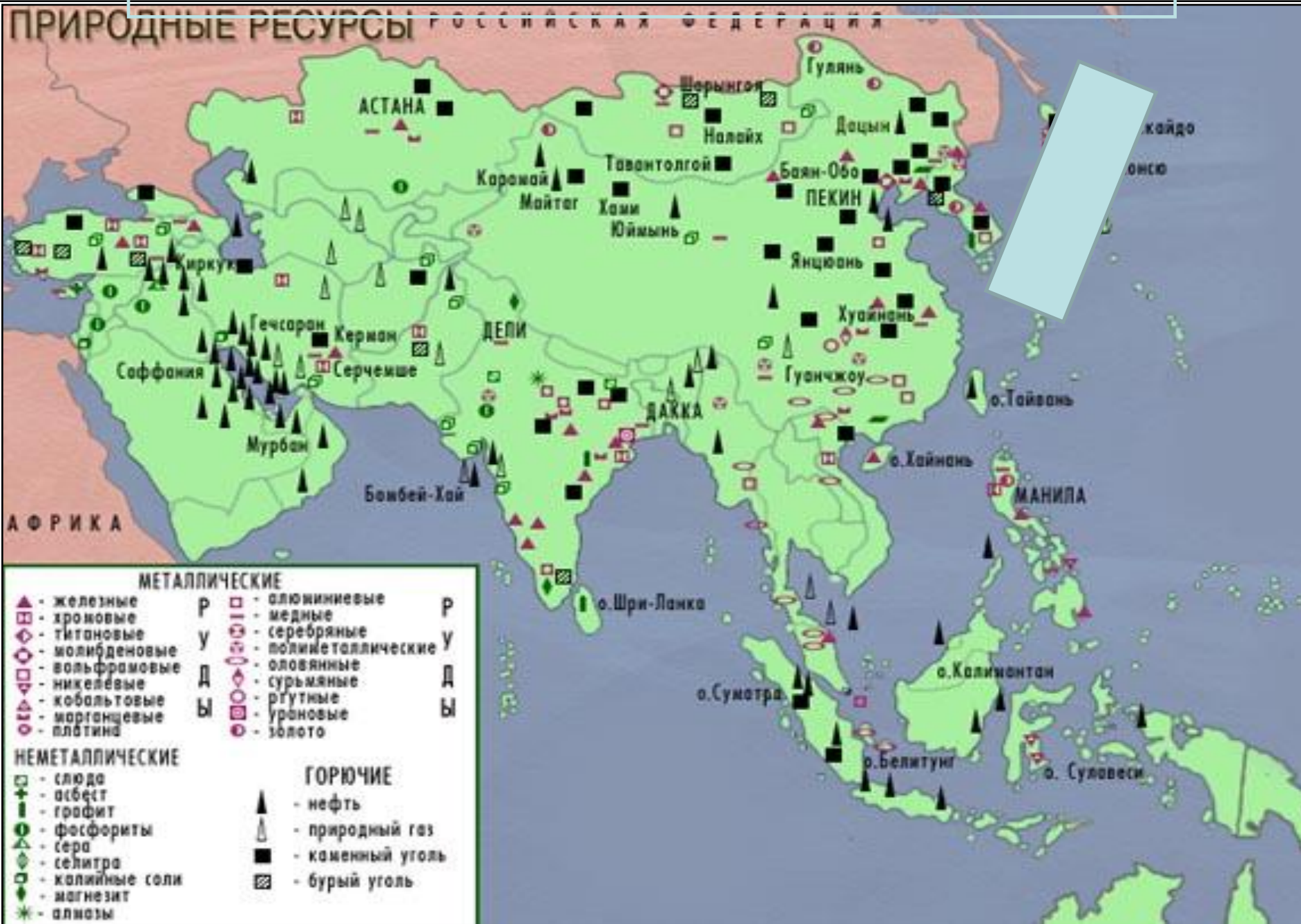
Рельефная карта, Винт, Сейсмограф

Шёлк, Висячий мост, Туалетная бумага, Зубная
щётка

Зонт, Тачка, Виски (как медицинский препарат)

И ЭТО ВСЁ-
Китай

ПРИРОДНЫЕ РЕСУРСЫ ЗАРУБЕЖНОЙ АЗИИ



ПРИРОДНЫЕ РЕСУРСЫ ЗАРУБЕЖНОЙ АЗИИ

В пределах Китайской и Индийской платформ сосредоточены бассейны каменного угля, железной и марганцевой руд.

В пределах Альпийско-Гималайского и Тихо-океанского складчатых поясов преобладают руды цветных и редких металлов.

Мирового значения запасы железной и марганцевой руд залегают в недрах Индии, хромитов - Турции и Филиппин. От Мьянмы до Индонезии протянулся крупнейший в мире олово-вольфрамовый пояс.

Главное богатство региона, определяющее его роль в международном географическом разделении труда - это нефть.

В области Персидского залива расположена одна из крупнейших в мире нефтегазоносных провинций (Иран, Ирак, Саудовская Аравия, Кувейт, Бахрейн, ОАЭ, Катар. Крупные запасы нефти и газа имеются в Индонезии, Мьянме. Перспективные месторождения обнаружены в шельфовой зоне морей, омывающих полуостров Индостан и Малайский архипелаг.

Домашнее задание:

- тема 7 § 1 стр.201-203,
задан. № 1,2,3 на
стр.236-237; К/К – показать
нефтегазоносные регионы:
страны , название,
столица, значки полезн.
Ископ.**