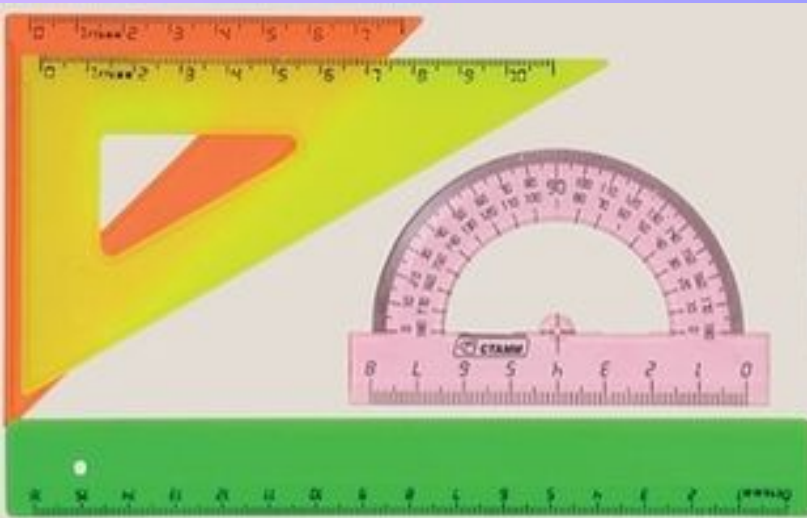


# Урок математики 1 класс

# Дециметр



**Математика нас ждет!**

**Начинаем**

***устный счет!***

# Устный счёт

Уменьшаемое	10	<b>6</b>	9	8	7
Вычитаемое	4	6	3	<b>6</b>	<b>6</b>
Разность	<b>6</b>	0	<b>6</b>	2	1






Чтобы найти уменьшаемое, нужно к вычитаемое прибавить разность.

Чтобы найти вычитаемое, нужно из уменьшаемого вычесть разность.

# Будь внимателен!

В саду росли 2 березы, 4 яблони, 5 вишен.  
Сколько всего фруктовых деревьев росло в саду?  
**9 фруктовых деревьев**

Сестре 9 лет, брату 3 года. На сколько сестра будет старше брата через пять лет?  
**на 6 лет сестра старше брата**



# Логическая задача



**Угадайте, в какой клетке живёт каждый зверь,  
если в 12-й клетке живёт лев,  
слева от него – бегемот, а справа слон?**

# Проверь себя!




1

1



12



13

***Сколько десятков и единиц в каждом из этих чисел?***

# Арифметический

## ДИКТАНТ

1 дес. 7 ед. =

1 дес. 2 ед. =

1 дес. 5 ед. =

1 дес. 9 ед. =

1 дес. 1 ед. =

1 дес. 8 ед. =

1 дес. 4 ед. =

2 дес. 0 ед. =



# Взаимопроверка

17 12 15 19 11 18 14 20

!

+

-



**1. Папа держал чемодан,  
масса которого 11**

**2. В ведро вмещается  
воды 10**

3. Ученик начертил  
в тетради отрезок  
длиной 1

Расставь цифры по  
возрастанию. Какое слово  
получится?

17	12	15	19	11	18	14	20
м	е	и	т	д	е	ц	р

11	12	14	15	17	18	19	20
д	е	ц	и	м	е	т	р

Что такое дециметр?

$$10 \text{ см} = 1 \text{ дм}$$

$$1 \text{ дм} = 10 \text{ см}$$

# Самостоятельная работа:

**Измерь длину и ширину  
обложки учебника в  
сантиметрах.**

**Сколько это дециметров и  
сантиметров?**

# Работа с учебником

1. Реши примеры

Страница 53 №1

2. Страница 53 № 2 (реши задачу сразу в 2 действия)

***СПАСИБО ЗА РАБОТУ!***