

Школа России



Научный руководитель комплекта,
кандидат педагогических наук –



Андрей Анатольевич Плешаков.

Программа “Школа России”
разработана
в России и для России

Принципы обучения

Фундаментальность:



Преемственность
и перспективность

Деятельностный
подход

Надежность
и стабильность

Доступность
и вариативность

Немного из прошлого...



УМК "Школа России" включает в себя
завершенные линии учебников по всем
основным предметам начального
образования:
(УМК представлены на информационном
стенде)




ПРОСВЕЩЕНИЕ
ИЗДАТЕЛЬСТВО





Карточка-"помогайка" "ученых-географов"

- Где расположена зона лесов?
- Расскажи о природных условиях в зоне лесов.
- Как меняется характер лесов с севера на юг?
- Какая зима? Какое лето?
- Сравни тайгу и смешанные широколиственные леса.

 **Проведите опыт!** Положите ладонь на горло и попеременно произносите звонкий и глухой согласные звуки. При произнесении какого звука вы чувствуете дребезжание (вибрацию) голосовых связок: глухого или звонкого? По какому ещё признаку можно отличить глухой согласный звук от звонкого согласного?

По страницам учебников

ГОТОВИМСЯ К ОЛИМПИАДЕ

Задания конкурса «Смекалка»

1. Восстанови пропущенные цифры.

$$\square 8 - 4 \square = 28$$

$$3 \square + \square 9 = 59$$

$$\square 7 + 2 \square = 70$$

$$8 \square - \square 7 = 21$$

2. Таня старше Оли на 4 года и старше Юры на 5 лет. Кто моложе: Оля или Юра?

3. Дима живёт на втором этаже. Никита живёт в том же подъезде, что и Дима, но он проходит по лестнице до своей квартиры в 2 раза больше ступенек. На каком этаже живёт Никита? Ступенек до первого этажа нет.

4. В огороде есть грядки с луком, укропом и редисом. Грядок с луком больше, чем с укропом, но меньше, чем с редисом. Каких грядок в огороде больше всего?

5. Красных шаров было на 7 меньше, чем жёлтых, а зелёных шаров — на 10 больше, чем красных. На сколько меньше было жёлтых шаров, чем зелёных?

6. Начерти 2 разных прямоугольника так, чтобы периметр каждого был равен 20 см. Какие ещё прямоугольники с таким периметром могут быть? Запиши длины их сторон в сантиметрах.

7. Сева, Дима, Максим и Рома участвовали в велогонке и заняли первое, второе, третье и четвертое места. Определи, кто какое место занял, если:
Сева не был первым и последним;
Максим был вторым;
Рома не был первым.

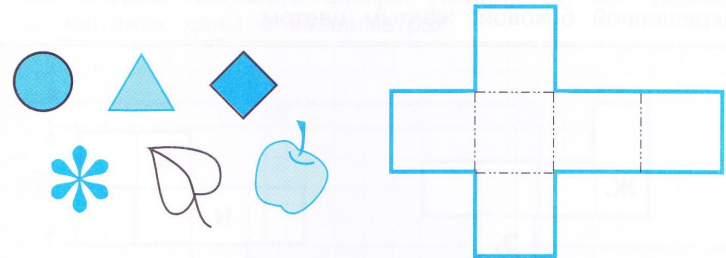


Развивающие задания

Найди развёртки, из которых можно сложить одинаковые кубики



2. На развёртке куба нарисуй заданные фигуры и предметы так, чтобы на противоположных гранях располагались: круг и треугольник; цветок и квадрат; лист и яблоко.



3. Из 20 счётных палочек выложи фигуру, как на рисунке. Какое наименьшее число палочек надо переложить, чтобы получилось 7 равных квадратов? Выполни задание и зарисуй результат.





**УМК «Школа России» обеспечивает
преимущество с дошкольным и
перспективность с основным общим
образованием.**



Портрет выпускника начальной школы

ШКОЛЫ

- Уважающий ценности
- Любящий свой народ
- Деятельный, активный, инициативный
- Умеющий учиться
- Способный отвечать за свои поступки
- Выполняющий правила дорожного движения и безопасного образа жизни

