

Начинаем с вами новую главу под названием:  
«Древняя Греция»

Тема:  
«Греки и критяне»

Предположите, что войдёт в круг нашего с  
вами урока?

- 1. География Греции**
- 2. Первые мифы**
- 3. Когда появилась**
- 4. Какие города были**
- 4. Занятия жителей Греции**

# География (стр. 115)



Находится: на  
Балканском  
полуострове

Моря: Ионическое  
и Эгейское



Греция находилась в горной местности



Полноводных рек, как в Двуречье в Греции не было

Если земледелием в горной местности  
заниматься нельзя то тогда чем же  
можно?



Посмотрите на картинку и определите





# Гончарным ремеслом




# Садоводством





# Ткачеством





# Кузнечным делом



# Занятия Древних Греков



Ремёсло  
(Кузнечное,  
гончарное,  
ткацкое)



Садоводство


Откройте карту на стр. **117** и попробуйте найти такие древние города Греции как: Микены, Тиринф, Пилос, Афины



**3.5** тыс. лет назад – появление первых городов в Греции




Но все эти маленькие городишки были  
подчинены власти жителей Крита



Дворец в городе  
Кносс

# Что позволило Криту стать лидером?



Они имели очень мощный торговый и военный флот





**Тесей и Минотавр.  
Рисунок на  
критской вазе**

**Одним из самых  
известных мифов  
посвященных Криту  
был миф о Тесее и  
Минотавре**

**В нем афиняне отразили  
свой страх перед  
разрушительными  
природными  
катастрофами.**

## **ЗАДАНИЕ!**

**Получаете раздаточный  
материал и знакомимся с  
текстом первого мифа на  
стр. **116-118**  
(п. **1** параграфа)**






**В XV в. до н.э Критская цивилизация**  
**погибла из-за взрыва вулкана**



**Было уничтожено всё,  
но остались только  
таблички, которые  
никто не может  
разгадать**



# Закрепление

**1.** *Выберите правильный ответ.*

Большую часть Греции покрывают:

- а) крутые обрывистые горы
- б) плодородные равнины
- в) огромные пустыни

**2.** *Найдите лишнее*

**3.5** тыс. лет н.э. греческие племена жили:

- а) на островах Эгейского моря
- б) на восточном побережье Средиземного моря
- в) в южной части Балканского полуострова
- г) в западной части полуострова Малая (Передняя) Азия



## Закрепление

**3.** *Выберите правильный ответ.*

Где находится Греция:

- а) в южной части Балканского полуострова
- б) в западной части Азии
- в) в Восточной части Африки

**4.** *Найдите лишнее.*

Какими морями омывается территория Греции:

- а) Ионическим
- б) Красным
- в) Эгейским

**5.** *Назовите принцип, объединяющий эти слова.*

Памятники письменности Двуречья и Микен:

- а) не расшифрованы
- б) представлены в виде глиняных табличек
- в) покрыты клинописью

## Домашнее задание

**§24 (включая записи в простой тетрадке). Готовимся к проверочной**