

Второй этап Республиканской олимпиады по учебному предмету
«География» 2014/2015 учебный год.

МУЛЬТИМЕДИЙНЫЙ ТЕСТ

11 КЛАСС

Уважаемый участник олимпиады!

На выполнение заданий мультимедийного теста олимпиадной работы отводится 1 час (60 минут).

Ты имеешь право воспользоваться интерактивными возможностями пакета PowerPoint (уменьшать и увеличивать рисунки и фотографии; просматривать слайды в произвольном порядке и в свободном ритме и т.п.).

Ответы на задания мультимедийного теста необходимо вписать в предлагаемый бланк ответов.

По результатам мультимедийного тестирования Вы можете получить максимум 50 баллов.

ЖЕЛАЕМ ТЕБЕ УДАЧИ!

Вопрос 1. Кто из перечисленных путешественников исследовал наиболее северные районы России?



А) Н. Пржевальский



Б) Ермак



В) И. Черский



Г) И. Москвитин

Вопрос 2. Бессточные озера, как правило, соленые. А как объяснить то, что озеро Чад – пресное, хотя из него не вытекает ни одной реки?

- А) Пресные воды поступают с атмосферными осадками**
- Б) Высоким испарением**
- В) Низким содержанием солей в водах реки Шари**
- Г) Наличием подземного стока**



Вопрос 3. Какое из этих морей расположено преимущественно на земной коре океанического типа?

- А) Саргассово
- Б) Белое
- В) Чукотское
- Г) Балтийское




Вопрос 4. В какой стране столица не является крупнейшим по численности населения городом?

- А) Иран**
- Б) Пакистан**
- В) Индонезия**
- Г) Бангладеш**



Вопрос 5. В 2012 году этот столичный город – резиденция монарха – вошел в список Всемирного наследия ЮНЕСКО. Он известен минаретом XI века. О каком городе идет речь?

- А) Триполи**
- Б) Бейрут**
- В) Медина**
- Г) Рабат**



Вопрос 6. С эпохой Великих географических открытий связано:

- А) имя Марко Поло
- Б) достижение Северного полюса
- В) первое кругосветное плавание
- Г) открытие Антарктиды



Вопрос 7. Для природной зоны саванн характерно:

- А) постоянно полноводные реки
- Б) древесная растительность
- В) Зимние температуры 5-10°C
- Г) красные и бурые почвы



Вопрос 8. Дерново-подзолистые почвы формируются под:

- А) широколиственными лесами
- Б) хвойными лесами
- В) смешанными лесами
- Г) саваннами



Вопрос 9. Горная река не формирует


- А. каньон**
- Б. пойму**
- В. русло**
- Г. порог**



Вопрос 10. Найти соответствие

- А) Австрия
- Б) Франция
- В) Италия
- Г) Чехия

1



3



2



4



Вопрос 11. какой тип из изображенных на фото электростанций наименее распространен в мире

А)



Б)



В)



Г)



Вопрос 12. найти соответствие стран и сувениров из них:

- А) Германия
- Б) Франция
- В) Болгария
- Г) Греция
- Д) Швейцария

1



2



3




4



Вопрос 13. Найдите соответствие имен великих географов и их фотографий

- А) А. Гумбольдт
- Б) Э. Реклю
- В) Н.М. Пржевальский
- Г) К. Риттер



Вопрос 14. Государство в Северной Европе с наиболее высоким уровнем урбанизации?



Вопрос 15. Назовите самый крупный в мире алмаз?



Вопрос 16. Определите объект историко-культурного наследия Беларуси, где он размещен?



Вопрос 17. Какие острова терпят наибольшие убытки от тайфунов

- А) Японские
- Б) Новая Зеландия
- В) Новая Земля
- Г) Сицилия



Вопрос 18. Какая из перечисленных агломераций является наиболее крупной по численности населения

- А) Стамбул**
- Б) Лондон**
- В) Пекин**
- Г) Мехико**



Вопрос 19. Что общего у городов, гербы которых изображены на экране




Вопрос 20. Мировым лидером по производству кофейных зерен является

- А) Йемен
- Б) Эфиопия
- В) Бразилия
- Г) Колумбия



Вопрос 21. Название какого государства в Азии является составным и происходит от топонима в сочетании с производным от греческого слова «несос», означающего «остров». Назовите это государство.

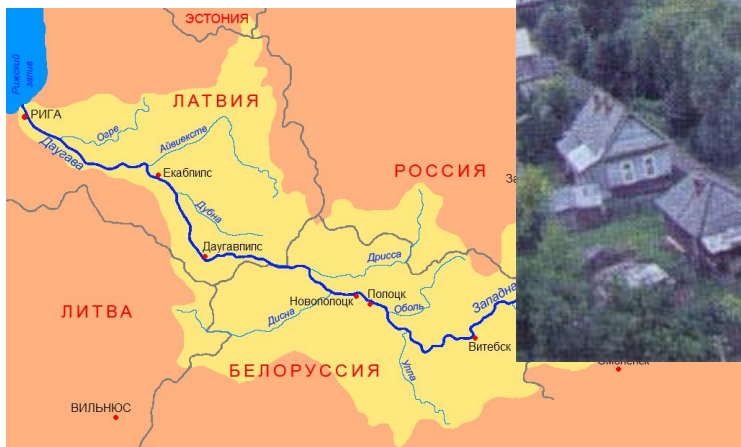


Вопрос 22. Горы Саяны расположены вдоль границы России с этим государством:

- А) Китай**
- Б) Монголия**
- В) Казахстан**
- Г) КНДР**



Вопрос 23. Назовите реку в Беларуси, берущую начало на Валдайской возвышенности и впадающую в Рижский залив. Укажите другие название(я) этой реки в пределах других государств.



Вопрос 24. Гербы каких городов относятся к Гомельской области.

Дополнительно. Дайте подписи всем городам, гербы которых Вы видите.

А



Б



В



Г



Д



Вопрос 25. Установите соответствие между промышленными центрами РБ и товарами, производимыми в них.

- А) Барановичи**
- Б) Лида**
- В) Полоцк**
- Г) Орша**

1



2



3



4




Вопрос 26. По очертаниям определите острова и определите их государственную принадлежность.

А



Б



В




Вопрос 27. Соседом второго порядка России не является:

- А) Швеция
- Б) Бангладеш
- В) Таджикистан
- Г) Чехия

РОССИЙСКАЯ ФЕДЕРАЦИЯ. ФЕДЕРАТИВНОЕ УСТРОЙСТВО



Вопрос 28. Определите, панорамы какого города изображены на фото:



Вопрос 29. Определите государство



Спасибо за участие