

ОНЛАЙН-ЗАНЯТИЕ

# ВНЕШНЯЯ ПОЛИТИКА БРЕЖЖНЕВА



УЧИТЬСЯ, УЧИТЬСЯ И УЧИТЬСЯ

СУББОТА 17:00

# ОСОБЕННОСТИ ВНЕШНЕЙ ПОЛИТИКИ

- продолжение холодной войны
- обострение отношений с Западом
- обострение отношений с Китаем
- гонка вооружений



# ОСОБЕННОСТИ ВНЕШНЕЙ ПОЛИТИКИ

- сохранение существующего порядка в Вост. Европе
- «Разрядка» с Зап. Европой
- неудача политики «разрядки»,  
НОВЫЙ ВИТОК ХОЛОДНОЙ ВОЙНЫ



# **ОСОБЕННОСТИ ВНЕШНЕЙ ПОЛИТИКИ**

**1969 - предложение стран  
Варшавского договора о  
проведении общеевропейского  
совещания по безопасности и  
сотрудничеству**

# **ОСОБЕННОСТИ ВНЕШНЕЙ ПОЛИТИКИ**

**1970 - Советско-западно-германский договор о признании послевоенных границ в Европе, отказ от применения силы**

# ОСОБЕННОСТИ ВНЕШНЕЙ ПОЛИТИКИ


1971 - соглашение по Западому  
Берлину: отказ от применения силы



# ОСОБЕННОСТИ ВНЕШНЕЙ ПОЛИТИКИ

## 1972 - визит Ричарда Никсона в СССР

- 1) подписание договора о взаимоотношениях
- 2) договор об ограничении систем противоракетной обороны
- 3) договор об ограничении стратегически наступательного вооружения



# ОСОБЕННОСТИ ВНЕШНЕЙ ПОЛИТИКИ

## 1973 - визит Брежнева в США

### Договор о предотвращении ядерной войны





# ХЕЛЬСИНСКОЕ СОГЛАШЕНИЕ - 1975

- 1) Закрепление итогов Второй мировой войны
- 2) Изложение принципов взаимоотношений между странами-участницами
- 3) Неприменение силы и угрозы силой
- 4) Территориальная целостность государств
- 5) Невмешательство во внутренние дела государств
- 6) Мирное урегулирование споров
- 7) Уважение прав и свобод человека



# ОСОБЕННОСТИ ВНЕШНЕЙ ПОЛИТИКИ

## Вьетнамская война 1964 - 1975

- война между Северным и Южным Вьетнамом



# ОСОБЕННОСТИ ВНЕШНЕЙ ПОЛИТИКИ

## Вьетнамская война 1964 - 1975

### Итоги:

- снижение влияния США
- усиление Вьетнама
- появление антивоенных движений

# **ОСОБЕННОСТИ ВНЕШНЕЙ ПОЛИТИКИ**

## **Арабо-Израильская война 1967**

**- военное столкновение между  
Израилем и Египтом, Сирией,  
Иорданией, Алжиром**

# ОСОБЕННОСТИ ВНЕШНЕЙ ПОЛИТИКИ

## Индо-Пакистанский конфликт 1971



# ОСОБЕННОСТИ ВНЕШНЕЙ ПОЛИТИКИ

## Война в Афганистане 1979-1989

25 декабря 1979 год - введение советских войск

Четыре этапа:

- 1) 1979 - 1980 - ввод советских войск в страну
- 2) 1980-1985 - боевые действия по всей стране
- 3) 1985-1987- «политика национального перемирия»
- 4) 1988 - вывод советских войск

# ОСОБЕННОСТИ ВНЕШНЕЙ ПОЛИТИКИ

«Пражская весна» - 1968

Александр Дубчек и его реформы:

- 1) введение рыночных механизмов
- 2) введение самоуправления предприятий
- 3) альтернативность выборов
- 4) право народа на информацию



# ОСОБЕННОСТИ ВНЕШНЕЙ ПОЛИТИКИ

1968 - введение войск Варшавского договора на территорию Чехословакии






# ОСОБЕННОСТИ ВНЕШНЕЙ ПОЛИТИКИ

1968 - доктрина Л.И. Брежнева

1) необходимость экономической интеграции Восточной Европы

2) Ограничение суверинетета экономики соц. стран

3) Увеличение роли СССР в странах социализма



## Юрий Владимирович Андропов (1982-1984)

- борьба с коррупцией
- укрепление трудовой дисциплины
- увеличение мер наказаний за уголовные преступления
- «чистка и обновление» партаппарата
- сокращение штата партийного руководства



# Константин Устинович Черненко (1984-1985)

- борьба с теневой экономикой
- попытки политической реабилитации Сталина
- свёртывание борьбы против коррупции



Расположите в хронологической последовательности исторические события. Запишите цифры, которыми обозначены исторические события, в правильной последовательности в таблицу.

- 1) реформы П. А. Столыпина
- 2) начало Семилетней войны
- 3) провозглашение Наполеона Бонапарта императором Франции

Установите соответствие между событиями и годами: к каждой позиции первого столбца подберите соответствующую позицию из второго столбца.

### СОБЫТИЯ

А) битва на реке Калка

Б) разорение монголо-татарами Киева

В) сражение на реке Воже

Г) набег на Москву хана Тохтамыша

### ГОДЫ

1) 1223 г.

2) 1240 г.

3) 1242 г.

4) 1378 г.

5) 1382 г.

6) 1410 г.

Ниже приведён перечень терминов. Все они, за исключением двух, отражают процесс закрепощения крестьян в XV—XVII вв.

- 1) пожилое
- 2) Соборное уложение
- 3) Табель о рангах
- 4) заповедные лета
- 5) Уложенная комиссия
- 6) Юрьев день

Найдите и запишите порядковые номера терминов, появление которых относится к другому историческому периоду.

Напишите пропущенное слово.

Промышленный переворот в России в XIX в. характеризуется переходом от \_\_\_\_\_ к фабрике.

Установите соответствие между процессами (явлениями, событиями) и фактами, относящимися к этим процессам (явлениям, событиям): к каждой позиции первого столбца подберите соответствующую позицию из второго столбца.

### ПРОЦЕССЫ (ЯВЛЕНИЯ, СОБЫТИЯ)

- А) монгольское нашествие
- Б) новая экономическая политика
- В) усиление влияния России на Балтике
- Г) раскол в Русской православной церкви

### ФАКТЫ

- 1) объединение Новгорода и Киева под властью Олега
- 2) Соловецкое восстание
- 3) Прутский поход
- 4) замена подрядверстки подрядналогом
- 5) битва на реке Сить
- 6) победа в Северной войне



Какие три из перечисленных событий (явлений) российской истории относятся к XVII в.? Запишите в таблицу цифры, под которыми они указаны.

- 1) введение бумажных ассигнаций
- 2) формирование всероссийского рынка
- 3) появление первых мануфактур
- 4) отмена внутренних таможенных пошлин
- 5) начало промышленного переворота
- 6) законодательная защита отечественных купцов от иностранной конкуренции

Заполните пропуски в данных предложениях, используя приведённый ниже список пропущенных элементов: для каждого предложения, обозначенного буквой и содержащего пропуск, выберите номер нужного элемента.

- А) Приказ № 227 («Ни шагу назад!») был издан во время \_\_\_\_\_ битвы.  
В) Одним из участников водружения Знамени Победы над Рейхстагом был \_\_\_\_\_ .  
В) Частичный прорыв блокады Ленинграда произошёл в январе \_\_\_\_\_ .

Пропущенные элементы:

- 1) 1943 г.
- 2) М. В. Кантария
- 3) Московской
- 4) Сталинградской
- 5) 1942 г.
- 6) И. В. Панфилов

Установите соответствие между именами современников: к каждой позиции первого столбца подберите соответствующую позицию второго столбца.

## ИМЕНА

- А) царь Иван IV
- Б) императрица Елизавета Петровна
- В) император Пётр I
- Г) царь Алексей Михайлович

- 1) И. Шувалов
- 2) А. Курбский
- 3) Б. Хмельницкий
- 4) И. Мазепа
- 5) Сергей Радонежский

Заполните пустые ячейки таблицы, используя представленные в приведённом ниже списке данные. Для каждой ячейки, обозначенной буквами, выберите номер нужного элемента.

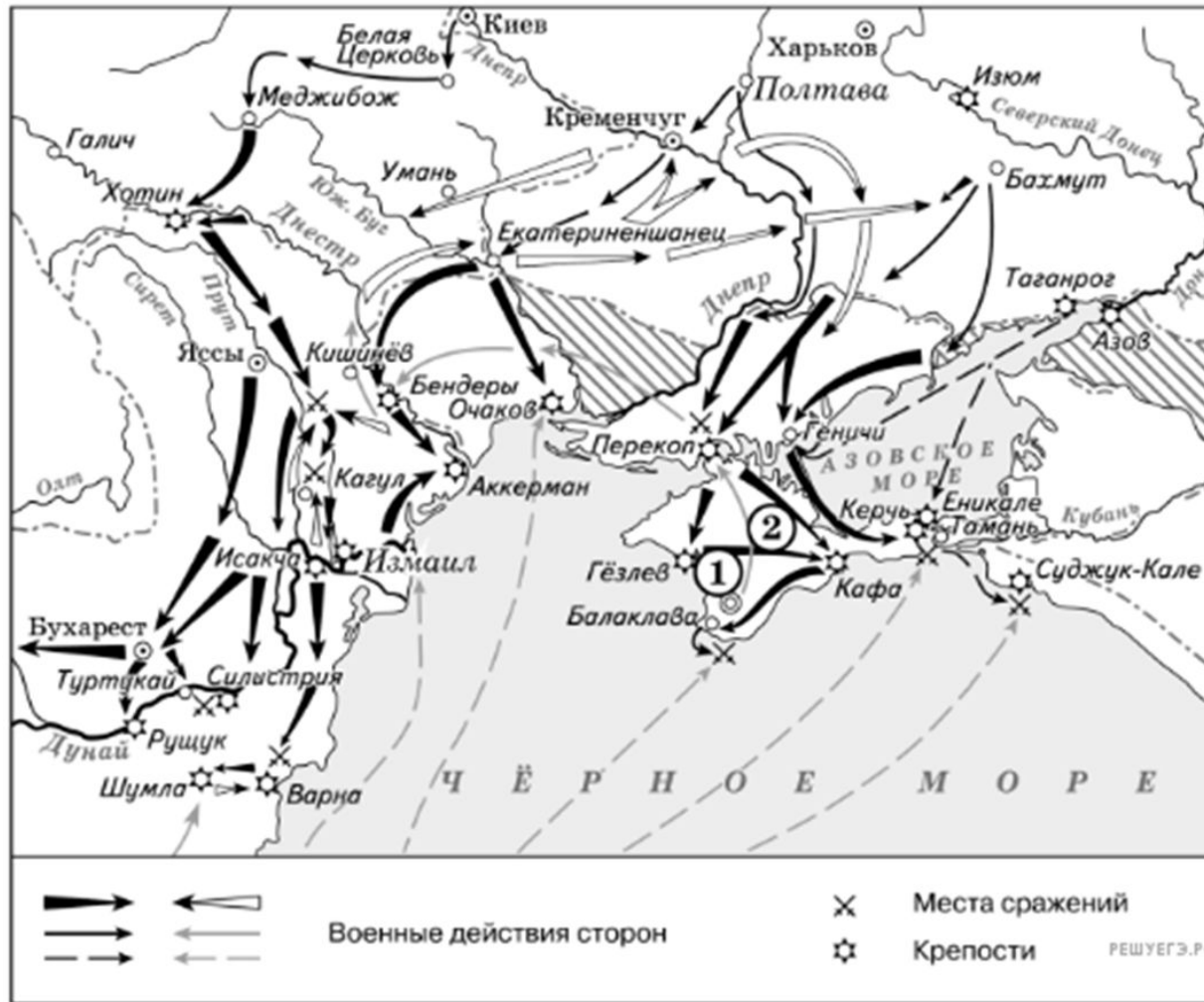
Общественный деятель	Направление	Период активной деятельности
В. И. Ленин _____(А)	_____ (Б)	
_____ (В)	декабрист	_____ (Г)
Б. Н. Чичерин _____(Д)		1850—1880-е гг.
_____ (Е)	марксист	1840—1880-е гг.

Пропущенные элементы:

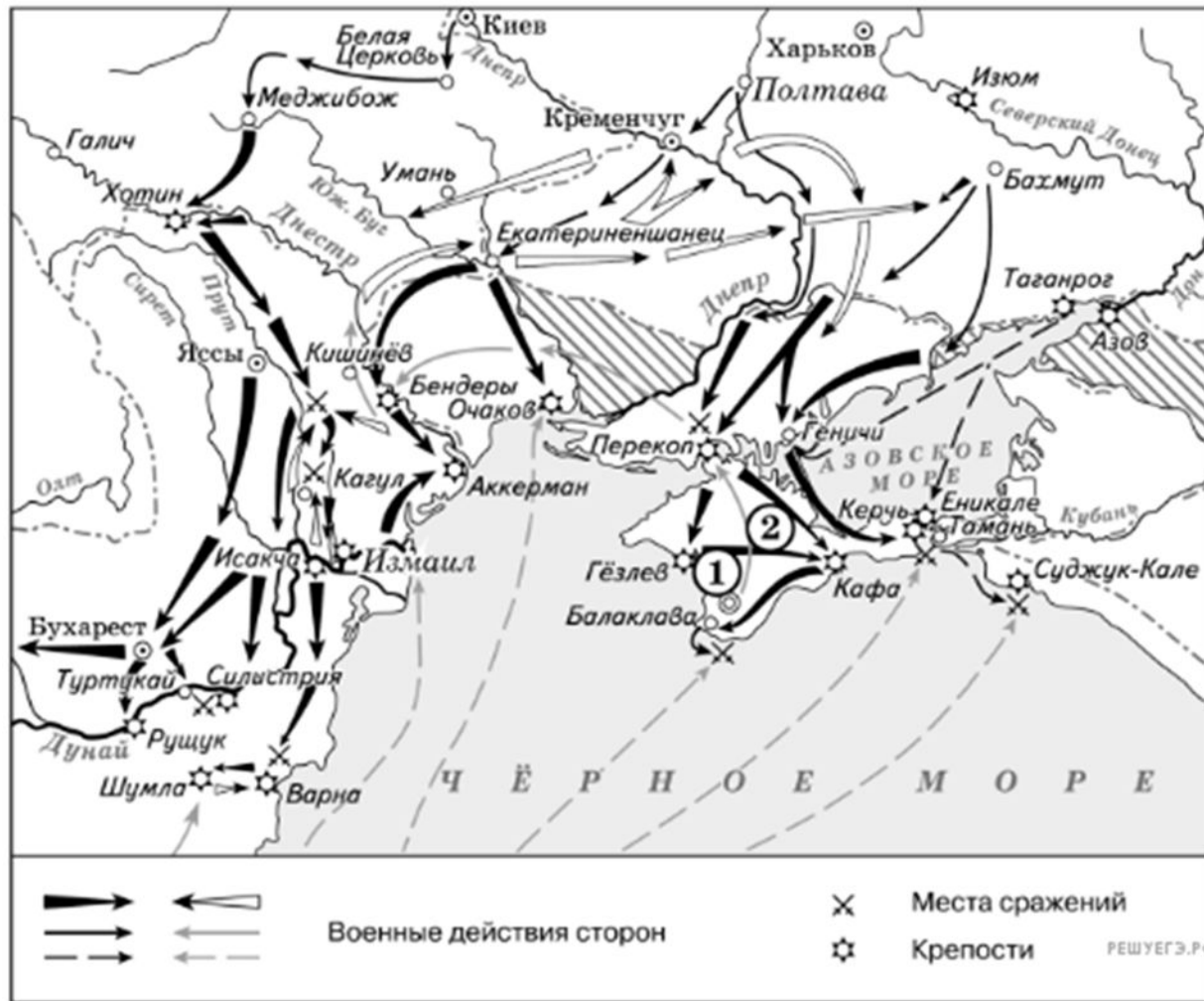
- 1) К. Маркс
- 2) социал-демократ
- 3) народник
- 4) 1820-е гг.
- 5) западник
- 6) П. И. Пестель
- 7) А. И. Герцен
- 8) 1890—1920-е гг.
- 9) К. П. Победоносцев



Назовите монарха (имя и порядковый номер словами, например Иван Третий), в чьё правление шла война, события которой обозначены на данной схеме.



Назовите фамилию государственного деятеля, получившего почётный титул за присоединение и освоение территорий, обозначенных на схеме цифрой «2».



Напишите название государства, которое было основным противником России в войне, события которой изображены на данной схеме.

Какие суждения, относящиеся к событиям, обозначенным на схеме, являются верными? Выберите три суждения из шести предложенных. Запишите в таблицу цифры, под которыми они указаны.

- 1) В результате этой войны Россия утратила заштрихованные на схеме территории.
- 2) Начало войны, события которой изображены на данной схеме, стало предлогом для прекращения деятельности Уложенной комиссии.
- 3) После завершения войны, события которой обозначены на данной схеме, Россия стала империей.
- 4) Мирный договор, завершивший войну, события которой обозначены на данной схеме, был подписан в городе, отмеченном цифрой «1».
- 5) Следствием войны, события которой изображены на данной схеме, стало получение Россией выхода к Чёрному морю.
- 6) Участниками событий данной войны были А. Орлов и П. Румянцев.



Установите соответствие между фамилиями архитекторов и их сооружениями: к каждой позиции первого столбца подберите соответствующую позицию из второго столбца.

#### ФАМИЛИИ

А) К. И. Росси

Б) И. О. Бове

В) О. Монферран

Г) К. А. Тон

1) Триумфальная арка в честь победы над Наполеоном

2) Исаакиевский собор

3) Исторический музей в Москве

4) Михайловский дворец (здание Русского музея)

5) храм Христа Спасителя

6) Казанский собор в Петербурге



Какие суждения о данном изображении являются верными? Выберите два суждения из пяти предложенных. Запишите в таблицу цифры, под которыми они указаны.

- 1) Карикатура посвящена событиям начала XX в.
- 2) На карикатуре изображён император Александр II.
- 3) Изображённый на карикатуре император представлен как сильная, деспотическая личность с железной, непреклонной волей.
- 4) Карикатура посвящена явлению, получившему в отечественной истории на звание «распутинщина».
- 5) На время царствования изображённого императора пришлось участие России в Крымской войне.

«Внешняя политика Брежнева была периодом сближения с капиталистическим миром»

«Период 1982-1985 годов – продолжение кризиса времени Брежнева»