



# Итоговый тест по математике

2 класс · УМК «Гармония»

Автор презентации

**Коровина Ирина Николаевна**

учитель начальных классов


МБОУ «СОШ №9»

г.Сафоново Смоленской области



Сколько острых углов имеет данная фигура?

- 1 3 угла
- 2 2 угла
- 3 4 угла





Длина ломаной записана  
выражением:  $5 \cdot 3$  (см)  
Какова длина каждого звена  
ломаной?

- 1 15 см
- 2 3 см
- 3 5 см





Какой знак пропущен в записи:

305 ... 350 ?

1 <

2 =

3 >





Произведение чисел 9 и 2  
увеличили в 2 раза.  
Какое число получили?

1 22

2 36

3 13







Даны выражения:

$$28 - 17, 57 + 20, 55 - 18, 77 - 7.$$

Выбери разность, в которой  
вычитаемое больше, чем 17, и  
найди её значение.

1

11

2

70

3

37





**Выбери выражение,  
значение которого равно  
нулю.**

**1**  $8 \cdot 4 - 12$

**2**  $6 \cdot 9 - 54$

**3**  $15 \cdot 0 + 1$






Какое число пропущено в  
записи: ... дм = 7 м?

1 700

2 70

3 7







Выбери знаки  
арифметических действий,  
пропущенные в записи:

$$35 \dots 8 \dots 20 > 50.$$

1 +, -

2 +, +

3 -, +






**Выбери многоугольник, в котором один прямой угол.**

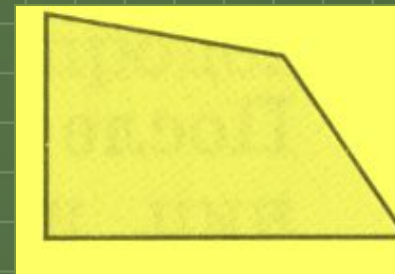
1



2



3





В магазине было 68 ящиков красных яблок и 30 ящиков зелёных. Продали 40 ящиков яблок. Сколько ящиков яблок осталось?

1 28

ящиков 2 58 ящиков

3 48 ящиков





Длина прямоугольника 15 см.  
Она на 8 см больше его ширины.  
Найди ширину этого  
прямоугольника.

1 23 см

2 7 см

3 22 см





В одной упаковке 3 десятка пуговиц. Продано 8 упаковок. Сколько пуговиц продано?

1 24 пуговицы

2 32 десятка  
пуговиц

3 240

ПУГОВИЦ







Квартиру отремонтировали  
за неделю и три дня.  
Сколько дней длился  
ремонт квартиры?

1

4 дня

2

10 дней

3

13 дней





После того как Алёша прочитал 7 страниц из книги, а затем ещё 8, ему осталось прочитать 40 страниц. Сколько страниц в книге?



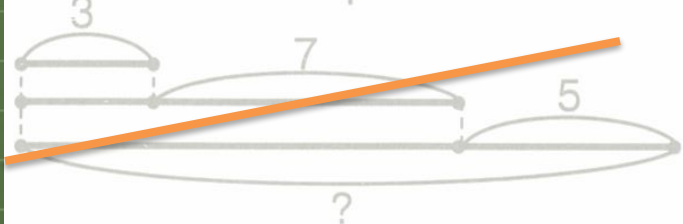
- 1 55 страниц
- 2 25 страниц
- 3 48 страниц





Выбери схему, которая соответствует задаче.

Во время концерта художественной самодеятельности исполнено 5 танцев, 7 песен и 3 стихотворения. Сколько номеров художественности

- 1 
- 2 
- 3 





# Ресурсы:

- Доска <http://napoleon-project.narod.ru/facts.htm>
- Фон цифры  
<http://besthairstylesideas.info/gallery/clipart-3-royalty-free-rf-stock-illustrations-vector-graphics>
- Клипарт цифры <http://smito.ru/c266-p209.html>
- Школьная доска <http://agd-tech.ru/images/pane.jpg>
- Блокнот  
[http://img1.liveinternet.ru/images/attach/c/4/83/662/83662437\\_1329396204\\_Bloknot.jpg](http://img1.liveinternet.ru/images/attach/c/4/83/662/83662437_1329396204_Bloknot.jpg)
- Автор шаблона Коровина И.Н.
- Н.Б.Истомина, О.П.Горина: Математика/тестовые задания/2 класс - Смоленск «Ассоциация XXI век» 2014г.