

Подготовка к олимпиадам по обществознанию и праву в основной и старшей школе



ИЗДАТЕЛЬСКИЙ ЦЕНТР

ВЕНАНА
Граф

Основные виды олимпиадных заданий

- Тестовые задания открытого типа;
- Тестовые задания закрытого типа;
- Экономические задачи;
- Юридические задачи;
- Проблемно-познавательные задачи;
- Работа с таблицами, диаграммами, схемами;
- Работа с иллюстративным материалом;
- Проектная деятельность;
- Олимпиадное эссе.



ИЗДАТЕЛЬСКИЙ ЦЕНТР

ВЕНАНА
Граф

Типы заданий в тесте

Открытые:

- задания свободного изложения;
- задания-дополнения.

Закрытые:

- задания альтернативных ответов;
- задания множественного выбора;
- задания на восстановление соответствия;
- задания на установление правильной последовательности.



ИЗДАТЕЛЬСКИЙ ЦЕНТР

ВЕНАНА
ГрАФ

Задания с открытым ответом: свободное изложение

Дайте характеристику правонарушения, отраженного в правовой норме: *«Нецензурная брань в общественных местах влечет наложение штрафа или исправительные работы»*. Ответы запишите в таблицу:

Характеристика	Ответ
Вид правонарушения	
Вид ущерба	
Санкции	
Кто налагает юридическую ответственность?	



ИЗДАТЕЛЬСКИЙ ЦЕНТР

ВЕНАНА
Граф

Задания с открытым ответом - дополнением

Вставьте в текст пропущенные слова.

Еще со времен Ш. Монтескье власть делят на три ветви –
(1)....., и

Первая представлена в нашей стране парламентом,
которой носит название (2)..... Его
верхняя палата называется Советом Федерации, а
нижняя – (3)..... Исполнительную власть в
стране осуществляет (4)..... Сегодня в России
его возглавляет (5).....

(6)..... не входит ни в одну из ветвей
власти. Сегодня в России этот пост занимает

(7).....



ИЗДАТЕЛЬСКИЙ ЦЕНТР

ВЕНАНА
Граф

Закрытые: задания альтернативных ответов

Единственным источником власти в РФ является:

- | | |
|----------------|--------------|
| 1) Конституция | 3) Президент |
| 2) народ | 4) суд |

Философское учение о том, что сущность вещей познать невозможно называется:

- | | |
|---------------|----------------|
| 1) диалектика | 3) агностицизм |
| 2) эмпирия | 4) гипотеза |



ИЗДАТЕЛЬСКИЙ ЦЕНТР

ВЕНАНА
ГрАФ

Задания множественного выбора

Что из перечисленного относится к духовной сфере общественной жизни:

- 1) религия
- 2) искусство
- 3) наука
- 4) государство
- 5) церковь



ИЗДАТЕЛЬСКИЙ ЦЕНТР

ВЕНАНА
Граф

Задания на восстановление соответствия

Установите соответствие между понятием и его определением.

понятие	определение
способности	а) высшая степень проявления творческих сил человека
талант	б) врожденные анатомо-физиологические особенности строения человека, составляющие основу развития способностей
гениальность	в) высокий уровень развития способностей, проявляющийся в творческих достижениях личности
задатки	г) индивидуально выраженные возможности успешного осуществления той или иной деятельности



ИЗДАТЕЛЬСКИЙ ЦЕНТР

ВЕНАНА
Граф

Задания на установление правильной последовательности

Определите хронологический порядок принятия документов:

- а) Конституция польской части Российской империи
- б) Конституция СССР
- в) Конституция Российской Федерации
- г) Конституция США
- д) «Великая хартия вольностей»

Ответ запишите последовательностью букв:



ИЗДАТЕЛЬСКИЙ ЦЕНТР

ВЕНАНА
ГРАФ

Работа с наглядностью

Напишите наиболее подходящий к изображению тип темперамента.



ИЗДАТЕЛЬСКИЙ ЦЕНТР

ВЕНАНА
ГрАФ

Портреты

Перед вами фотографические изображения ведущих государственных деятелей современной России. Рассмотрев внимательно представленные фотографии, определите, кто на них изображен. Укажите фамилию и должность государственного деятеля, сделав соответствующую подпись под фотографией.




ИЗДАТЕЛЬСКИЙ ЦЕНТР

ВЕНАНА
ГрАФ

Символы

Рассмотрите символы. Подпишите под каждым название религии, к которой он относится:



ИЗДАТЕЛЬСКИЙ ЦЕНТР

ВЕНАНА
ГРУП

Карикатура

Рассмотрите карикатуру.

1. Какие правонарушения предположительно совершают персонажи данной карикатуры?
2. Какие виды юридической ответственности на них должны быть наложены за эти правонарушения?



ИЗДАТЕЛЬСКИЙ ЦЕНТР

ВЕНАНА
ГрАФ

Диаграммы

Проанализируйте схему «Изменение покупательной способности зарплат граждан России».

Как называется представленное изображение?

Что отложено по оси X?

Что отложено по оси Y?


Объясните, какими историческими событиями вызваны пять самых значительных падений покупательной способности населения?



ИЗДАТЕЛЬСКИЙ ЦЕНТР

ВЕСТНИК
ГРАФ

Кроссворды



ИЗДАТЕЛЬСКИЙ ЦЕНТР

ВЕНАНА
ГРАФ

Задания на схематизацию

1. Составьте схему, раскрывающую понятие «общество». (8 баллов)
2. Вспомните формы государственного устройства. Составьте соответствующую схему и приведите примеры. (12 баллов)
3. Составьте схему «Законотворческий процесс в Российской Федерации». (9 баллов).



Решение юридических задач

Проанализируйте ситуацию с точки зрения норм права. Из письма в газету: “Что же это такое творится? Как ни пойдешь на рынок, каждый продавец обязательно норовит обвесить! Вчера купила полкило сыра – дома взвесила, 120 граммов не хватает. Ветчина – вместо 1 кг оказалось 700 г! В общем, на двух покупках меня обсчитали на 21 рубль – я пенсионерка, эти деньги для меня не лишние... Неужели с этим ничего нельзя поделать?” Как бы вы ответили на поставленный вопрос?



ИЗДАТЕЛЬСКИЙ ЦЕНТР

ВЕНАНА
ГрАФ

Проблемно-познавательные задачи

Однажды ученики древнегреческого философа Зенона обратились к нему с вопросом: "Учитель! Ты, обладающий знаниями во много раз большими, чем мы, всегда сомневаешься в правильности ответов на вопросы, которые нам кажутся очевидными, ясными. Почему?" Начертив посохом на песке два круга, большой и малый, философ молвил: "Площадь большого круга – это познанное мною, а площадь малого круга – это познанное вами. Как видите, знаний у меня действительно больше, чем у вас. Но все, что вне этих кругов – это не познанное ни мной, ни вами".
Продолжите высказывание философа, дав полный ответ на вопрос его учеников.



ИЗДАТЕЛЬСКИЙ ЦЕНТР

ВЕНАНА
Граф

Проектные задания

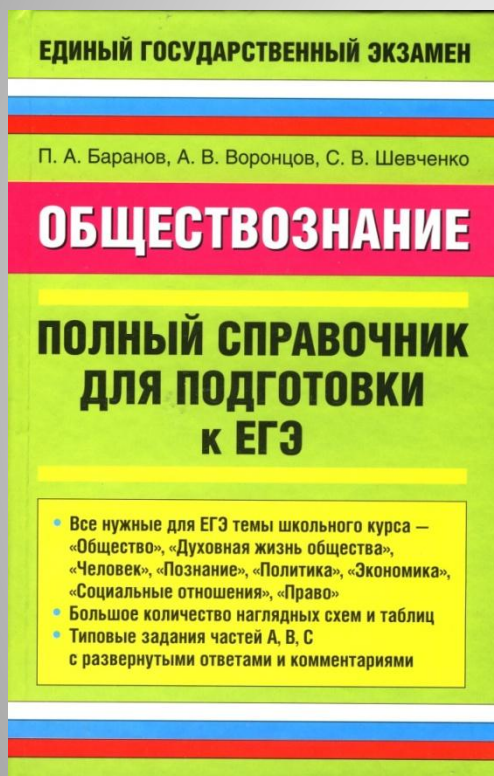
1. Подготовьте эскиз плаката «Информационное общество» с необходимыми комментариями. (8 баллов).
2. Составьте вопросник по проблеме влияния компьютеризации общества на формирование личности. (7 баллов).
3. Предложите перечень мероприятий оживления и подъема российского сельскохозяйственного производства. (12 баллов).



ИЗДАТЕЛЬСКИЙ ЦЕНТР

ВЕНАНА
ГрАФ

Готовимся к ЕГЭ.



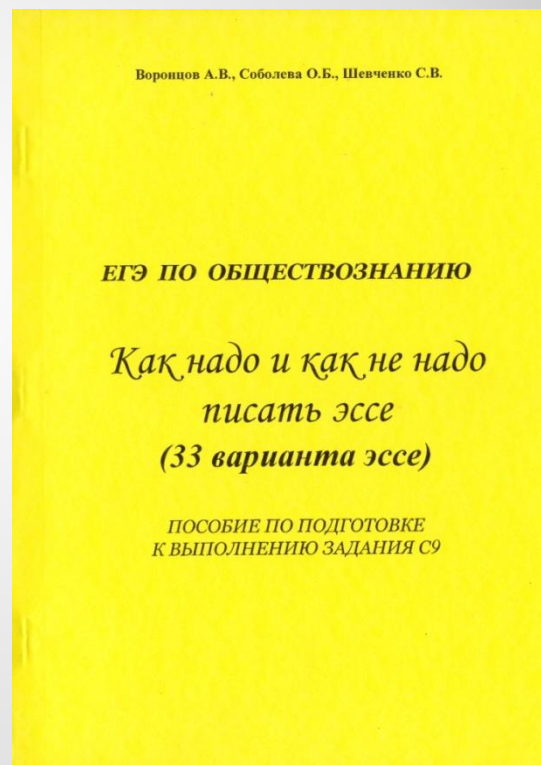
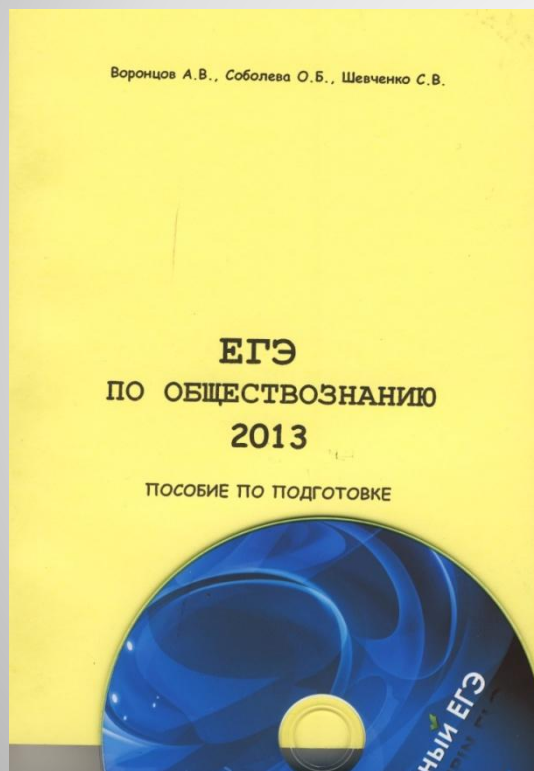
- Тестовые задания
- Проблемно-познавательные задания
- Написание эссе



ИЗДАТЕЛЬСКИЙ ЦЕНТР

ВЕНАНА
ГрАФ

ГОТОВИМЯ К ЕГЭ.



ИЗДАТЕЛЬСКИЙ ЦЕНТР

ВЕНАНА
Граф

Спасибо за внимание!

С уважением,

**Воронцов
Александр Викторович**



ИЗДАТЕЛЬСКИЙ ЦЕНТР

**ВЕНАНА
ГРУП**