

# Урок игра

**ТЕМА : РЕШЕНИЕ ЗАДАЧ НА  
НАХОЖДЕНИЕ ЧАСТИ ОТ  
ЧИСЛА.**



Найти:

$\frac{3}{4}$  от 160

$\frac{2}{5}$  от 250

$\frac{1}{7}$  от 210

$\frac{4}{9}$  от 630

$\frac{5}{6}$  от 30

$\frac{2}{3}$  от 15



Сколько картофеля может быть в  
одном мешке?

**30 кг.**

**50 ц.**

**2 ц**

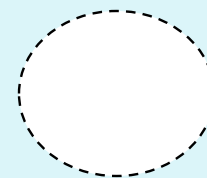
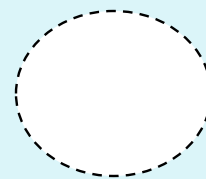

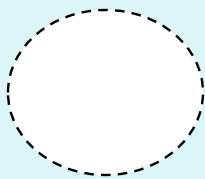
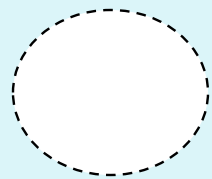




---

Расстояние от  
Казанска до  
Сернура

Длина карандаша



Высота дерева

Длина муравья



Впиши в кружки все известные тебе  
меры длины, начиная с наименьшей.

Расстояние от  
Казанска до  
Сернура

Длина карандаша

мм.

см

дм.

м

км

Высота дерева

Длина муравья