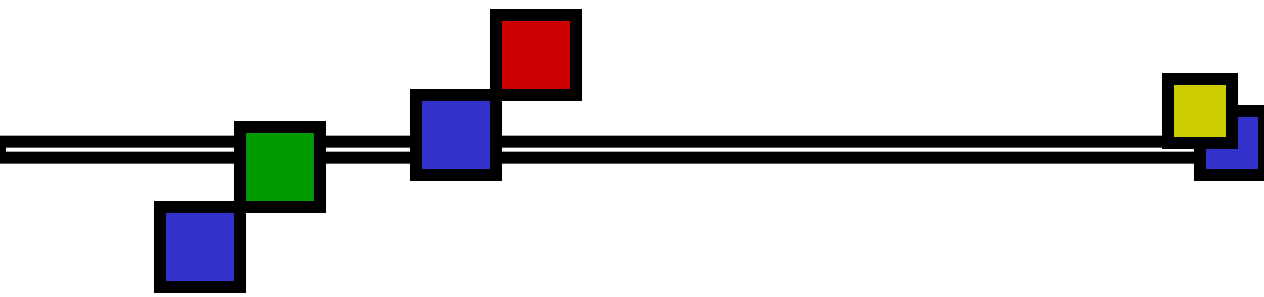




**ВЕТЕР**






## Решите задачи:






- От чего зависит температура?
- Шахта глубиной 350м.на поверхности давление – 737 мм рт. ст. найти давление в шахте.
- Вычислить амплитуду-6, -34
- Дать определение понятиям: амплитуда, давление
- На вершине- 234мм рт. ст. , у подножья-645мм рт. ст. определить высоту горы
- Вычислить амплитуду -3,+17





Определите направление ветра:





H

B


Виды  
ветра

Бриз

Муссон

Пассат

Западные  
ветры




**B**



**H**



H



B

