

В каком слое атмосферы расположен озоновый слой?

- 1) стратосфере 2) мезосфере 3) тропосфере 4) экзосфере

Какой прибор служит для измерения атмосферного давления?

- 1) Барометр 2) гигрометр 3) курвиметр 4) термометр

В каком из перечисленных регионов России зимы наиболее холодные? 1) Архангельская область

- 2) Республика Саха (Якутия) 3) Приморский край 4) Татарстан

В каком из перечисленных городов России выпадает наибольшее годовое количество атмосферных осадков?

- 1) Якутск
- 2) Иркутск
- 3) Чита
- 4) Владивосток

В каком из перечисленных городов России выпадает наибольшее годовое количество атмосферных осадков?

- 1) Магадан
- 2) Владивосток
- 3) Оренбург
- 4) Якутск

В каком из перечисленных регионов России зимы наиболее холодные?

- 1) Карелия
- 2) Камчатка
- 3) Якутия
- 4) Приморье

В каком из перечисленных регионов России лето наиболее теплое?

- 1) Архангельская область 2) Краснодарский край
3) Владимирская область 4) Чукотский АО

В каком из перечисленных городов России зимы наиболее холодные?

- 1) Казань 2) Брянск 3) Чита 4) Пермь

Для какой из перечисленных территорий России характерно самое прохладное лето?

- 1) Полуостров Крым
- 2) Черноморское побережье Кавказа
- 3) Остров Сахалин
- 4) Полуостров Таймыр

Одним из характерных явлений в районах с недостаточным

увлажнением является засуха. Это — длительный и значительный недостаток дождя. Кроме того, засуха опасна для районов с высоким загрязнением водоемов и водоемкими типами производства.

Для какого из перечисленных регионов России засуха наиболее характерное явление?

- 1) Калининградская область
- 2) Мурманская область
- 3) Смоленская область
- 4) Оренбургская область

Северо-Сибирская (Таймырская) низменность расположена в северной части Восточной Сибири. При ширине около 600 км простирается на полторы тысячи километров между приустьевыми отрезками рек Енисей и Оленек. Характеризуется полого-увалистым рельефом с высотами до 300 метров. Северо-Сибирская низменность сложена морскими и ледниковыми отложениями, песчаниками и глинистыми сланцами. На ее территории имеются месторождения нефти, природного газа, каменного угля. На территории низменности много озер, крупнейшие — Таймырское озеро, Лабаз. Однако значительные участки низменности заболочены.

Почему полуостров Таймыр при небольшом количестве атмосферных осадков характеризуется высокой заболоченностью? Одна из причин — характер рельефа. Укажите еще две причины.

Установите соответствие между территорией и климатическим поясом, в котором расположена большая ее часть.

ТЕРРИТОРИЯ-

А) Калининградская область

Б) Новосибирские о-ва

В) о. Колгуев

**КЛИМАТИЧЕСКИЙ
ПОЯС**

1) арктический

2) субарктический

3) умеренный

4) субтропический

Суховей — ветер с высокой температурой и низкой относительной влажностью воздуха.

Защитой от суховеев являются

лесозащитные полосы и орошение почвы.

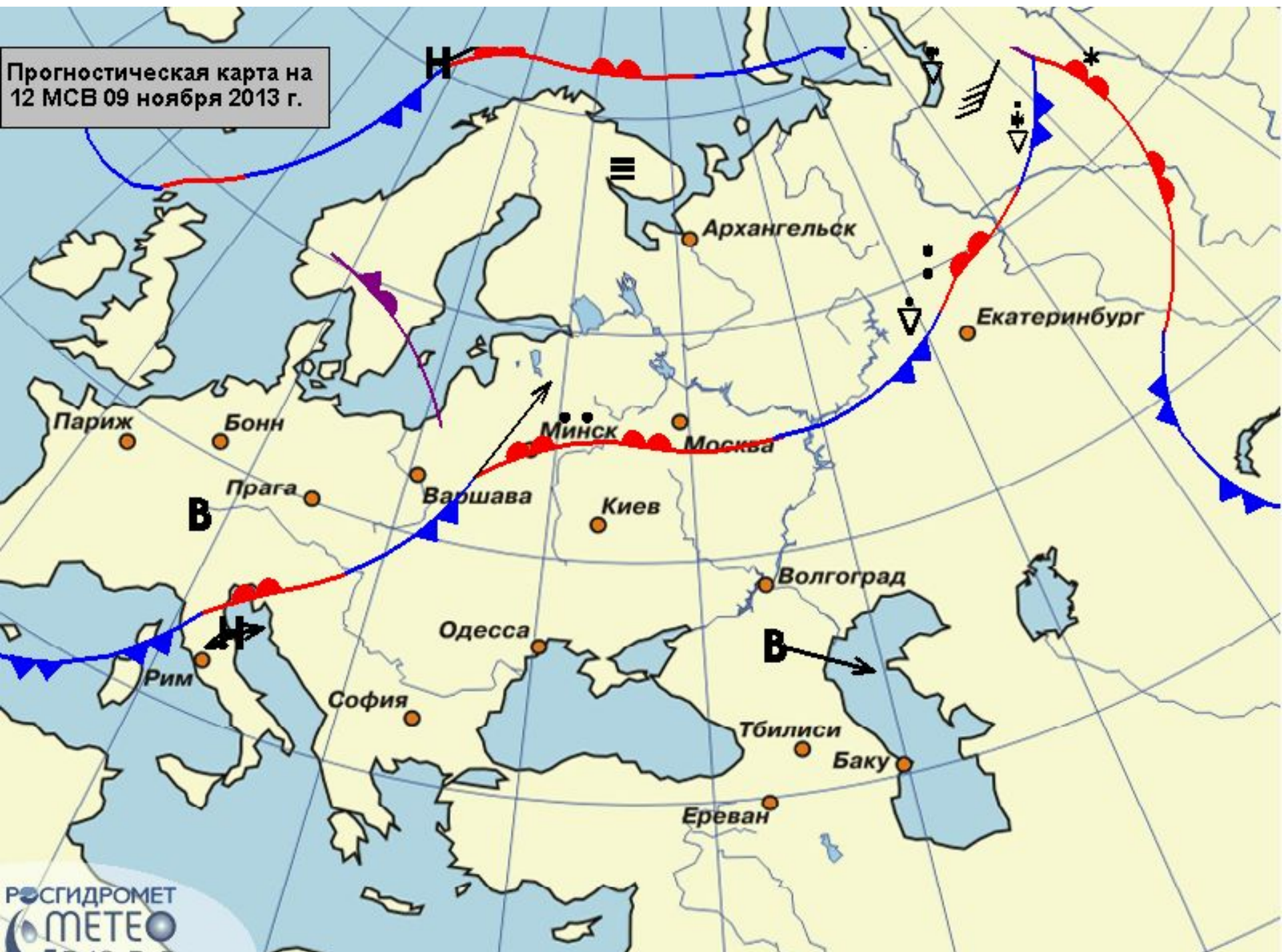
Для какого из перечисленных регионов

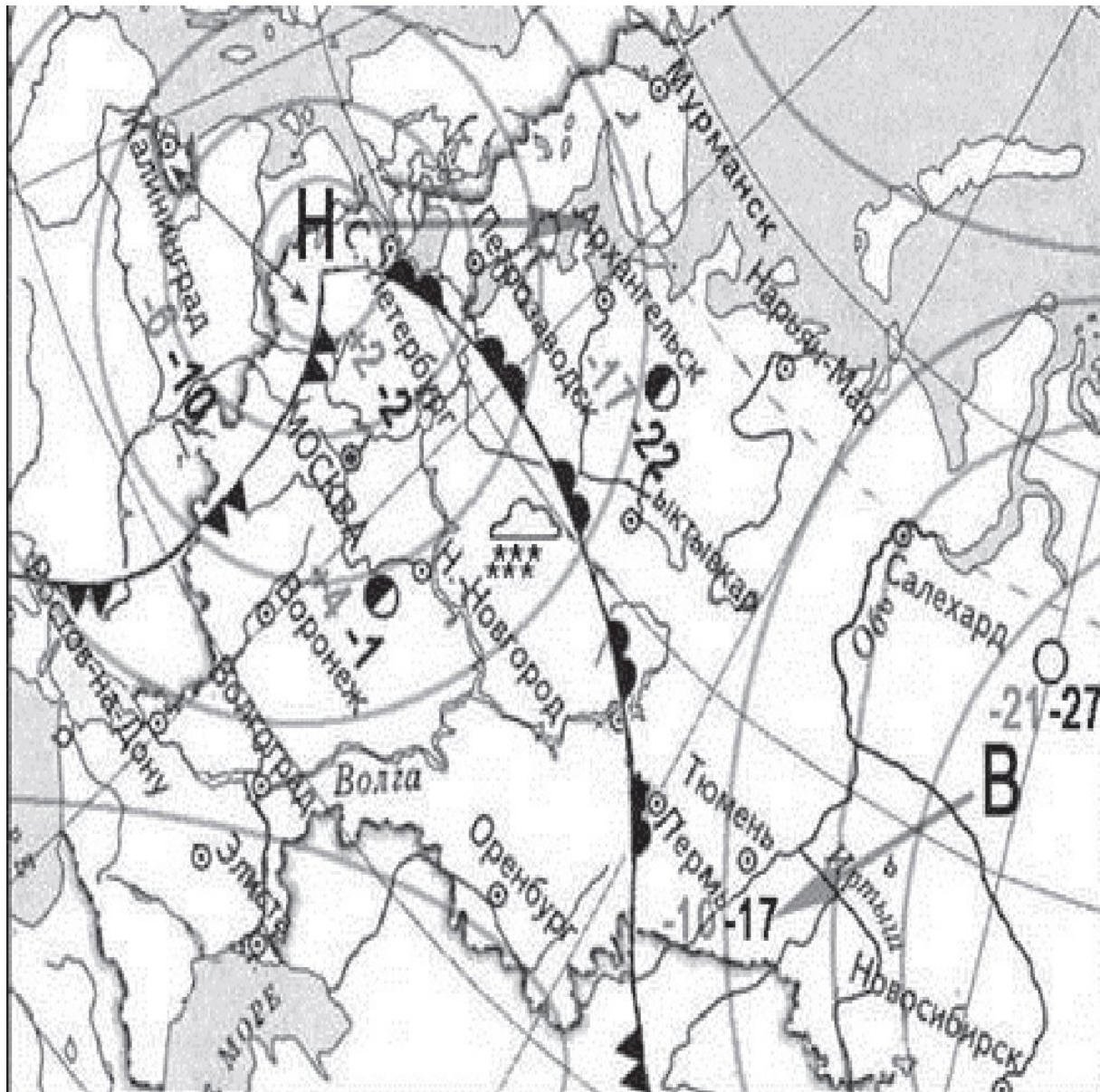
России характерны суховеи?

1) Средний Урал 2) Таймыр 3)

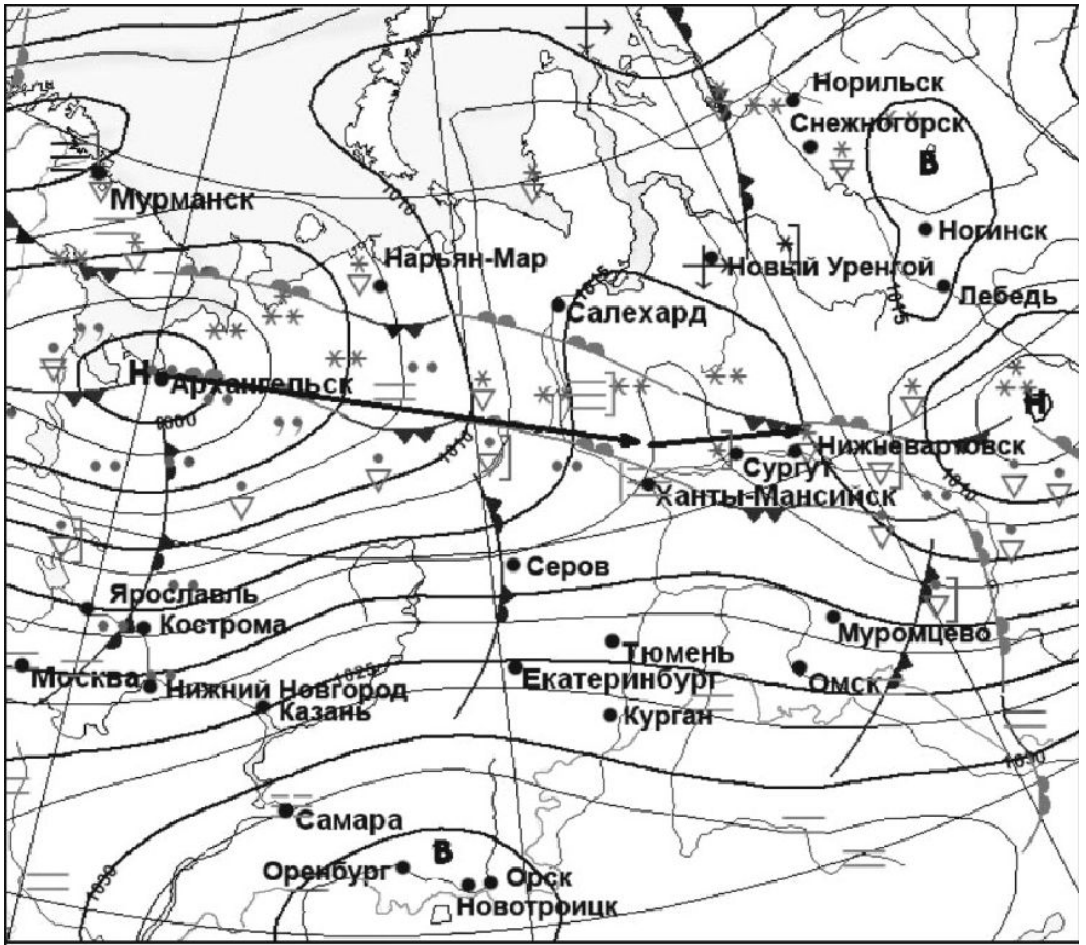
Прикаспийская низменность 4) Хибины

Прогностическая карта на 12 МСВ 09 ноября 2013 г.





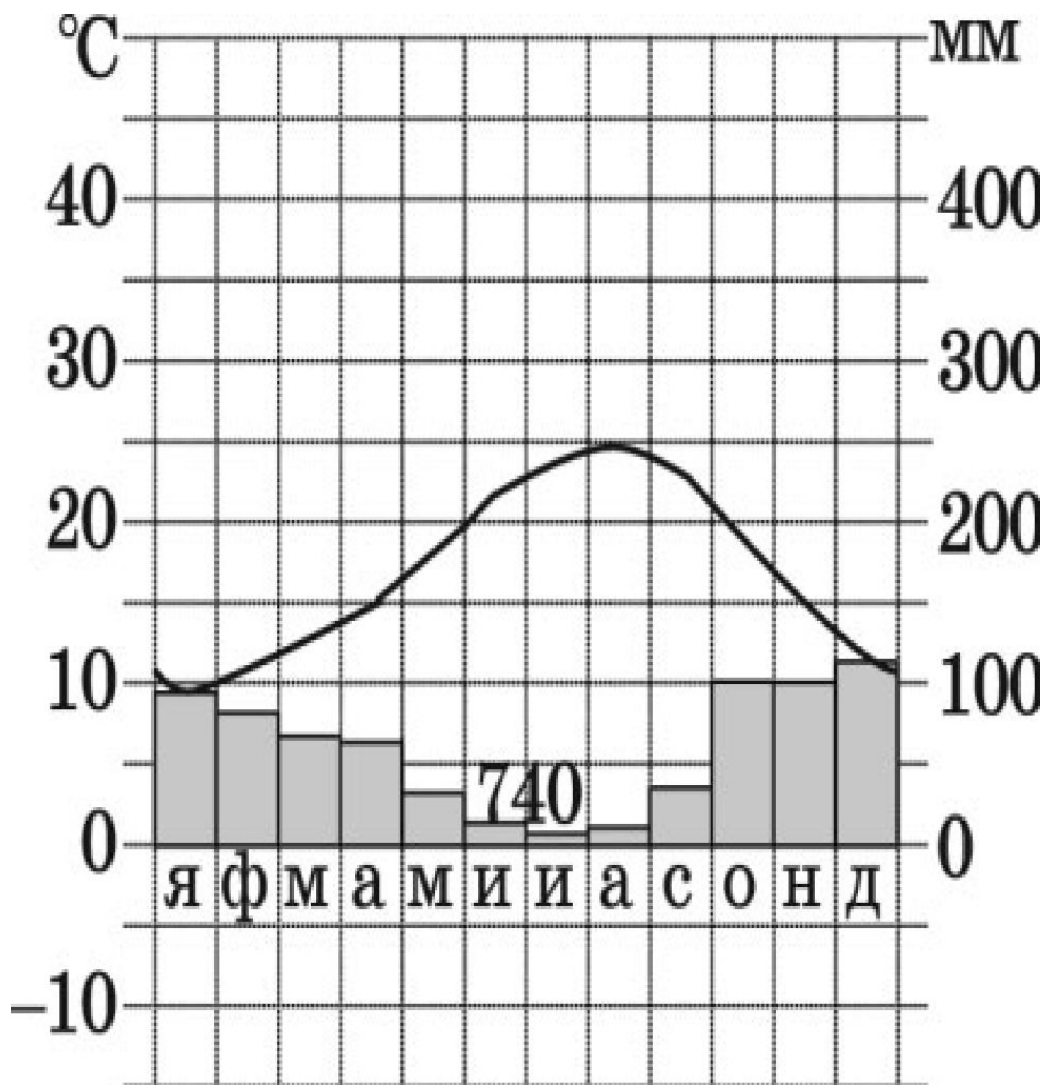
1. Укажите какой город расположен в зоне действия циклона?
2. В каком городе завтра ожидается потепление?



1. В каком из показанных на карте городов в ближайшее время можно ожидать изменения погоды и выпадения атмосферных осадков? 1) Серов 2) Самара 3) Орск 4) Ногинск

2. В каком из показанных на карте городов в ближайшее время можно ожидать изменения погоды и выпадения атмосферных осадков? 1) Екатеринбург 2) Оренбург 3) Орск 4) Лебедь

Используя данные климатограммы, определите верное утверждение о климате пункта А.



- 1) В течение всего года температура воздуха не опускается ниже +9 С.
- 2) Температуры воздуха в декабре выше, чем в мае.
- 3) Максимальное количество атмосферных осадков приходится на июнь.
- 4) Среднегодовое количество атмосферных осадков составляет более 800 мм.