

ОЗЕРА І ЛИМАНИ; ЇХ ТИПИ; ОСОБЛИВОСТІ ГІДРОЛОГІЧНОГО РЕЖИМУ. ВОДОСХОВИЩА

Практична робота № 4.

**Позначення на контурній карті озер,
водосховищ, каналів, боліт**

• Пригадайте, що називається
озером?

лиманом?


водосховищем?

• Пригадайте, як утворюються
озера?

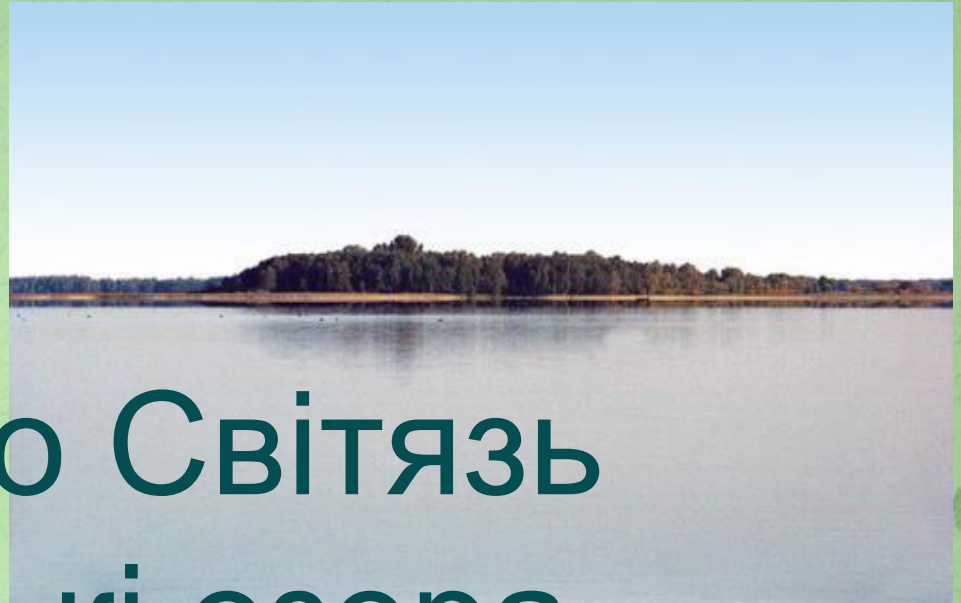


Озеро

Синевір



Озеро Світязь Шацькі озера



Озеро Бребенескул





Солотвино Закарпаття

Озеро Катлабух





Несамовите

Озеро Несамовите



Озеро
Кагул

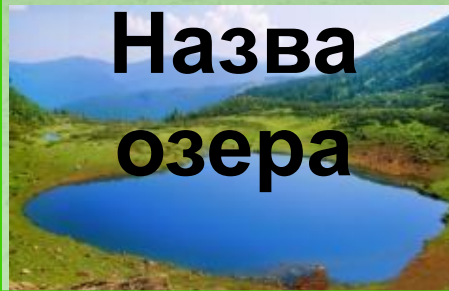
Озеро
Лиман
Харківська
область



Озеро Ялпуг



**Походження
озерної
улоговини**



**Географічне
розміщення**

річкові
(стариці, дельтові,
заплавні)

морські

карстові

льодовикові

вулканічні

завальні

Фізична карта України



**Поясність, як
створення
водосховищ
вплинуло на
гідрологічний режим
річок.**



Домашнє завдання



Опрацюйте
текст підручника.