






Минаева Виктория Викторовна,
учитель географии МБОУ «СОШ №12» ЭМР


ГЕОГРАФИЧЕСКИЕ АТЛАСЫ

Географический атлас — систематическое собрание географических, выполненное по общей программе как целостное произведение. Атлас не просто набор различных географических карт, не механическое их объединение в виде книги или альбома; он включает в себя систему карт, органически увязанных между собой и друг друга дополняющих, систему, обусловленную назначением атласа и особенностями его использования.



АТЛАСЫ ДЛЯ УСПЕШНОЙ СДАЧИ ОГЭ ПО ГЕОГРАФИИ

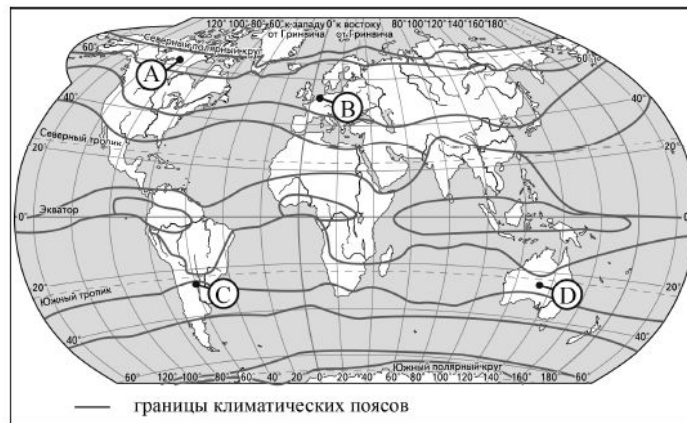
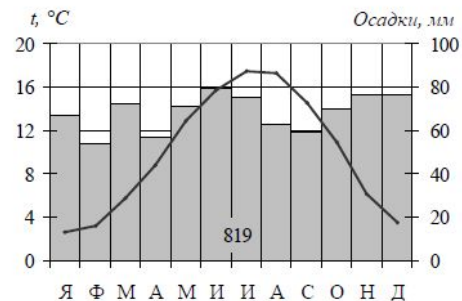




АЛГОРИТМ РАБОТЫ

Проанализируйте климатограмму и определите, какой буквой на карте обозначен пункт, характеристики климата которого отражены в климатограмме.

- 1) А
- 2) В
- 3) С
- 4) D

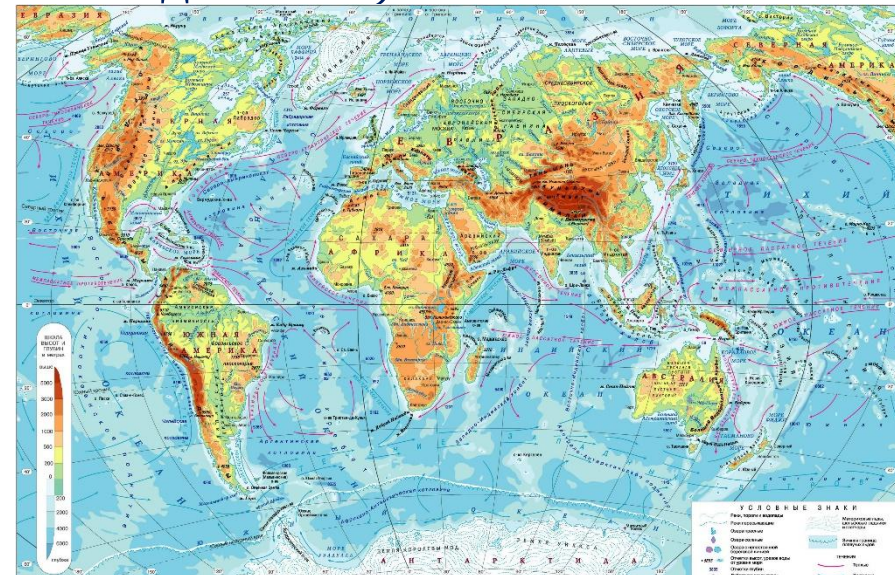




АЛГОРИТМ РАБОТЫ

На каком из перечисленных островов имеются действующие вулканы?

- 1) Мадагаскар 2) Шри-Ланка 3) Исландия 4) Сахалин




ПОЯСНЕНИЕ:

Путем сравнения физической карты и карты строения земной коры, где при помощи условных знаков показаны действующие вулканы выбираем остров

*

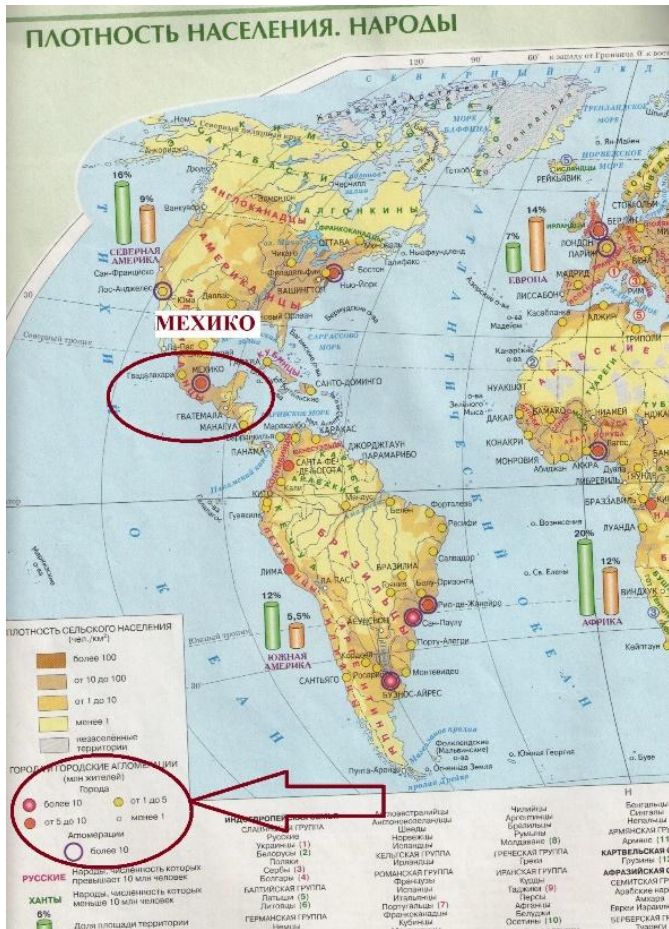
ИСЛАНДИЯ




АЛГОРИТМ РАБОТЫ

В каком из перечисленных городов численность населения наибольшая?

- 1) Сидней 2) Рим 3) Мехико 4) Санкт-Петербург



ОТВЕТ: 3



АЛГОРИТМ РАБОТЫ

На каком из перечисленных материков находятся озёра Эри и Мичиган?

- 1) Австралия
- 2) Африка
- 3) Северная Америка
- 4) Южная Америка



ОТВЕТ:

3



АЛГОРИТМ РАБОТЫ

К традиционным занятиям какого из перечисленных народов России относится оленеводство и рыболовство?

- 1) башкиры 2) ненцы 3) чувашаи 4) калмыки

