

Задача 3

По двору ходят гуси. У всех гусей Саша насчитал 6 лап. Сколько гусей во дворе?



Решите задачки (устно).
Во задаче старайтесь,
чтобы ребенок не считал
шарики
на картинке,
а слушал внимательно
условие)

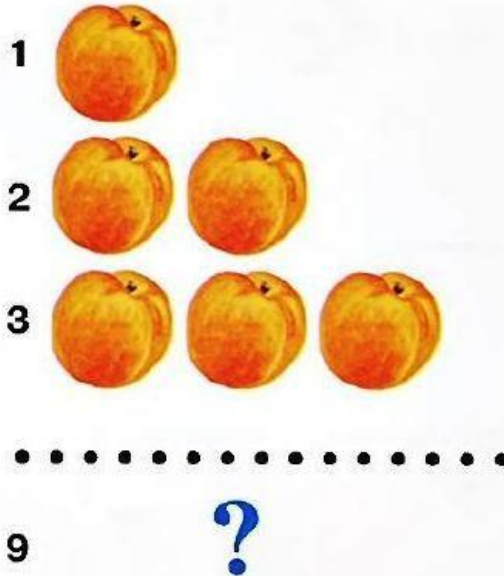
Задача 4

7 детей принесли в детский сад по одному воздушному шару. Сколько шариков дети принесли в детский сад?



Задача 25

На витрине магазина рядами лежат персики. В первом ряду — один персик, во втором — два, в третьем — три. Сколько персиков лежало в девятом ряду?



Задача 26

Сколько ушей у трёх тигрят?




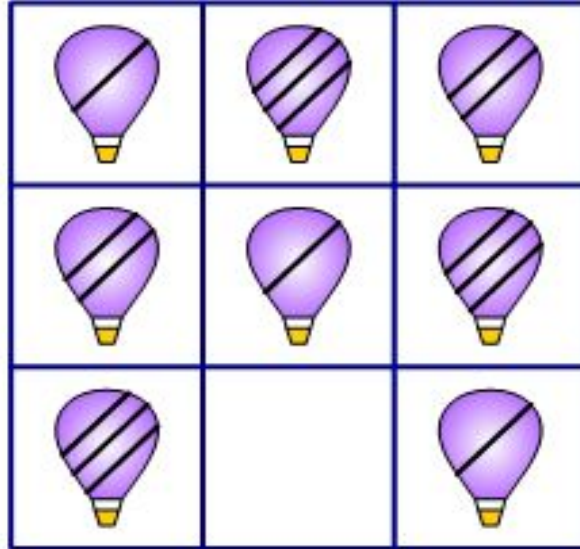
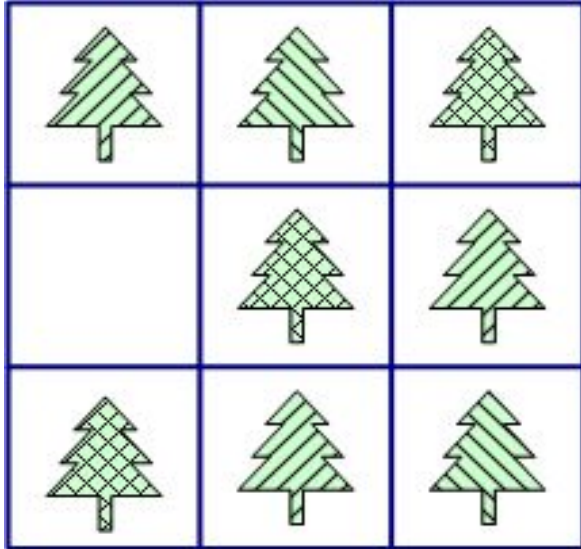
У Кати в корзинке было 2 гриба. У дороги она нашла ещё 3 гриба. Сколько грибов стало у Кати в корзинке?



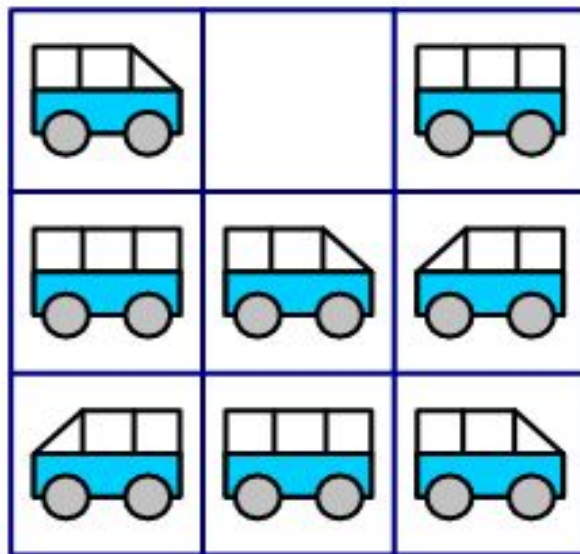
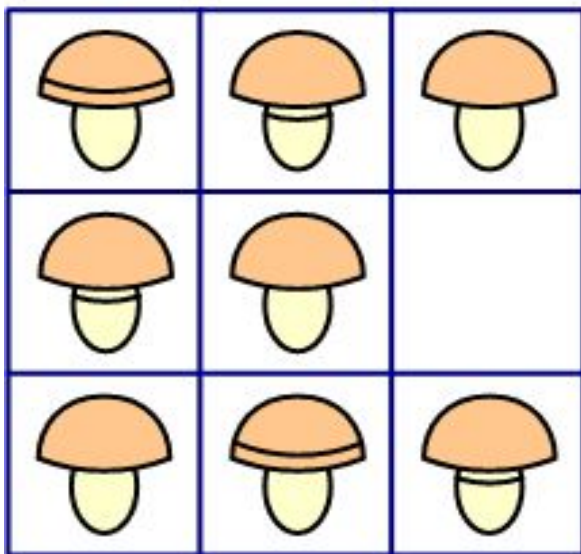
Предложите ребенку решить задачи.
Прочитайте условие и задайте вопрос.
Решение нужно записать
в виде примера в тетрадь.

У Серёжи было 5 бубликов. Его щенок съел 3 бублика. Сколько бубликов осталось у Серёжи?













www.detiseti.ru

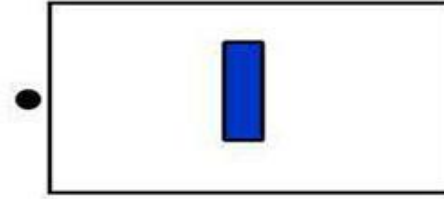

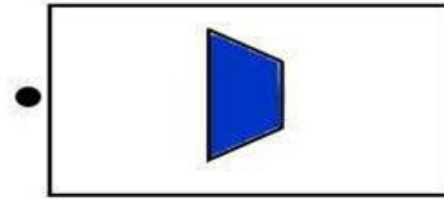

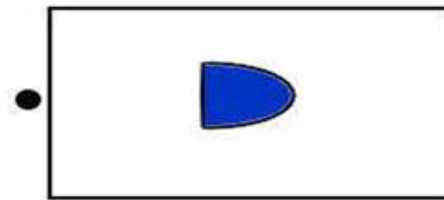
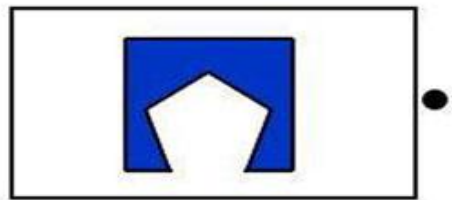

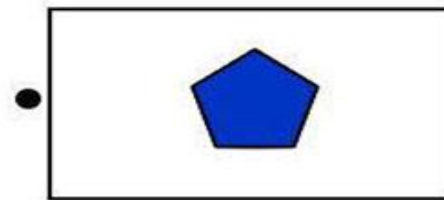



Найди недостающий предмет. Что должно быть нарисовано в пустом окошке?

Соедините линией фигуру с левой стороны и ее пропущенную часть с правой



Подберите две половинки таким образом, чтобы вместе они образовывали квадрат





Предложите ребенку взять восемь счетных палочек и выложить большой квадрат.

После того, как квадрат будет готов, предложите взять еще две палочки и положить

их внутри большого квадрата так, чтобы внутри большого квадрата получился

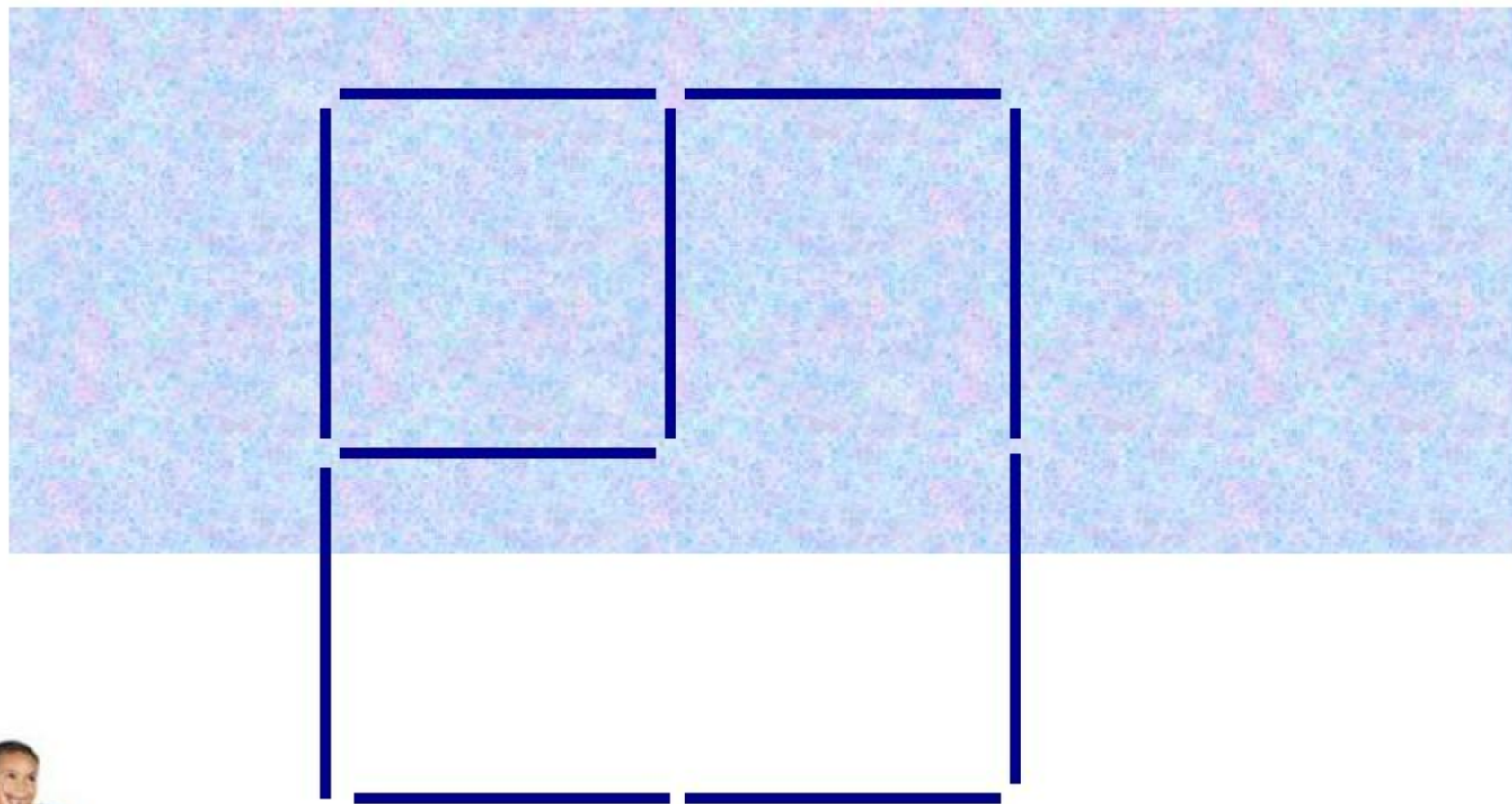
маленький квадрат.

Если возникнут трудности, положите одну палочку сами, а вторую-ребенок.

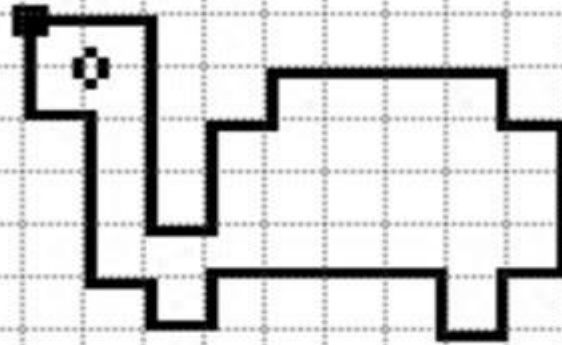
Обратите внимание, что у маленького квадрата длина стороны 1 палочка.

Ответ на след. слайде (для проверки)

Из 10 палочек – два квадрата!



Графический диктант "Черепаха"



2 →	4 ↓	1 →	2 ↑	1 →	1 ↑
4 →	1 ↓	1 →	3 ↓	1 ←	1 ↓
1 ←	1 ↑	4 ←	1 ↓	1 ←	1 ↑
1 ←	3 ↑	1 ←	2 ↑		

В тетради в клетку выполнить графическое упражнение. Ставите ребенку точку

в тетради, затем диктуете по схеме (2 кл.вправо, 4 кл.вниз...и т.д.).

Следите, чтобы ребенок не перепутал направление и количество клеток.