



Приёмы письменного деления на

однозначное число

СТР. 93-94



К уроку № 125

«Школа России» 3 класс

Устный счёт



Поставьте +, если согласны и -, если не согласны.

1. Если **960** разделить на **3**, получится **320**.
2. **240** меньше, чем **720**, в **3** раза.
3. Произведение **450** и **2** равно **800**.
4. Если **300** увеличить в **3** раза, получится **600**.
5. **900** больше **30** в **30** раз.
6. Делимое **500**, делитель **2**, частное **250**.
7. Первый множитель **180**, второй **4**.
Произведение **720**.
8. **5** метров = **5** дм
9. Периметр треугольника со стороной **4** см = **16**
см.

Что больше и на сколько?



$100 \bullet 6$ или $100 \bullet 80$

$120 \bullet 3$ или $180 \bullet 3$

$500:10$ или $360:60$

$900-480$ или $300+90$

Сосчитайте примеры.





+ 40

: 9

: 10

500




= 6

-150

: 5

• 5

350



= 200

Маша купила зеркальце за **30 рублей**. Оно стоит в **10** раз

дешевле, чем корзинка. Сколько стоит корзинка?



300

рублей



Маша нарисовала **7** пейзажей, а портретов в **2** раза

больше. Сколько всего картин нарисовала Маша?

21



Маша вылечила 5 зайчат, а лисят на 2 меньше и 4 волчонка.



Сколько всего зверят выпечила Маша?

$$5 + (5 - 2) + 4 = 12 \text{ (зв.)}$$

12



mashabear.ru

зверят



Поставьте вопрос к задаче и
решите её.



- 10 штук




- ? в 2 раза б.



Задания на смекалку



Имеется одна в минуте и две в моменте, но только одна в миллион лет. Что это?



Буква «М»

конец