

# Урок математики

## 1 класс

### 14 апреля

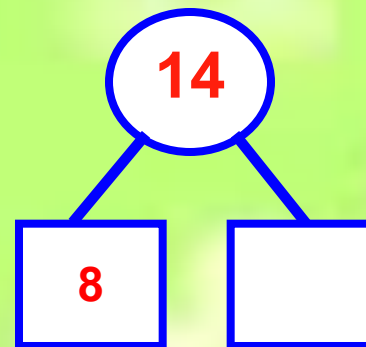
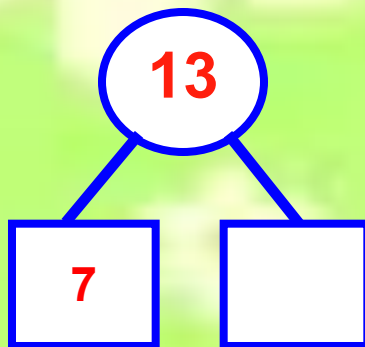
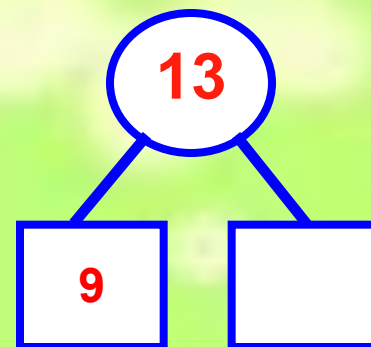
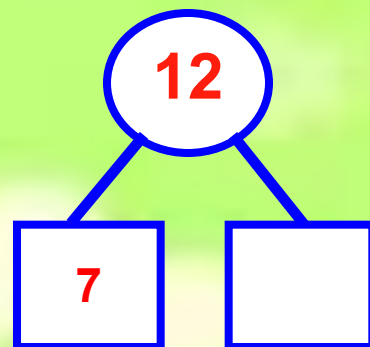
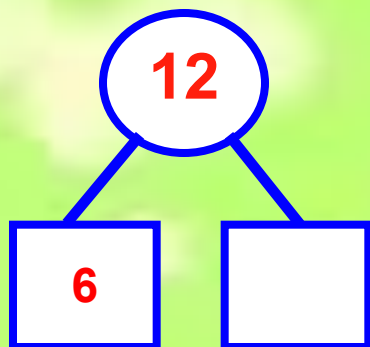
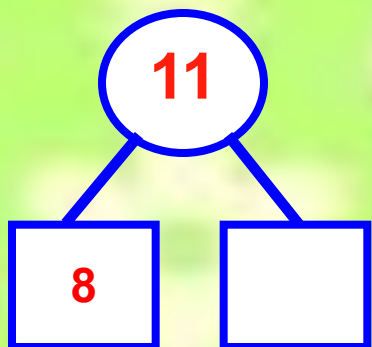


Нюша



# Устный счет

## Игра «Назови соседа»



# Бараш



# Решите задачи

- На склад привезли 8 мешков картофеля, а моркови на 4 мешка больше. Сколько мешков моркови привезли на склад?
- Осенью на новой улице посадили 17 лип, а рябин – на 10 меньше. Сколько посадили рябин?
- С первого куста сняли 16 помидоров, а со второго -6 . На сколько помидоров меньше сняли со второго куста, чем с первого?
- Миша поймал несколько рыбок. Когда мама взяла на уху 6 рыбок, у него осталось 10 рыбок. Сколько рыбок поймал Миша?

# Задачи

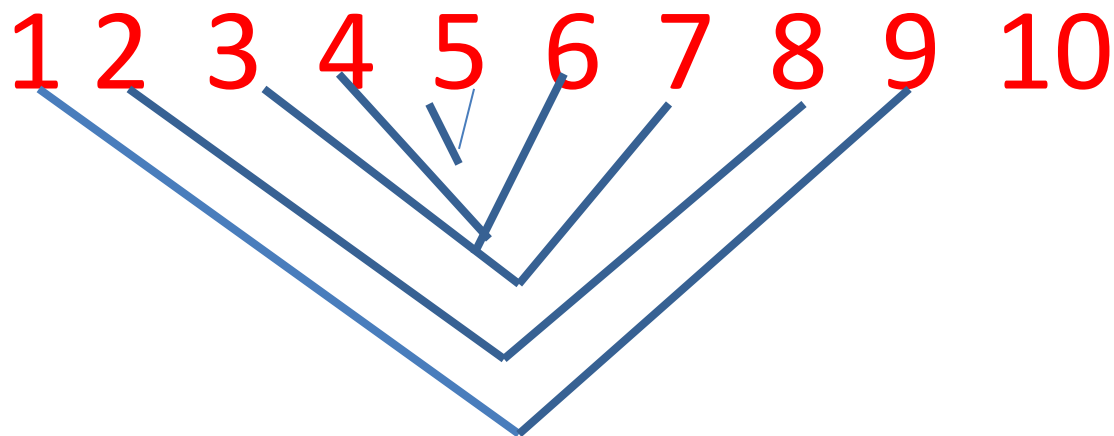


- 1)  $8+4=12$  (м.)-моркови;
- 2)  $17-7=10$ (д.)-рябин;
- 3)  $16-6=10$ (п.)-меньше;
- 4)  $10+6=16$  (р.)-поймал.

# Копатыч




# Работаю устно. Повторю состав числа 10.



Лишнее число...

Соединю пары чисел составляющие 10





Лосяш



слагаемое	9	9	9	8	8	8	7	7	6
слагаемое	2	3	4	5	4	3	5	4	5
сумма	11	12	13	13	12	11	12	11	11

**У** **М** **Н** **И** **Ц** **Ы**  
**!**

# Объяснение и решение примеров

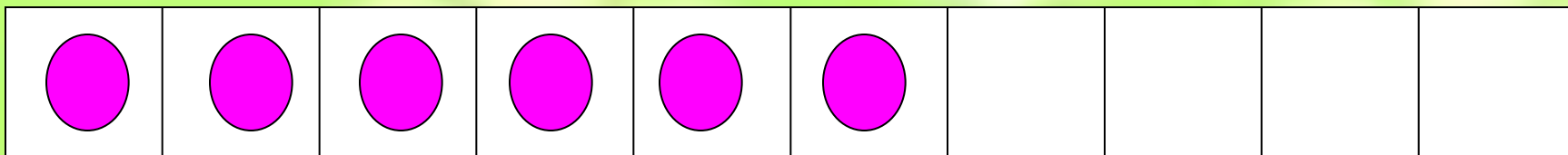
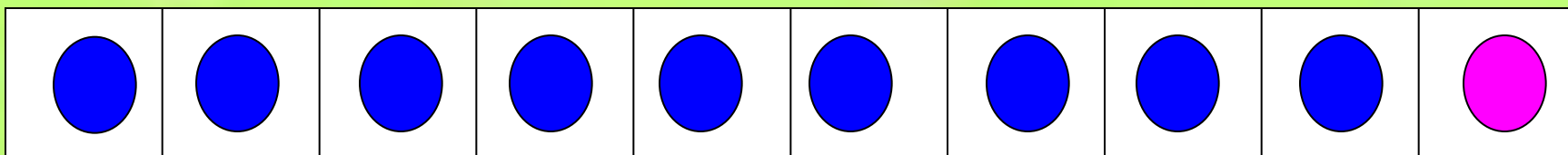


$$\underline{9} + 7$$

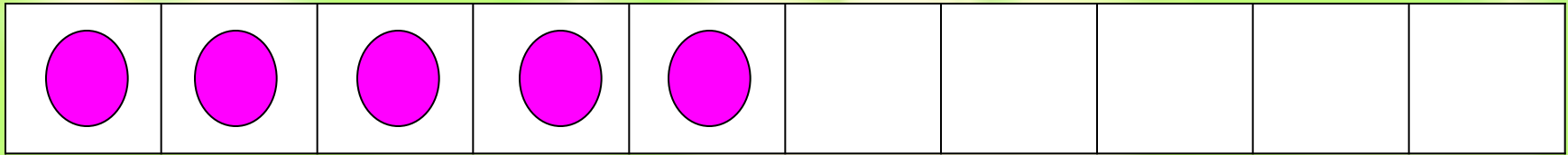
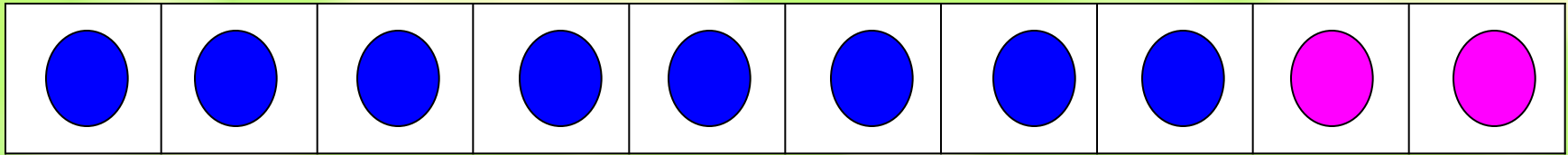
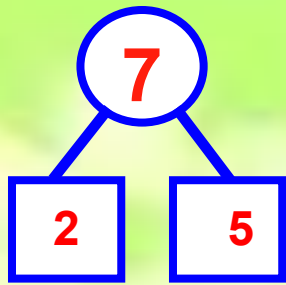
7




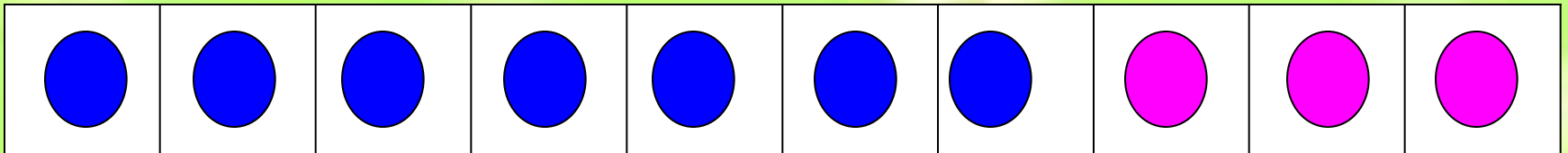
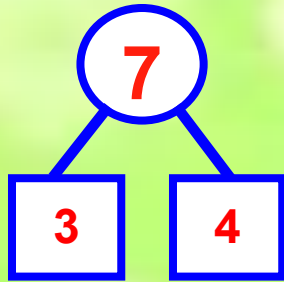
$$9 + 1 + 6$$



$$\underline{8} + 7$$
$$8 + 2 + 5$$



$$\underline{7} + 7$$
$$7 + 3 + 4$$





$$\underline{9} + 7$$

$$9 + 1 + 6$$

$$\underline{8} + 7$$

$$8 + 2 + 5$$

$$\underline{7} + 7$$

$$7 + 3 + 4$$

Запомни!

$$9 + 7 = 16$$

$$8 + 7 = 15$$

$$7 + 7 = 14$$

Крош



ЁЖИК



# *Помоги найти дорогу:*

$5+3=$

$4+3=$


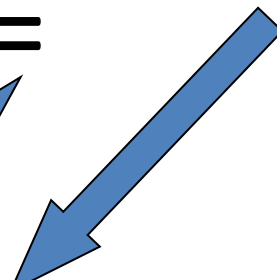
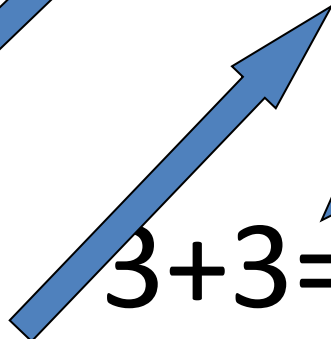
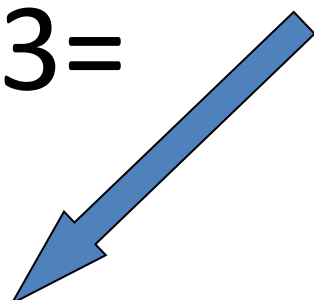
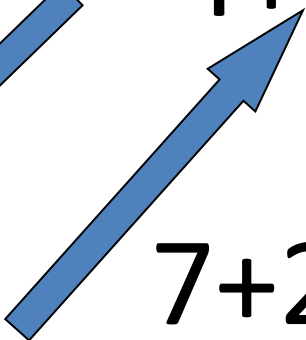
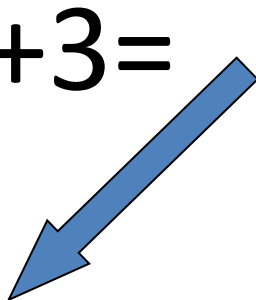
$9-6=$

$8-4=$

$7+2=$

$3+3=$

$6+7=$





Пин



# Сравню выражения:

$$1 \text{ дм } 5 \text{ см} = 15 \text{ см}$$

$$12 \text{ дм} < 1 \text{ дм } 3 \text{ см}$$

$$1 \text{ дм} > 1 \text{ см}$$

# Примеры 1



$9+6=$

$9+3=$

$9+5=$

$8+5=$

$8+6=$

$8+4=$

$15-0=$

$0+8=$

$15-15=$

$9-9=$

**Молодцы! Спасибо!**

