

Не бойся, что не
знаешь — бойся, что
не научишься!

Китайская мудрость

Крымский полуостров занимает сравнительно небольшую территорию - по площади он в 20 раз меньше Пиренейского и Балканского полуостровов, в 15 раз - Камчатки и Малой Азии. Но известным, значимым и притягательным Крым стал во многом благодаря особенностям своей природы, и прежде всего своеобразному географическому

Особенности географического положения Крымского полуострова



Александр Пушкин «Таврида. 1821 год.»

Кто видел край, где
роскошью природы
Оживлены дубравы и луга,
Где весело шумят и блещут
воды
И мирные ласкают берега...


Цель урока: дать понятие «географическое положение»; сформировать представление об особенностях географического положения Крымского полуострова.

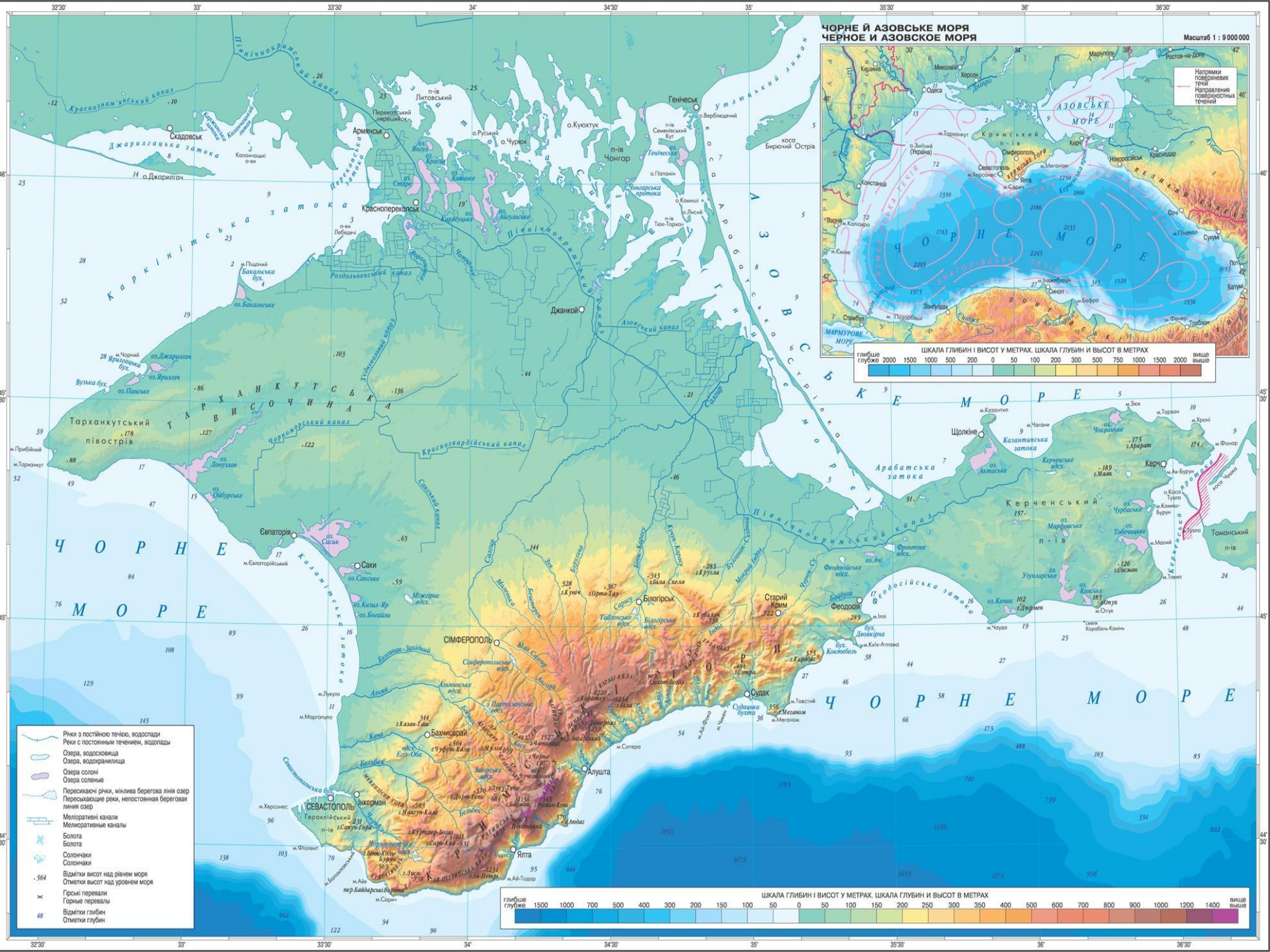
Географическое положение

- **Географическое положение** — это положение любого географического объекта относительно поверхности Земли и по отношению к другим объектам, с которыми он взаимодействует.

***Крым – изумительная сокровищница,
естественный музей,
хранящий тайны тысячелетий.***

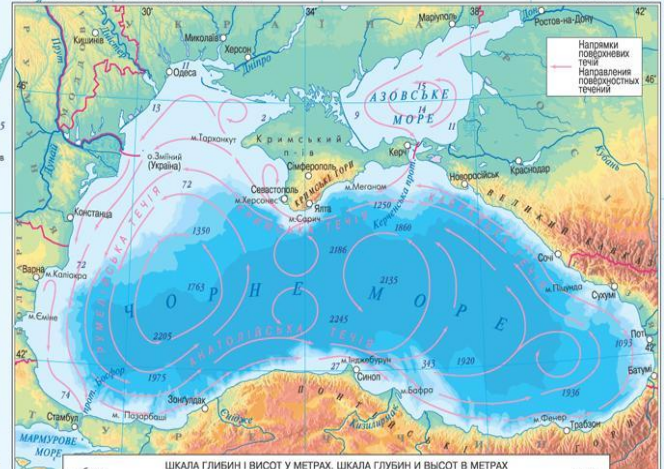
А.С. Грибоедов






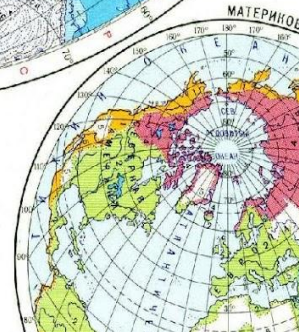
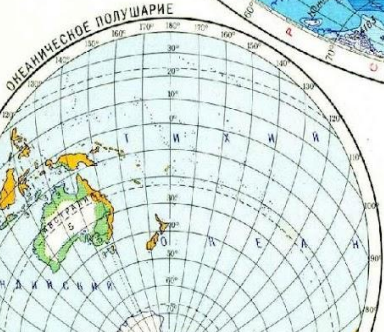
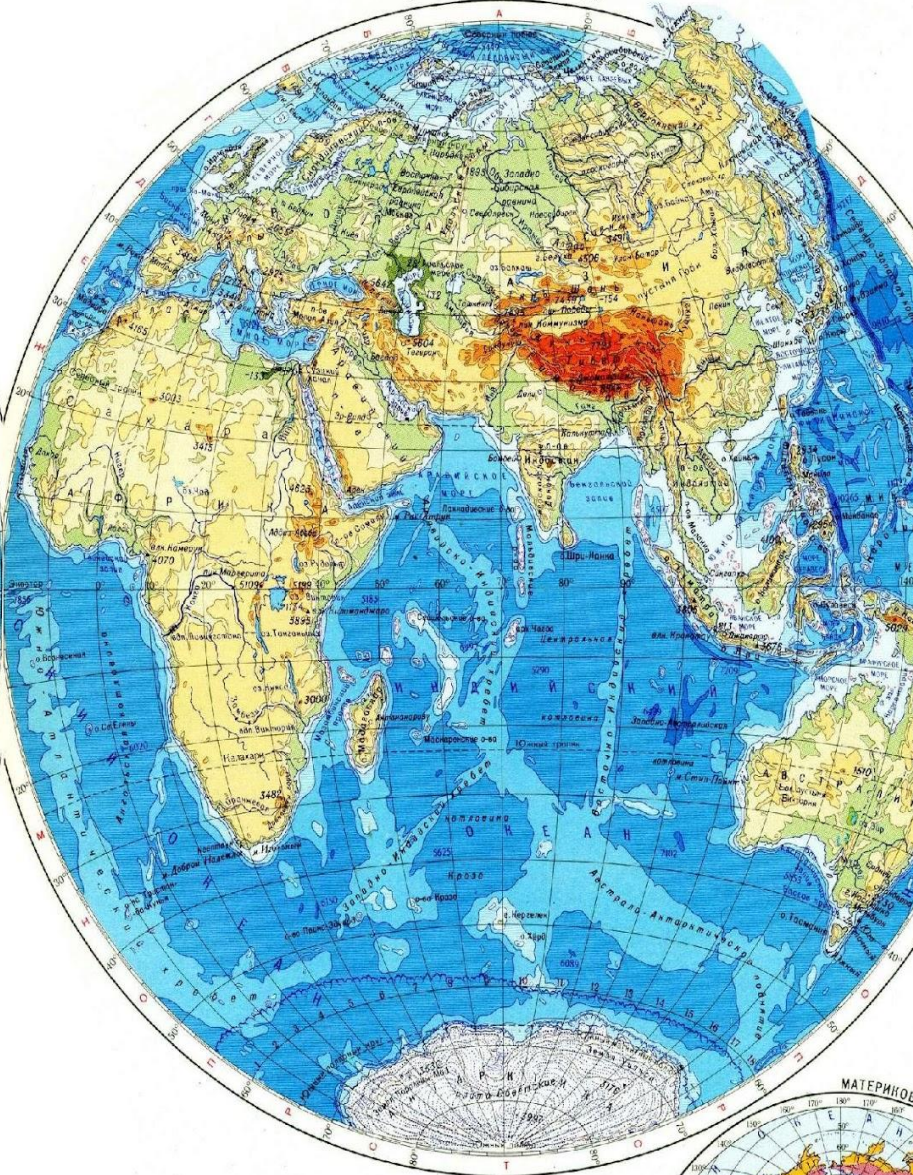
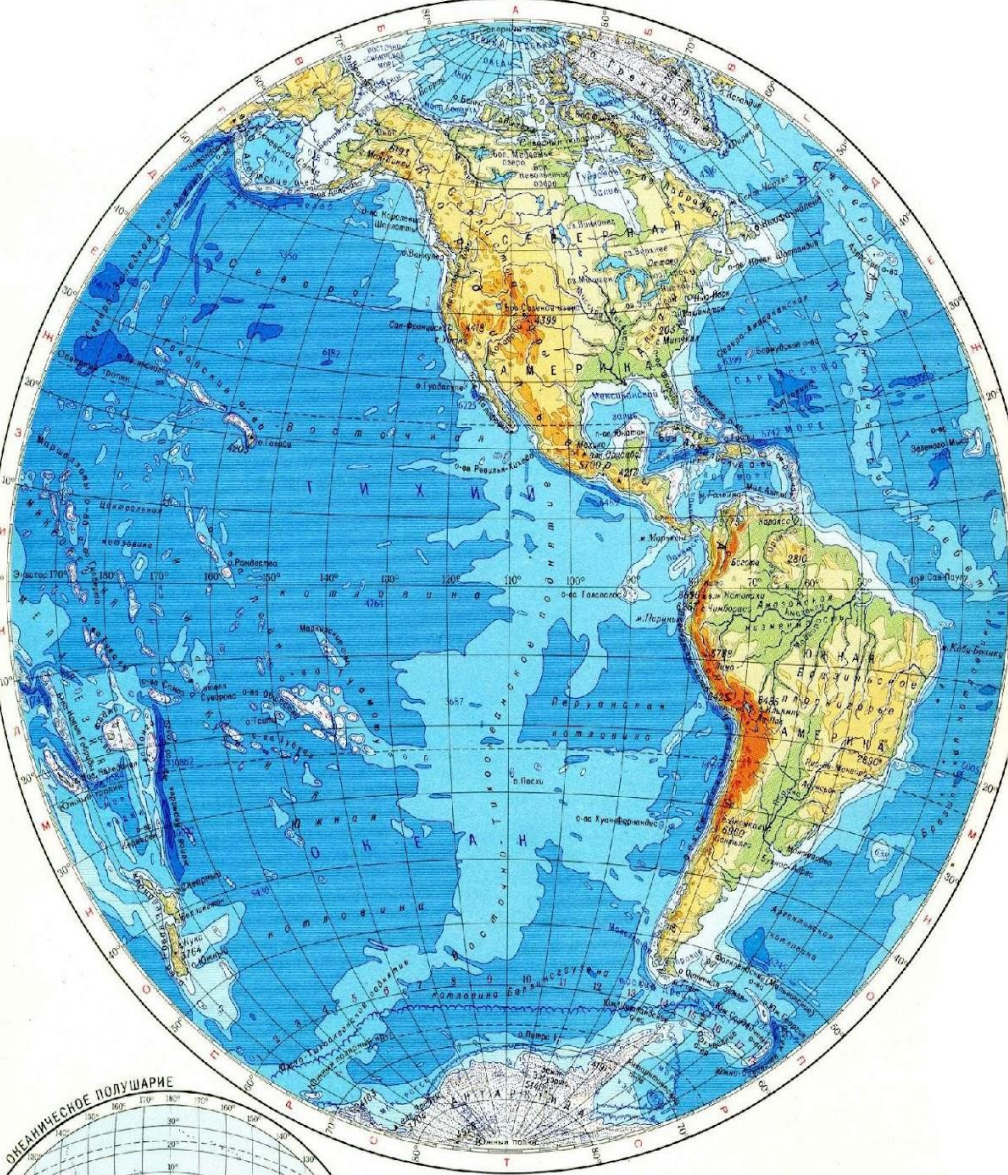
ЧОРНЕ Й АЗОВСЬКЕ МОРЯ
ЧЕРНОЕ И АЗОВСКОЕ МОРЯ

Масштаб 1 : 9 000 000



ЗАПАДНОЕ ПОЛУШАРИЕ

ВОСТОЧНОЕ ПОЛУШАРИЕ



Масштаб 1:80 000 000 (в 1 см 800 км)
 800 0 800 1600 2400 3200 4000 км

ГЕОГРАФИЧЕСКОЕ ПОЛОЖЕНИЕ КРЫМА

- Крымский полуостров раскинулся на юге Восточной Европы
- Площадь полуострова Крым 27 000 кв. км.
- Общая протяжённость сухопутных и морских границ более 2500 км.
- Население Крыма 2,4 млн человек





45° 00' с.ш.



35° 12' в.д.

45° 00' с.ш.

35° 12' в.д.



В этом месте проходит 45 параллель – Золотая Середина планеты Земля.

Отсюда - одинаковое расстояние до Экватора и до Северного полюса
(примерно по 5 тыс. км в каждую сторону).

Основной репер Клуба активного туризма Крыма.
Установлен в 2009 году.

Самая южная точка Крыма ($44^{\circ} 23'$) — мыс Сарыч, у поселка Форос, расположенный между Севастополем и Алушкой.


Самая северная ($46^{\circ} 15'$) находится на Перекопском перешейке, у села Перекоп.

Самая западная точка Крыма ($32^{\circ}29'$) — мыс Прибойный (Кара-Мрун) на Тарханкутском полуострове.

Самая восточная ($36^{\circ}39'$) — мыс Фонарь на Керченском полуострове.

Площадь Крымского полуострова превышает 26 тыс. км², максимальное расстояние с севера на юг — 205 км, с запада на восток — 325 км.

Крайние точки





**Северная точка Перекопский вал (Крепость
ОР-Капу)**

Мыс Сарыч – самая южная оконечность Крыма





**Мыс Карамрун
(Прибойный) – западная
точка**

Мыс Фонарь – восточная точка



БЕРЕГОВАЯ ЛИНИЯ



Тарханкутский полуостров



Каркинитский залив



Каламитский залив



Гераклейский полуо



Херсонесский мыс



Мысы Айя, Ласпи, Сарыч, Ай-Тодор,
Мартьян, Аю-Даг, Плака, Меганом, Киик-
Атлама, мыс Ильи.



Бухта Ласпи




Ай - Тодор




Мартъян



Аюдаг и Плака



Меганом



Мыс Киик-Атлама, мыс Святого Ильи



Акмонайский перешеек – соединяет Керченский п-ов с основной частью Крымского п-ова



Керченский п-ов



Керченский пролив



Остров Тузла



Феодосийский залив



Арабатский и Казантипский заливы



мыс Казантип + полуостров Казантип



мыс Опук



Арабатская стрелка



Сиваш



Генический (Тонкий) пролив




Элькен-Кая (камни-корабли)



Золотые Ворота



Птичьи скалы у мыса Плака



Адалары



Дива у Симеиза



Лебязьы острова



Крымский полуостров равноудален от _____ и _____. На севере Крымский полуостров соединяется с материковой частью узким _____ перешейком. По этому перешейку проходит сухопутная граница Республики Крым с соседней областью Украины - _____. На востоке находится _____ пролив, который соединяет _____ и _____ моря.

Рефлексия содержания учебного материала

• Сегодня я узнал...

• Было трудно...

• Я выполнял задания...

• Я понял что...

• Теперь я могу...

• Я научился...

• Урок для меня показался...

• Для меня было открытием то, что...

Домашнее задание

- Подготовиться к опросу, повторить п.1-5.
- Выучить стр. 8 – 10 – тетрадь.
- Творческое задание : «Как повлияло на природу географическое положение Крыма. Какие здесь растут растения и почему? Где они растут?»