

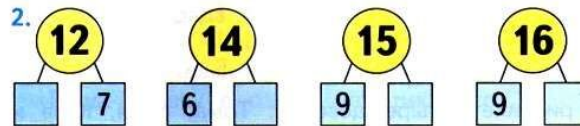
Математика

Закрепление знаний по теме «Табличное сложение и вычитание чисел».

Работа по учебнику, с.89

1. Реши с устным объяснением.

$7 + 6$	$11 - 5$	$12 - 3 + 6$	$12 - 8 + 7$
$8 + 6$	$12 - 5$	$17 - 8 + 7$	$15 - 9 + 4$
$9 + 6$	$13 - 5$	$11 - 7 + 8$	$14 - 7 + 2$



3. Андрей и Сергей решили испытать себя в качестве вратарей. Каждый из них пробил 10 мячей в ворота противника. Андрей отбил 6 мячей, а Сергей — 8. Сколько голов забил в ворота каждый мальчик? Кто из них забил больше голов и на сколько?




4. $18 \bigcirc 20$ | $9 \bigcirc 11 - 2$ | $1 \text{ дм} \bigcirc 9 \text{ см}$
 $16 \bigcirc 14$ | $9 \bigcirc 10 - 0$ | $1 \text{ дм} \bigcirc 10 \text{ см}$

5. Сначала назови те числа, которые меньше, чем число 7, а потом — те, которые расположены в ряду между числами 10 и 6.

6. Начерти ломаную из трёх звеньев: длина первого — 1 дм, второго — 6 см, а третьего — 4 см. Узнай, на сколько сантиметров первое звено длиннее второго, а второе — длиннее третьего.

«Проверочные работы», с. 50, 51.

НАЙДИ
ЛИШНЮЮ
ФИГУРУ:



Самостоятельно решить выражения в тетради.

Устно

Подсказка.

- 1) $\blacksquare - \blacksquare = \blacksquare$ (г.) — забил Сергей
 2) $\blacksquare - \blacksquare = \blacksquare$ (г.) — забил Андрей
 3) $\blacksquare - \blacksquare = \blacksquare$ (г.)

Ответ: на \blacksquare голов забил больше

Записать в тетрадь и вставить соответствующие знаки

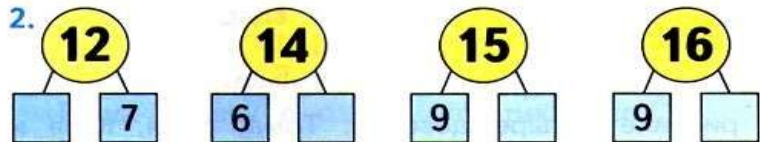
Запиши числа, которые меньше 7, затем, которые между 10 и 6

Начерти ломаную. Запиши решение

Реши свой вариант (задание на следующем слайде)

1. Реши с устным объяснением.

$$\begin{array}{cccc} 7 + 6 & 11 - 5 & 12 - 3 + 6 & 12 - 8 + 7 \\ 8 + 6 & 12 - 5 & 17 - 8 + 7 & 15 - 9 + 4 \\ 9 + 6 & 13 - 5 & 11 - 7 + 8 & 14 - 7 + 2 \end{array}$$



3. Андрей и Сергей решили испытать себя в качестве вратарей. Каждый из них пробил 10 мячей в ворота противника. Андрей отбил 6 мячей, а Сергей — 8. Сколько голов забил в ворота каждый мальчик? Кто из них забил больше голов и на сколько?



4. $18 \bigcirc 20$ $9 \bigcirc 11 - 2$ $1 \text{ дм} \bigcirc 9 \text{ см}$
 $16 \bigcirc 14$ $9 \bigcirc 10 - 0$ $1 \text{ дм} \bigcirc 10 \text{ см}$

5. Сначала назови те числа, которые меньше, чем число 7, а потом — те, которые расположены в ряду между числами 10 и 6.

6. Начерти ломаную из трёх звеньев: длина первого — 1 дм, второго — 6 см, а третьего — 4 см. Узнай, на сколько сантиметров первое звено длиннее второго, а второе — длиннее третьего.

«Проверочные работы», с. 50, 51.

Устно
 НАЙДИ
 ЛИШНЮЮ
 ФИГУРУ:



Проверочная работа 2

Вариант 1

1) Вычисли.

1)	$16 - 7 =$	$15 - 8 =$	$17 - 9 =$
	$18 - 9 =$	$16 - 9 =$	$15 - 6 =$
2)	$8 + 4 - 7 =$	$13 - 5 + 9 =$	

2) На прогулке было 7 девочек, а мальчиков на 3 больше. Сколько всего детей было на прогулке?

Проверочная работа 2

Вариант 2

1) Вычисли.

1)	$15 - 7 =$	$17 - 8 =$	$15 - 9 =$
	$16 - 8 =$	$18 - 9 =$	$16 - 7 =$
2)	$14 - 8 + 9 =$	$7 + 8 - 6 =$	

2) К празднику купили 10 красных воздушных шаров, а жёлтых на 4 меньше. Сколько всего купили красных и жёлтых воздушных шаров?



МОЛОДЦЫ!

**Спасибо за урок!
Желаю удачи!**