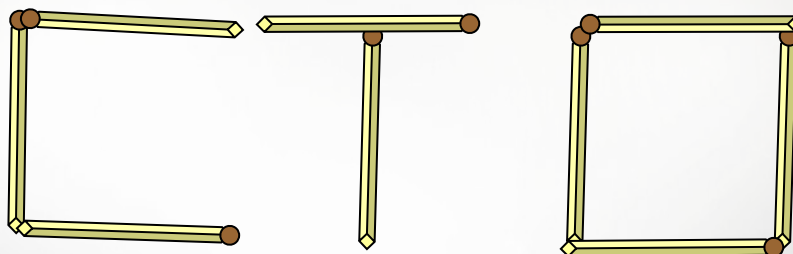


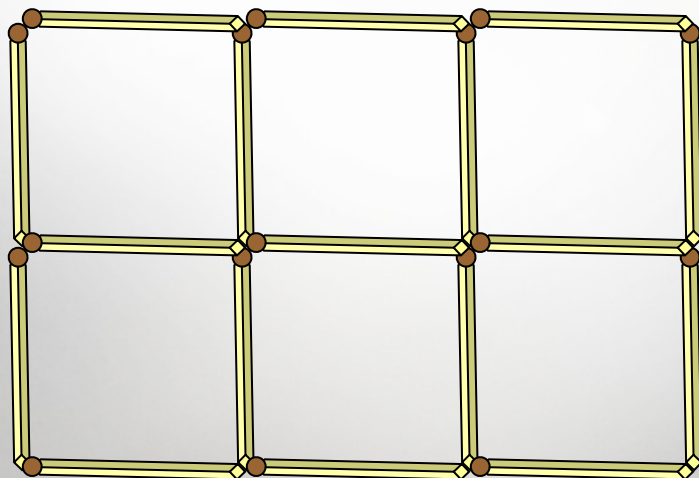
Задачи со спичками



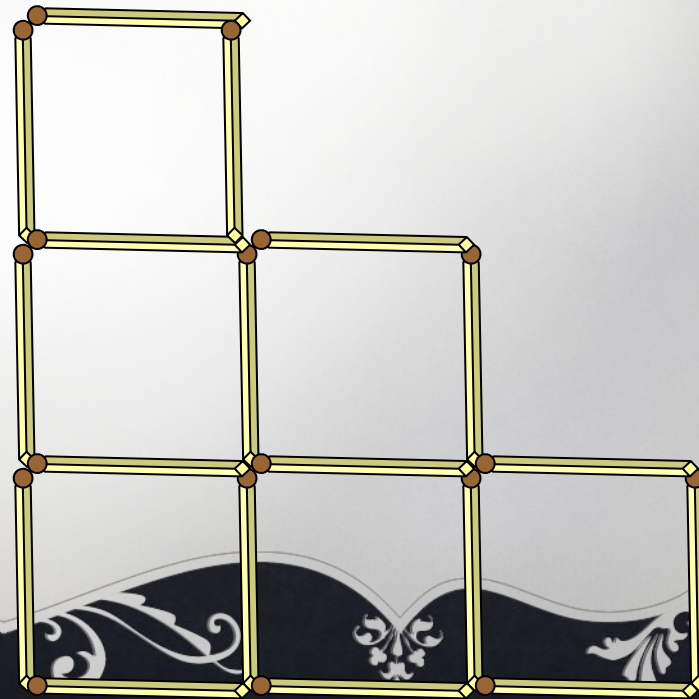
**К разложенным на столе четырём
спичкам прибавьте ещё пять спичек так,
чтобы получилось сто.**



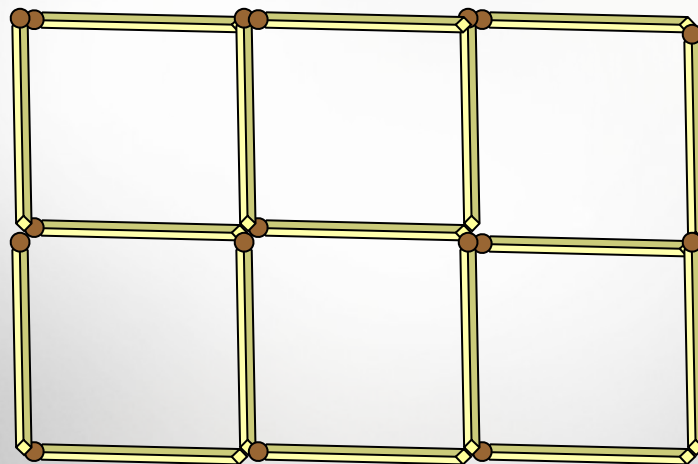
Семнадцать спичек составляют 6 одинаковых (в 2 ряда) прилегающих друг другу квадратиков. Снимите 5 спичек так, чтобы после этого осталось 3 таких же квадратика.




**Из 18 спичек, составляющих 6 данных
квадратиков, отнимите 2 спички так,
чтобы осталось 4 таких же квадратика.**



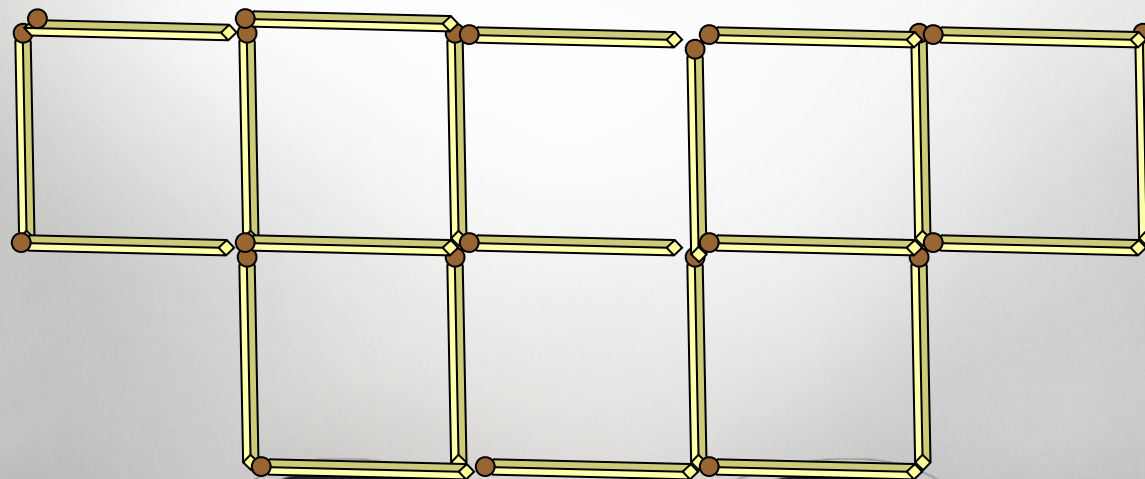
**Переложите 2 спички так, чтобы
образовалось 5 равных квадратиков.**



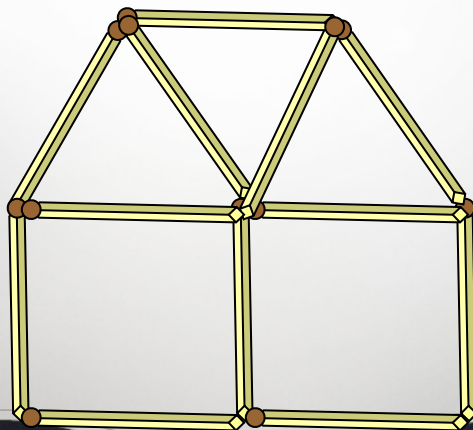
**От 7 квадратиков,
которые составлены из 22
спичек и образуют крест,
отнимите 6 спичек так,
чтобы осталось 4 таких же
одинаковых квадратика.**



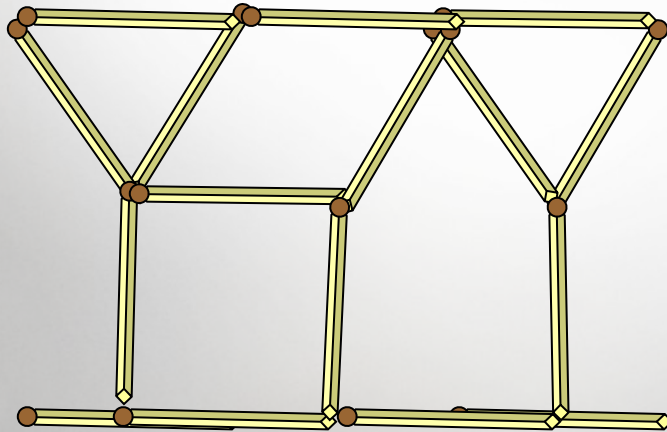
**Отнять 3 спички так, чтобы
оставшиеся спички образовали 5
одинаковых квадратов.**



**Этот дом составлен из 10 спичек.
Требуется повернуть его к нам другой
стороной, переложив только 2 спички.**



**Переложите 6 спичек так, чтобы из 2
рюмок получился такой дом, какой
был в предыдущей задаче.**



**Переложите три спички так, чтобы
получилось 3 квадрата.**

