
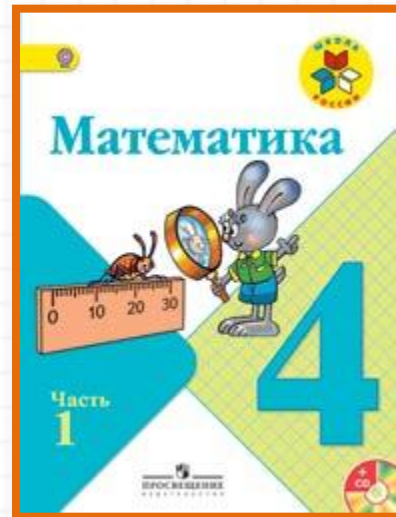



Школа России

4 класс



Закрепление изученного

Устный счёт



Приведите корабли к причалу.

120


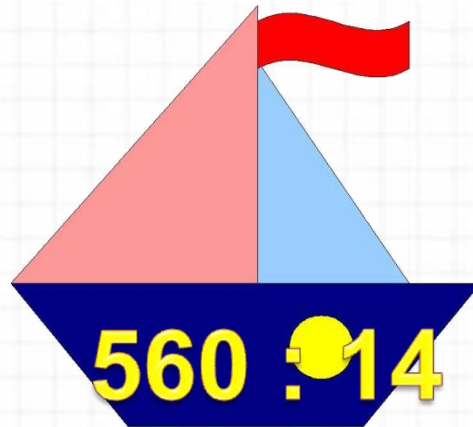

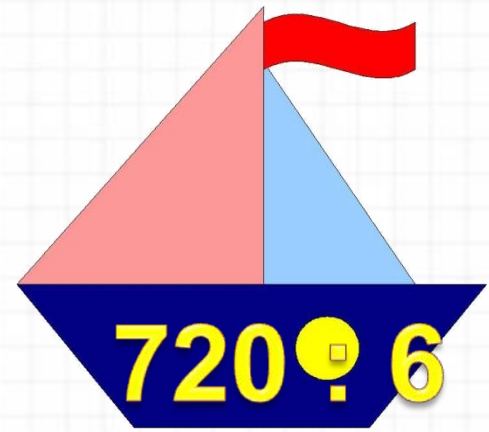

80

128

130

30

40



- Найдите $\frac{1}{6}$ от 48.
- Найдите $\frac{3}{8}$ от 64.
- Найди число, $\frac{1}{10}$
которого равна 37.
- Найди число, $\frac{2}{5}$
которого равны 16.

Найдите в каждом ряду лишнее число.

20 460, 34 780, 25 400

456 389, 246 469, 236 566


230 458, 235 900, 247 459

В **10** мешках **1 т** крупы. Сколько крупы в одном мешке?



100 кг

Прыжок дельфина составляет **680 см**.
Вырази высоту прыжка в метрах и
сантиметрах.



6 м 80 см

Ширина дороги **15 м**, а длина **3 км**. Какую площадь занимает дорога?



45 000 м²

Взрослый бегемот может пробыть под водой **6** минут, а детёныш **1/8** часть этого времени. На сколько секунд дольше может пробыть под водой взрослый бегемот, чем детёныш?



на 315 с.

Периметр участка **16 м**, ширина **3 м**.
Найдите площадь участка.



3 м

$$S = 15 \text{ м}^2$$