

Історична карта

НІМІЙ

1. Топоніміка - це ...

2. Східні слов'яни – це етнонім, який об'єднує назви трьох народів -

3. Племена – предки українського народу -

4. Історичні джерела бувають -

5. Легенда про заснування Києва розміщена в літописі , який був написаний в році

6. 1187 рік – це

НІМІЙ

ДИКТАНТ

7. Першу Запорізьку Січ заснував –

8. Козак – це ...

9. 1556 рік – це дата заснування на острові...

10. Вид усної народної творчості, коли слова напівпромовляються, напівпроспівуються - це

11. Кий, Щек, Хорив та Либідь походили з племені



Хто це?



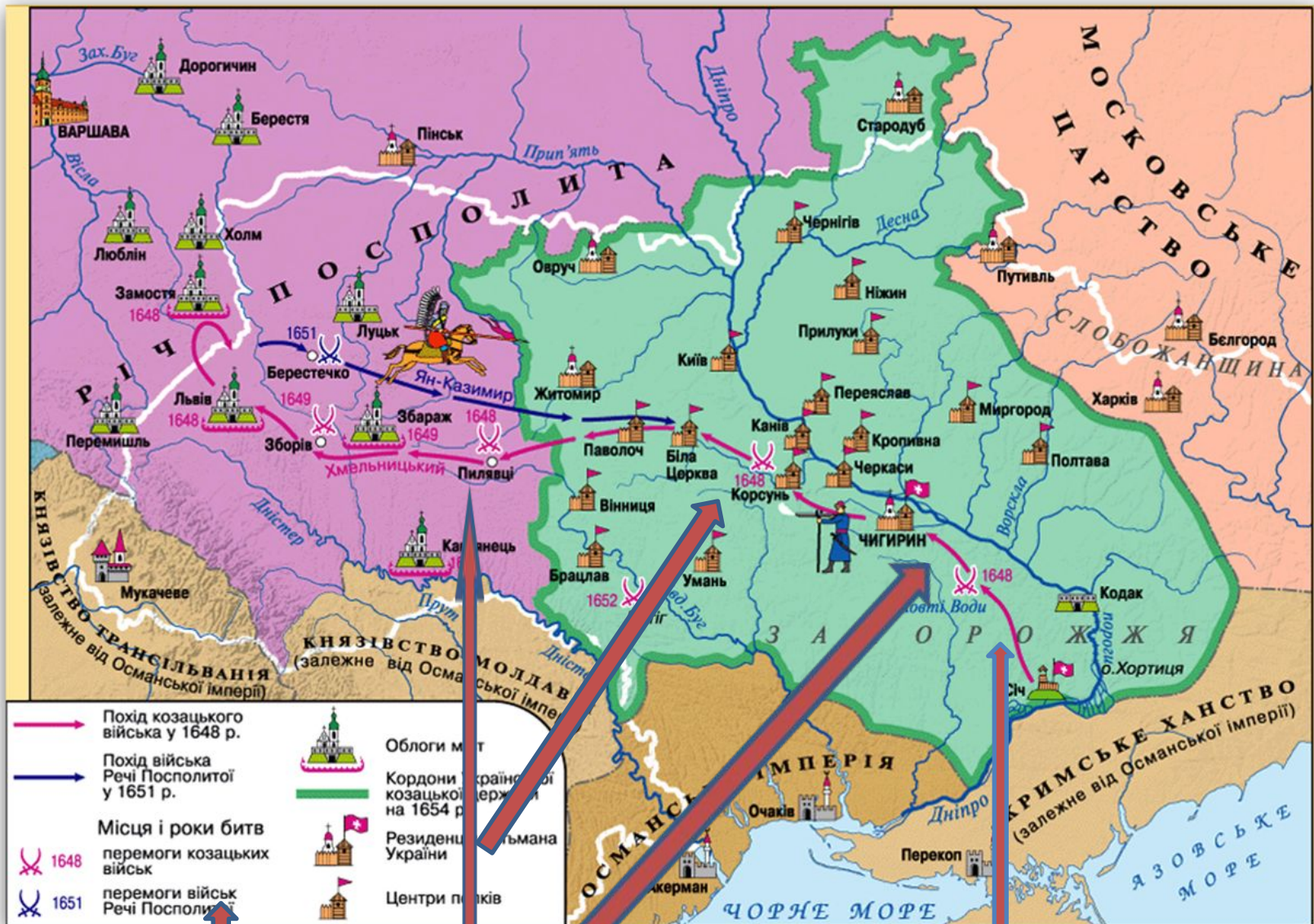
Козаки будували Січі за

**Історична карта –
зменшене зображення
земної поверхні, її
частин, на яких
позначають ті чи інші
події**

Робота з зошитом

Легенда карти — умовні позначки, за допомогою яких можна прочитати історичну карту.

Легенда повинна містити всі використані на карті умовні позначки, які мають бути розташовані в такому порядку, щоб упродовж читання легенди можна було скласти уявлення про зміст карти, не дивлячись на неї. Зображення позначок у легенді і на карті повинні бути однаковими



Легенда
карти

Місця битв

Напрями
військових походів

Робота з зошитом

Пам'ятка «Як працювати з історичною картою»

- 1. Прочитати назву карти.**
- 2. Ознайомитись з легендою.**
- 3. Знайти на карті саме ті умовні позначки, які необхідні під час розгляду конкретного питання.**
- 4. Порівняти здобуту інформацію з матеріалами підручника**

ЗАПАМ'ЯТАЙ

Починаючи працювати з історичною картою, необхідно пам'ятати такі правила:

1. За кольорами відрізняють одну територію від іншої.
2. Штриховкою позначають події та явища, що пов'язані певною територією (приміром, перехід району від однієї держави до іншої).
3. Місця битв позначають перехрещеною зброєю.
4. Стрілками позначають пересування військ і народів.
5. Кордони держав, інші межі позначають лініями різного малюнка.
6. Міста позначають кружечками, квадратиками або малюнками.

Як демонструвати історичні об'єкти на карті

- Кордони держав слід обводити указкою по замкненій кривій.
- Напрямки військових походів та пересувань показуйте за стрілками, які позначені на карті.
- Міста показуйте дотиком указки до умовної позначки, а не назви міста.
- Річки слід показувати за течією – від витоків до гирла



Легенда карти

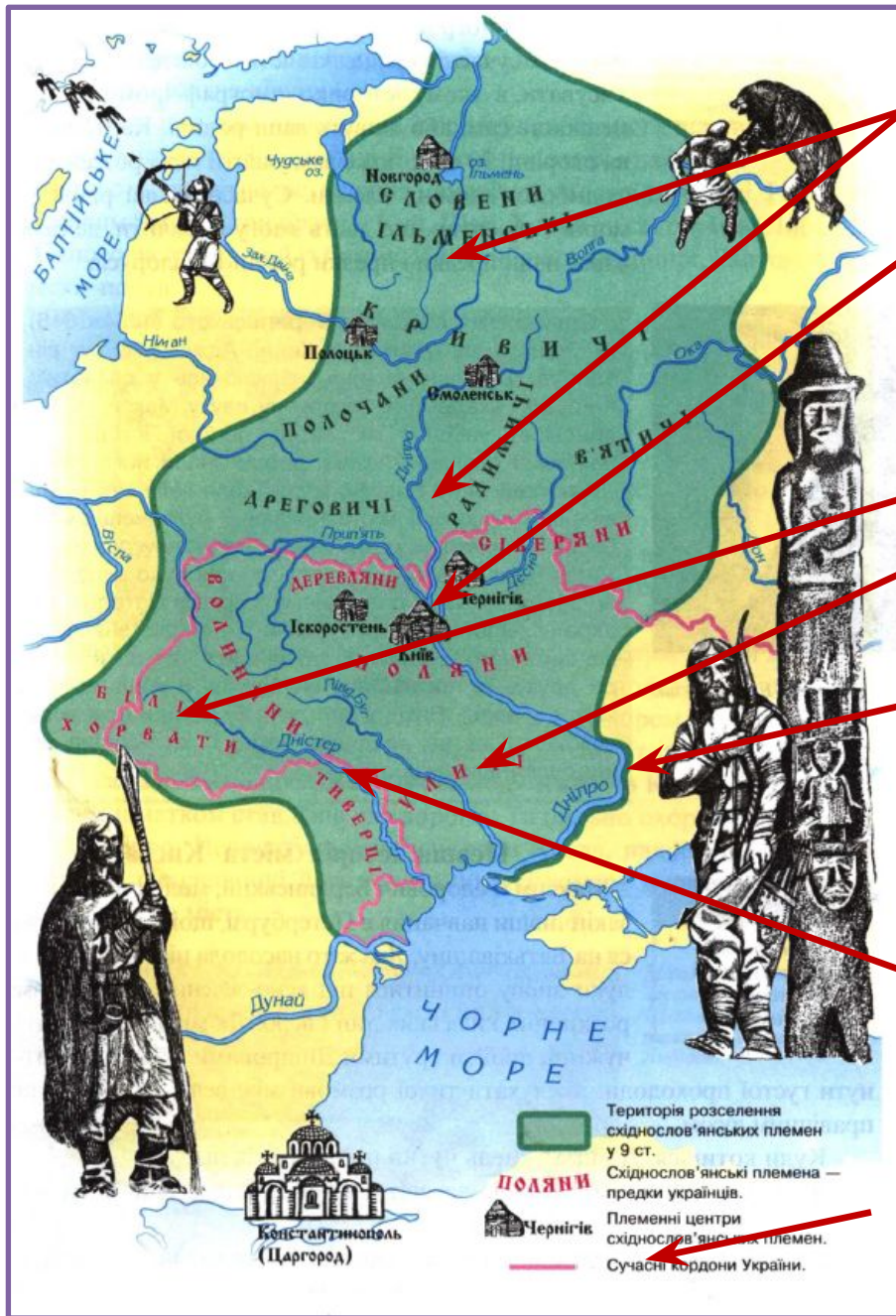
Сучасні кордони України

Міста України

ПРАВОБЕРЕЖНА Україна ПБУ

ЛІВОБЕРЕЖНА Україна ЛБУ





Племена Київської Русі

Міста Київської Русі

Племена, які проживали на території України

Кордони Київської Русі

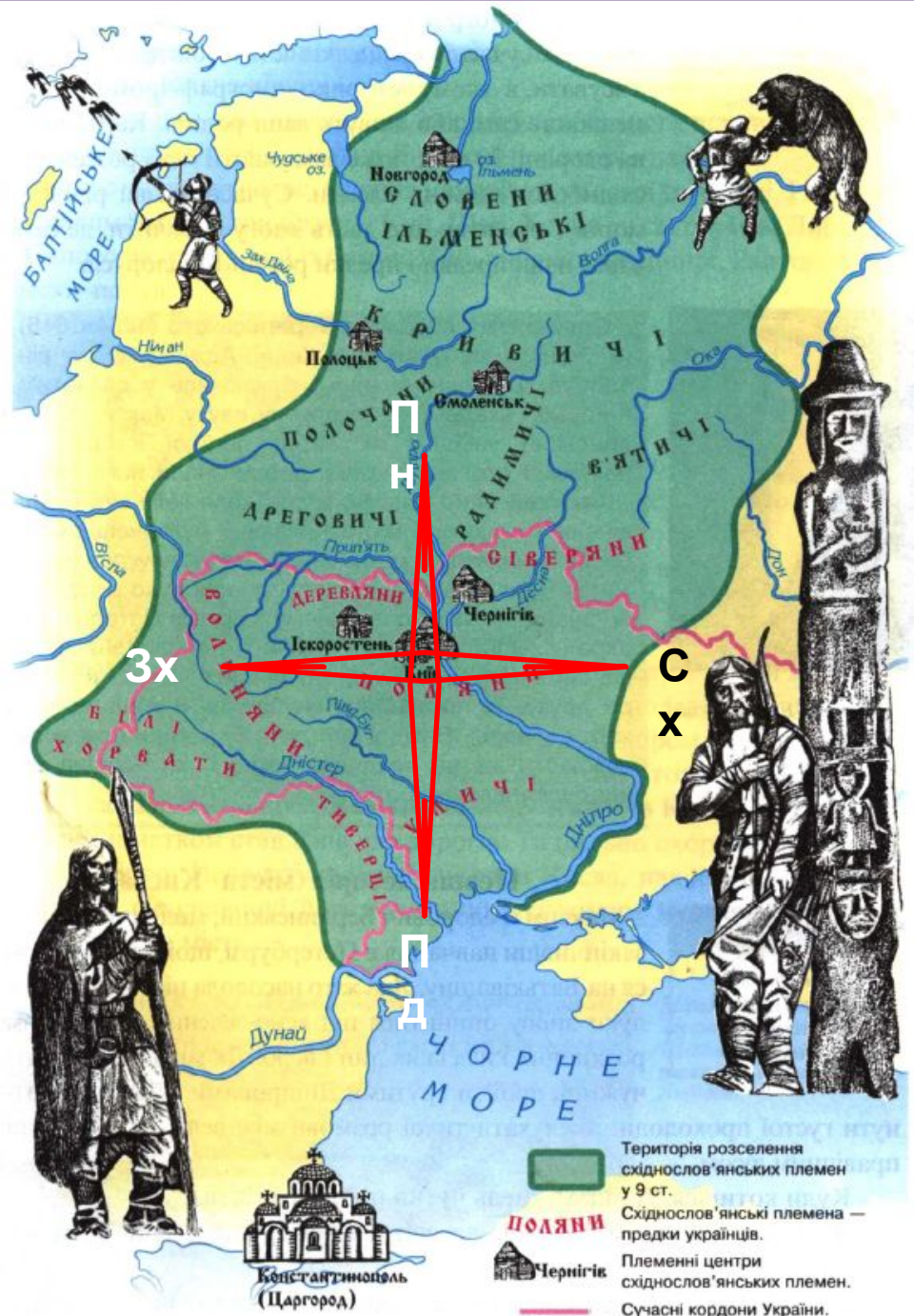
Сучасні кордони України

Легенда карти

Працюємо з підручником

- На основі тексту (с.63 – 66) пригадайте:
 1. Які племена були предками сучасних українців?
 2. Чим займалися слов'яни?
 3. Які слов'янські племена проживали на території України? (с.66 підручника)





Користуючись картою слайду та підручника (с.66), вкажіть назву східнослов'янського племінного союзу 7 – 8 століття, земля якого лежала:

- ❖ на північному сході від полян, на лівих притоках Дніпра;
- ❖ на південь від полян;
- ❖ на захід від полян;
- ❖ між Дністром і Прутом



Адміністративно – територіальний устрій сучасної України:

- ❖ 24 області;
- ❖ Автономна Республіка Крим;
- ❖ Столиця - Київ

Домашнє завдання

Параграф 10 – читати, потренуватися за картою вказувати напрямки розселення східних слов'ян (наприклад – на північному сході від полян, на лівих притоках Дніпра знаходились землі сіверян; на південь від полян – уличі; на заході від полян – волиняни та хорвати; між Дністром та Прутом - тиверці) ; ліво та правобережну Україну; повторити вивчені терміни та дати . В РП в розділі «Хронос» повинні бути дати:

1449 – утворення Кримського Ханства, правляча династія – Гіреї;

1489 – перша письмова згадка про козаків;

1556 – створення першої ЗС на острові Мала Хортиця Дмитром Байдою Вишневецьким.

Племена – предки українського народу вивчити .