



**Состав чисел  
второго десятка  
с переходом  
через десяток**

Какие числа живут в домике?

11

$6+5$

$6+6$


$7+4$

$8+3$

$7+3$

$9+2$

$8+2$





Какие числа живут в домике?

12

$6+5$

$8+3$


$7+5$

$8+4$

$7+4$

$9+3$

$6+6$



Какие числа живут в домике?

13

$6+7$

$6+6$


$9+4$

$8+5$

$7+5$

$9+3$

$8+4$





Какие числа живут в домике?

14

$9+3$

$6+7$


$9+5$

$8+4$

$7+5$

$7+7$

$8+6$



Какие числа живут в домике?

15

$9+5$

$6+7$


$9+6$

$8+6$

$7+6$

$8+7$

$9+7$





Какие числа живут в домике?

16

$9+7$

$8+7$


$9+5$

$8+6$

$7+6$

$9+8$

$8+8$



Какие числа живут в домике?

17

$8+8$

$8+7$


$9+7$

$8+6$

$7+7$

$8+5$

$9+8$





Какие числа живут в домике?

18

$8+5$

$8+7$

$9+7$

$9+9$

$9+8$

$8+6$

$8+8$

