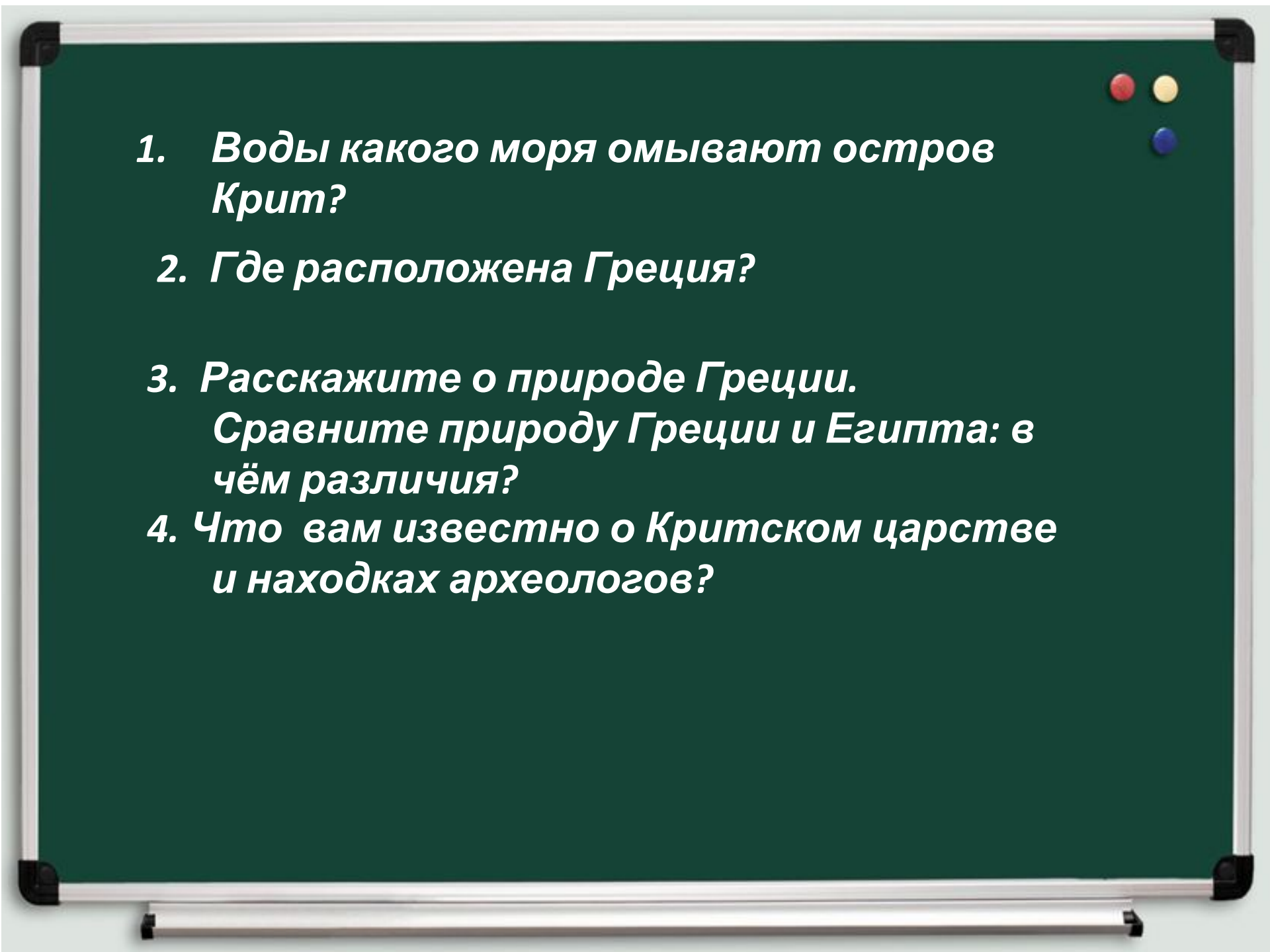


МИКЕНЫ И ТРОЯ

Древний мир
5 класс

- 
- 1. Воды какого моря омывают остров Крит?**
 - 2. Где расположена Греция?**
 - 3. Расскажите о природе Греции.
Сравните природу Греции и Египта: в чём различия?**
 - 4. Что вам известно о Критском царстве и находках археологов?**

2. Где расположена Греция?

3. Расскажите о природе Греции.

Сравните природу Греции и Египта: в чём различия?

4. Что вам известно о Критском царстве и находках археологов?


3. *Расскажите о природе Греции.*

Сравните природу Греции и Египта: в чём различия?

4. *Что вам известно о Критском царстве и находках археологов?*

***4 Что вам известно о Критском царстве
и находках археологов?***

Повторение пройденного



Битва Минотавра и Тесея, ваза Фивеидо 4 в. до н.э., Википедия:Общедоступ

Какой миф отражают эти картинки?
Составьте рассказ.

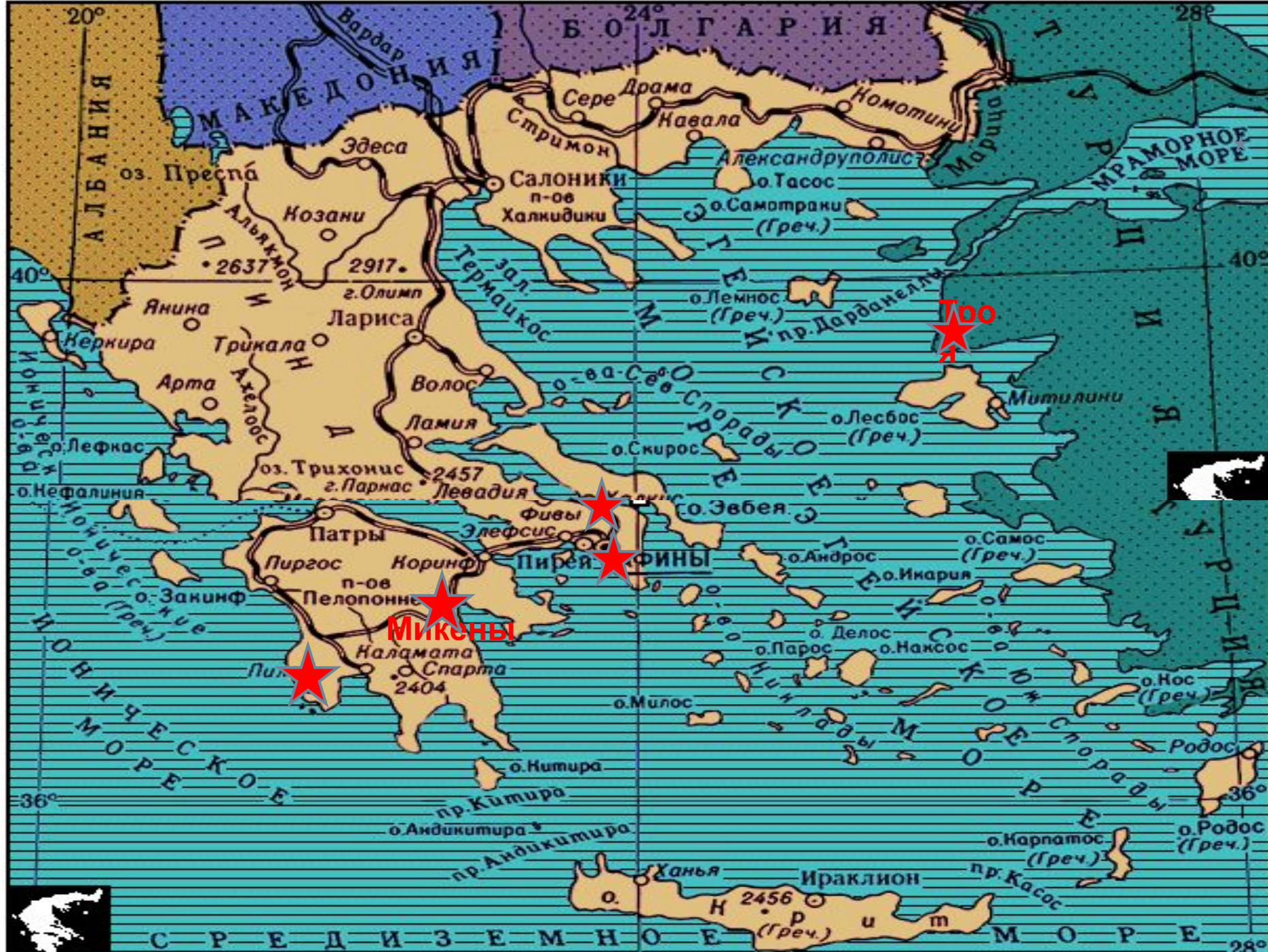
План урока.

- 1. Микены – самый могущественный город древнейшей Греции.**
- 2. Троянская война и вторжение в Грецию воинственных племён.**
- 3. Миф о причинах Троянской войны.**

Древние Микены



Во 2-ом тыс. до н.э. В Греции существовали независимые города: на юге Пилос, северо-восточнее Тиринф. В центральной части – Афины, где некогда согласно мифу правил царь Эгей, и Фивы. Все эти города были центрами древнейших греческих государств. Самый могущественный из древнейших греческих городов – Микены. В южной части Греции расположены Мессена и Спарта.



Тессалоника

МИКЕНЫ

Афины

Древние Микены



Крепость Микены расположена на скалистом холме. Вход в крепость, сложенную из огромных каменных глыб, проходил через Львиные ворота.

Прочитайте на стр. 116-117 описание Львиных ворот.

Древние Микены



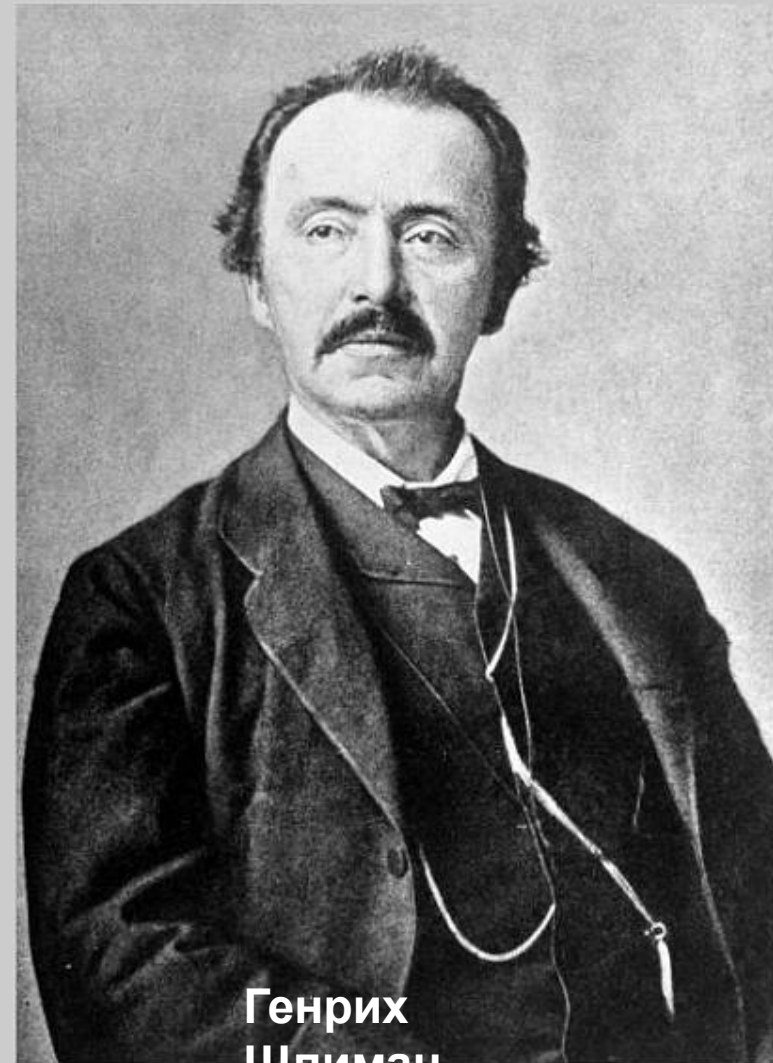
Маска

Внутри крепости находился царский дворец, рядом с ним – дома родственников и приближённых микенского царя. Поблизости от Львиных ворот археологи раскопали царские могилы. По золотым маскам, лежавшим на лицах погребённых, можно представить облик микенских

Троянская война



Историческая схема Трои



Генрих Шлиман

Троянская война



Троянская война. Схема расположения войск троянцев и греков

Вслед за Критом греки стали заселять другие острова Эгейского моря. Они стремились укрепиться и на его восточных берегах – на полуострове Малая Азия. Противником греков здесь было Троянское царство. Против него в 1200 г. до н.э. выступило объединённое войско греческих городов. Осада Трои – столицы царства – закончилась её падением. Греки разграбили

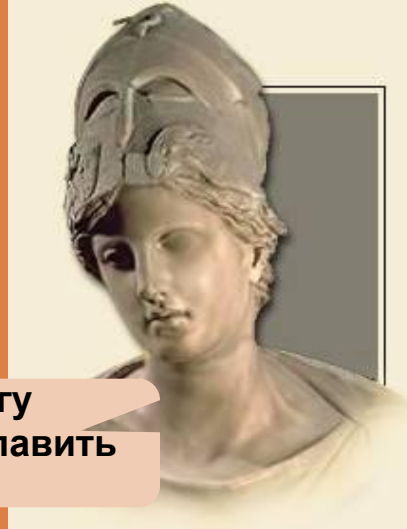
Миф о начале Троянской ВОЙНЫ



Сделаю
властелино
м

Гера – жена
Зевса

Прекраснейш
ей



Помогу
прославить
ся

Афина – дочь



Найду
красивую
жену

Афродита – дочь
Зевса



Миф о начале Троянской войны



Суд Париса

Миф о начале Троянской войны



Похищение Парисом Прекрасной Елены



Миф о начале Троянской войны



**Парис и
Елена**



Царь Спарты Менелай

Троянская война



Троянская война



Нападение северных племен привело к:

- ▣ **Падению хозяйства**
- ▣ **Была забыта письменность**
- ▣ **Население переселилось в горы и на острова Эгейского моря**