

**ОГЭ по БИОЛОГИИ: раздел «ЧЕЛОВЕК»**

**1.ЧЕЛОВЕК.  
ОБЩИЙ ОБЗОР  
ОРГАНИЗМА**

(задания с рисунками)

Автор: Маслак Е.Н.

**На рисунке  
под каким номером  
изображён один  
из атавизмов человека?**

1)



3)



2)



4)



• 1

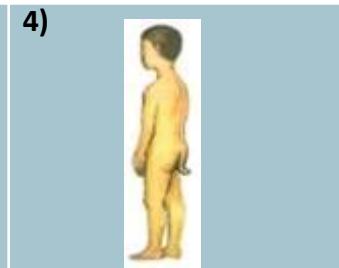
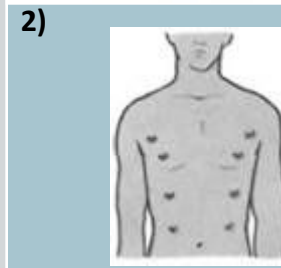


• 2

• 3

• 4

**На рисунке  
под каким номером  
изображён один  
из рудиментов  
человека?**



• 1

• 2

• 3

• 4



**На рисунке под каким номером изображён один из рудиментов человека?**

1)



3)



2)



4)



• 1

• 2

• 3

• 4



**На рисунке  
под каким номером  
изображён один  
из атавизмов  
человека?**

1)



3)



2)



4)



• 1

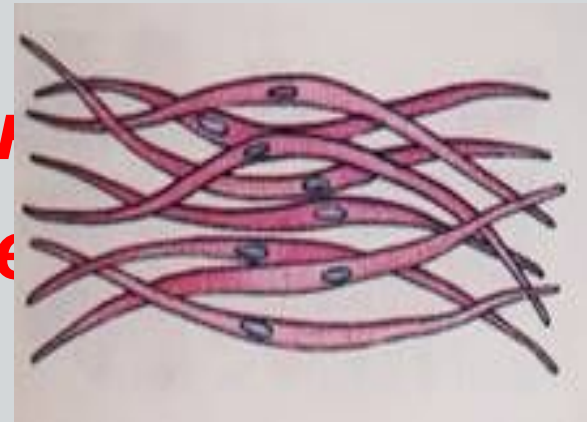


• 2

• 3

• 4

**В состав какого органа входят мышечные клетки изображённые на рисунке**




• Языка

• Двуглавой мышцы

• Височной мышцы

• Стенки желудка

***В состав какого органа входят мышечные клетки, изображённые на рисунке?***



• Кишечник

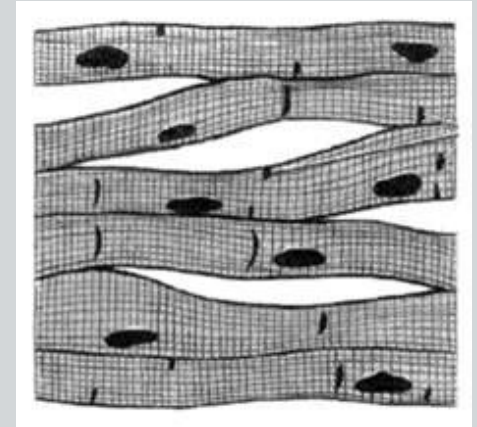
• Двуглавая мышца плеча

• Матка

• Желудок



***В состав какого органа входят мышечные клетки, изображённые на рисунке?***



• Сердце



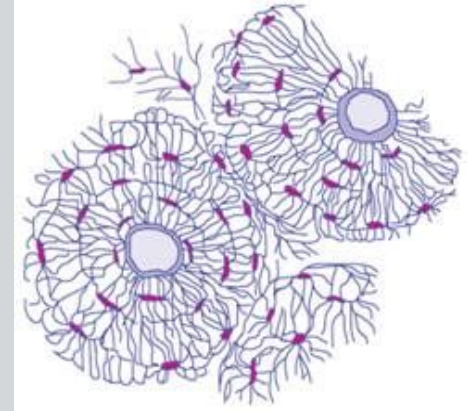
• Кишечник

• Матка

• Желудок



**Изображённая  
на рисунке ткань  
является основой**



• Скелета

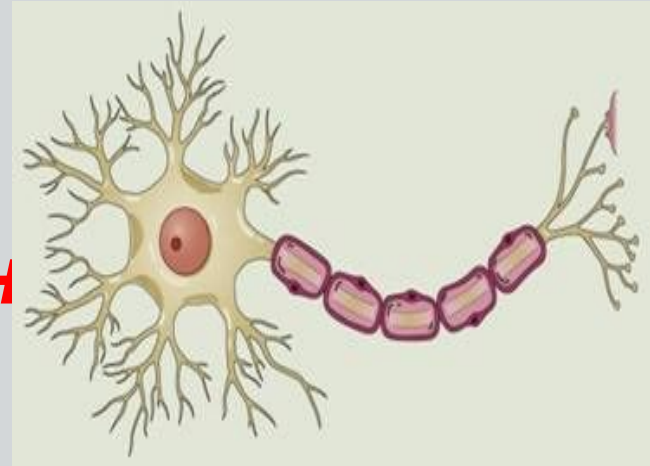


• Гладких мышц

• Желёз внутренней секреции

• Головного мозга

**Основой какой системы является изображённая на рисунке клетка?**



- Мышечной
- Нервной
- Выделительной
- Кровеносной



**На рисунке изображена Эйфелева башня, расположенная в Париже. Строение какого внутреннего органа человека она имитирует?**




• Печени

• Почки

• Кости

• Мозга

**Под какой цифрой на рисунке изображён кроманьонец, если под цифрой 1 изображён австралопитек?**



• 5




• 4

• 3

• 2

**Под какой цифрой изображён человек прямоходящий?**



• 1


• 2

• 3

• 4



**Под какой цифрой на рисунке изображен австралопитек?**



• 1

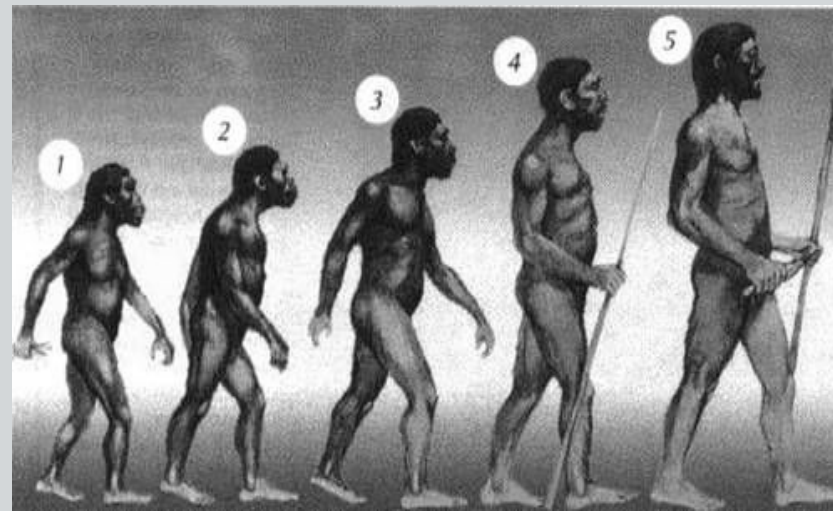


• 2

• 3

• 4

**Под какой цифрой изображён человек умелый, если под цифрой 1 обозначен австралопитек?**



• 1


• 2

• 3

• 4



**Под какой цифрой на нём изображен неандерталец, если цифрой 1 обозначен австралопитомин?**



• 2

• 3

• 4

• 5






**Какому из представителей рода  
Человек принадлежат  
представленные изображения  
на скальных рисунков?**



- Питекантропу
- Неандертальцу
- Кроманьонцу
- Австралопитеку



**Под какой цифрой на рисунке изображён представитель европеоидной расы?**



• 1


• 2

• 3

• 4



**Под какой цифрой на рисунке изображён представитель монголоидной расы?**



• 1

• 2

• 3

• 4



**Под какой цифрой  
на рисунке  
изображён  
представитель  
негроидной расы?**



• 1



• 2

• 3

• 4

# Анализ работы с тестом