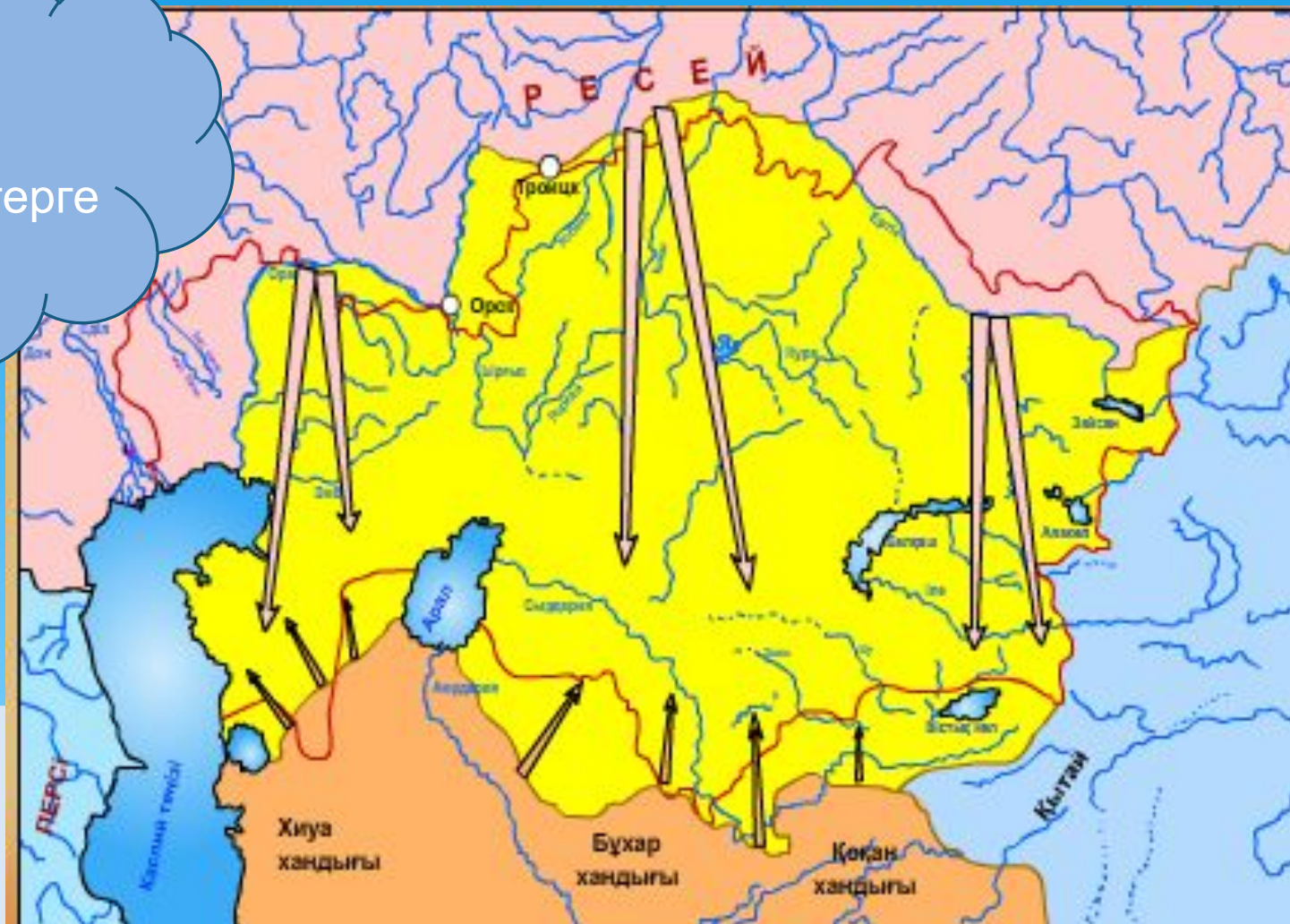


«Мықты ел екі әлсіз елдерді жаулап алу үшін оларды бір-біріне айдап салып әлсіреген кезде жаулап алады». *Ф.Энгельс*

Берілген
цитата қай
мемлекеттерге
қатысты?



Тақырыбы: Неліктен Ортаазиялық хандықтардың Қазақстанның оңтүстік аймақтарына экспансиясы күшейді?

- * С. Датұлы, К. Қасымұлы, Ж. Нұрмұхамедұлының ұлт-азаттық күресіндегі жетекшілік рөліне баға береді
- * Ресей империясының отарлық саясатын талдайды
- * тарихи оқиғаларды түсіндіру кезінде, тарихи карталарды пайдаланады
- * тарихи оқиғаға толық түсіндірме беру үшін негізгі ұғымдарды таңдап қолданады

Дағдылар

Жетістік критерийлері

Егер... оқушы оқыту мақсатына жетті

Білу және түсіну

Хиуа, Бұқара, Қоқан мемлекеттерінің оңтүстік Қазақстан аумағын жаулаудағы мақсаттарын нақты көрсетеді

Қолдану

Берілген 10 ұғымдарды Жанқожа және Есет батыр көтерілісіне түсіндірме беруде дұрыс қолданады.

Қолдану

Картадан Жанқожа көтерілісі мен Есет батырлар көтерілісі аймағын көрсетеді, көтерілістерге қатысты 2 сұраққа дұрыс жауап береді

Анализ

Мәтінмен танысып, Ресей империясының 3 саясатын анықтайды, аргументтермен толықтырады, қорытынды жасайы.

Бағалау

Ж. Нұрмұхамедұлы және Есет батырдың ұлт-азаттық күресіндегі жетекшілік рөліне 2 факті келтіріп, 1 қорытынды баға бере алады

Жанқожа Нұрмұхамедұлы

(1774-1860)



Жанқожа Нұрмұхамедұлы





**Есет батыр
(1807-1888)**



Шалқар қаласындағы батыр атындағы көше

Жұптық жұмыс

(15 минут)

Берілген ұғымдар қай көтеріліске сәйкес? Қандай оқиғаны сипаттайды?

- * Хиуа хандығы, шекті, Елек бекінісі, қарт батыр, қызыл тілге шешен, Жанқожа Нұрмұхаммедұлы, Есет батыр, экспансия, күңдік, құлдық, ұшыр, зекет, Фитингоф, Қоқан, 1836 ж, 1838 ж, экспансия

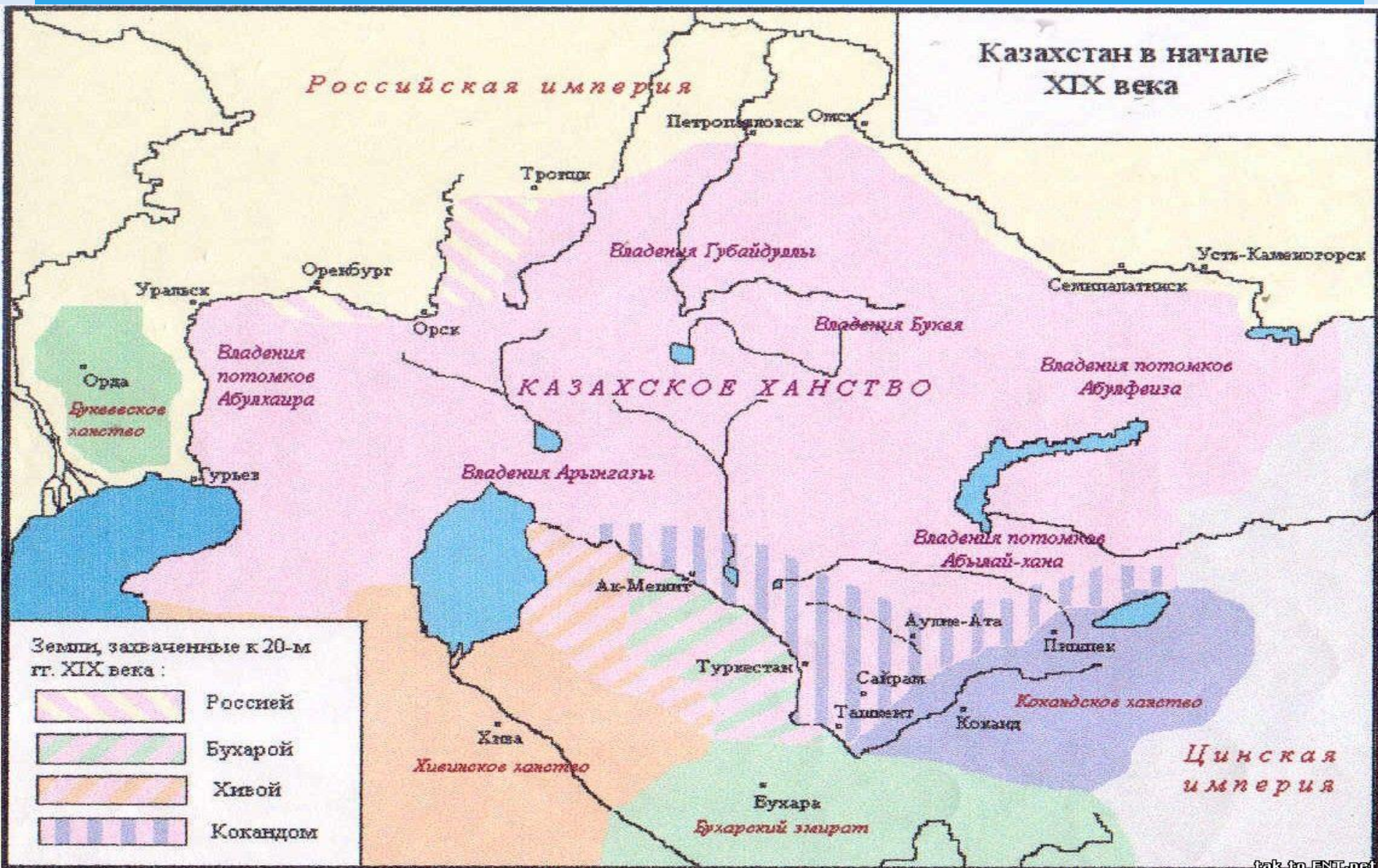
Бейнематериал

<http://lms.nci.kz/history/view?f=224&id=9&lang=rus>

Ортаазиялық хандықтардың Қазақстанның
оңтүстік аймақтарына экспансиясының
күшею себептері:
(8 минут)

- 1.
- 2.
- 3.
- 4.

Картамен жұмыс:



Картамен жұмыс (12 минут)

- * Жоғарыда берілген карта негізінде ХІХ ғасырдың 20 жылдарында көршілес орналасқан 4 мемлекеттің Қазақстан аумағында жаулап алған жерлерін белгілеңіз (8 слайд, карта)
- * ХІХ ғасырда өткен Исатай мен Махамбет, Кенесары Қасымұлы, Есет батыр мен Жанқожа Нұрмұхамедұлы көтерілісі қамтыған территорияларды белгілеңіз (оқулықпен жұмыс, өткен тақырыптар бойынша)

Тақырыбы: Неліктен Ортаазиялық хандықтардың Қазақстанның оңтүстік аймақтарына экспансиясы күшейді?

- * С. Датұлы, К. Қасымұлы, Ж. Нұрмұхамедұлының ұлт-азаттық күресіндегі жетекшілік рөліне баға береді
- * Ресей империясының отарлық саясатын талдайды
- * тарихи оқиғаларды түсіндіру кезінде, тарихи карталарды пайдаланады
- * тарихи оқиғаға толық түсіндірме беру үшін негізгі ұғымдарды таңдап қолданады

Кесте толтыру

15 минут

Көтерілістің уақыты	
Жетекшісі	
Қамтыған аймағы	
Барысы	
Басты оқиға	
Менің пікірім	

Топтық, жұптық жұмыс

Фишбоун стратегиясы

аргументтер

Осы көтерілістер кезінде Ресейдің ұстанған саясаты қандай?

Қорытынды

фактілер


15 минут

Жанқожа батыр



Жеке қабілетіне қатысты
екі факт және баға беріңіз

Есет батыр



Жеке қабілетіне қатысты
екі факт және баға беріңіз

7 минут

Екі жұлдыз, бір тілек



Сұрақтар:

- * Не себепті Орта Азия хандарының Қазақстанның оңтүстігіне өктемдігі күшейді?
- * Қазақтардың наразылығының себебі? Жетекшісі кім?
- * Мұхаммед Рақым Аллақұл қай жерде қамалдар сала бастады?
- * Қуаңдариядағы Хиуа бекінісін қай жылы қиратты?
- * 1845 жылы 2000 хиуалық отряды талқандалып, қай бекініс басып алынды?
- * 1847-1848 жж қай бекініс маңында хиуалықтарға тойтарыс берілді?
- * Жанқожа батыр тұлғасына сипаттама беріңіздер.
- * Көтерілістің басты себебі не?
- * Сырдария әскери шебі не себепті құрылды?
- * Көтерілісшілерге қарсы жазалаушы әскерді кім басқарды?
- * Көтеріліс қалай аяқталды?
- * Көтеріліске кімдер қатысты?
- * Қай жылы Жанқожа батыр ауылы қоршауға алынды?