

# Страничка для любознательных

## Урок № 132



*Школа России  
Математика 2 класс*





*Устный счёт*

## № 1 Выпиши неверные

равенства

$$60 - 40 = 20 + 10$$

$$18 : 6 = 12 : 4$$

$$3 \cdot 8 = 2 \cdot 9$$

$$1 \cdot 15 = 3 \cdot 5$$

$$60 - 37 = 46 - 23$$

**№ 2 Реши уравнения, где надо найти делитель.**

$$X : 7 = 4$$

$$30 - a = 2$$

$$15 : b = 5$$

$$60 : a = 10$$


$$5 \cdot X = 20$$

$$57 - X = 39$$

$$59 + y = 78$$

$$y - 34 = 12$$

№3 Периметр треугольника равен **20** см, а длина каждой его стороны равна целому числу сантиметров. Какими могут быть длины его сторон? Предложи несколько вариантов.



$$7 + 3 + 10$$

$$9 + 5 + 6$$

$$7 + 6 + 7$$

**№ 4** Запиши суммы, с помощью которых можно узнать:

*сколько минут в двух часах;*

*сколько часов в четырех сутках;*

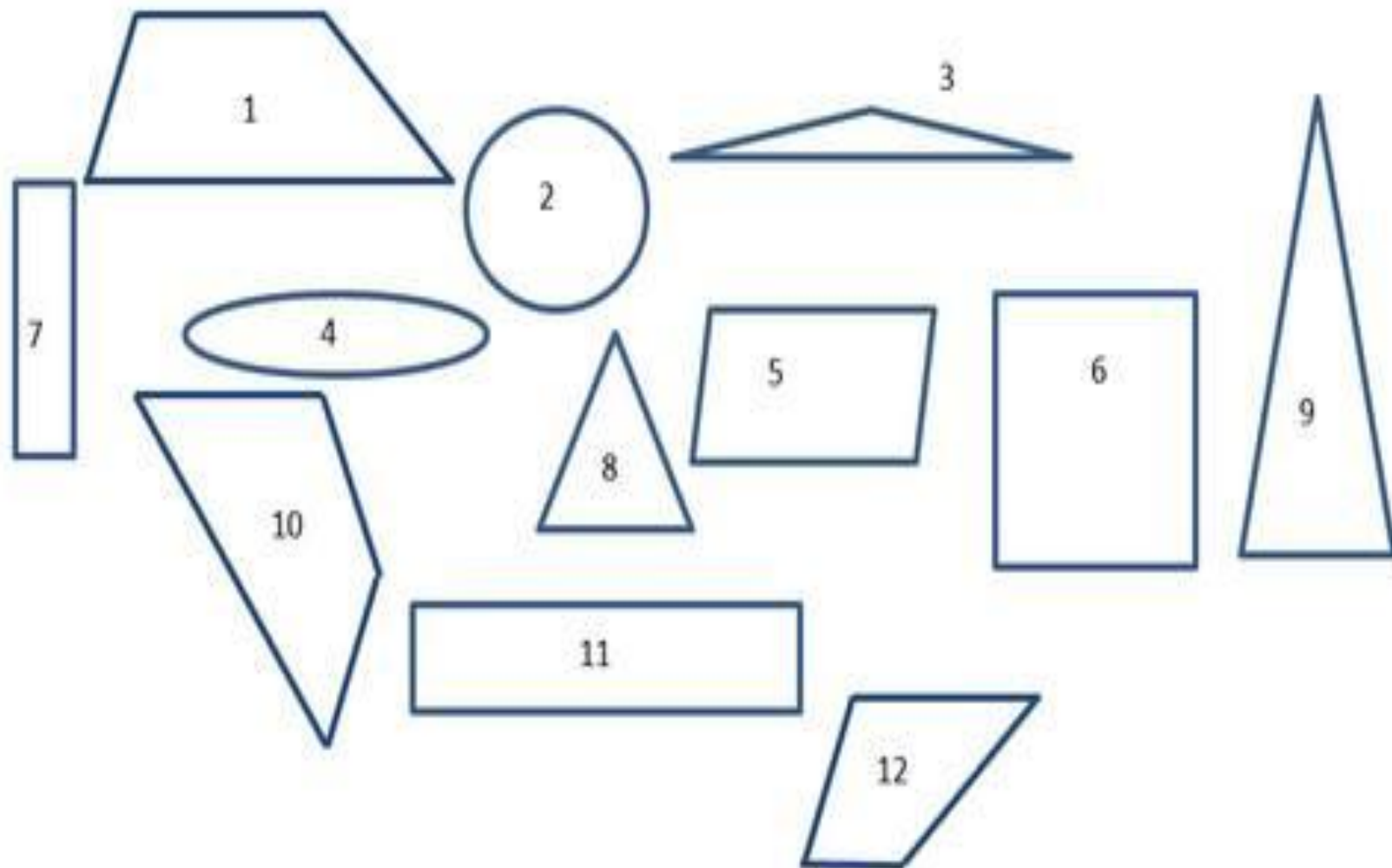
*сколько секунд в трех минутах.*

Запиши, какие цифры можно поставить вместо звездочек, чтобы неравенства были верными.

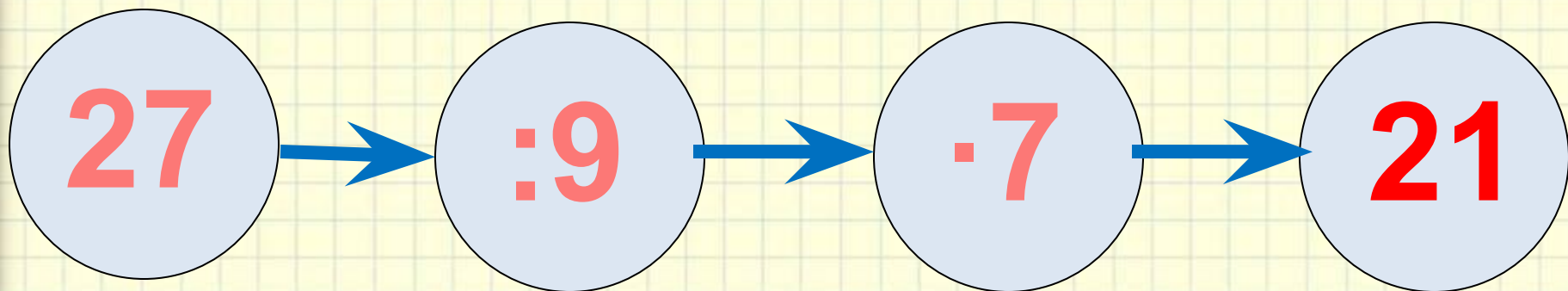
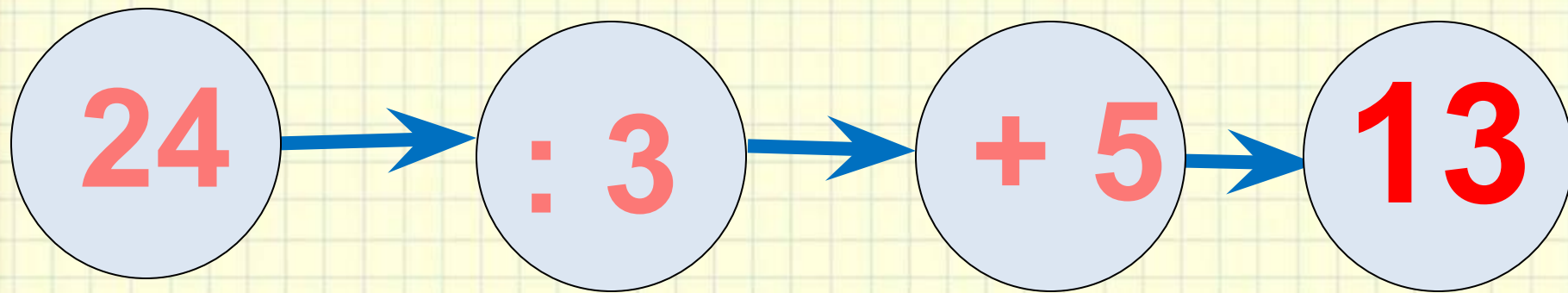
$$86 > 8^*$$

$$*7 < *5$$

**№ 5 Сколько треугольников на рисунке?  
Выпиши их.**



**№ 6** Реши цепочки примеров. (в тетрадь)





№ 7 Реши задачу ( чертёж).

У Винни- Пуха 4 бочонка мёда по 2 кг в каждом и бочонок с

5 кг мёда. Сколько


$$2 \cdot 4 + 5 = 13 \text{ (кг)}$$



13 кг

мёда

№ 8 Кролик посадил **27** кочанов капусты по **9** на каждой грядке. Сколько грядок с капустой у Кролика? (



**3**

**грядки**

$$27 : 9 = 3$$

**(гр )**

№ 9 Мудрая Сова прочитала **40** страниц книги за **4** дня.  
Сколько страниц в день читала Сова, если она читала  
одинаковое количество? ( решение)



**10**

**страниц**

$$40 : 4 = 10$$

**(стр.)**

№ 10 Винни-Пух сочинил 5 сопелок по 4 строчки и 7 песенок по 10 строчек. Сколько всего строчек сочинил Винни-Пух? ( чертёж)



90

строчек

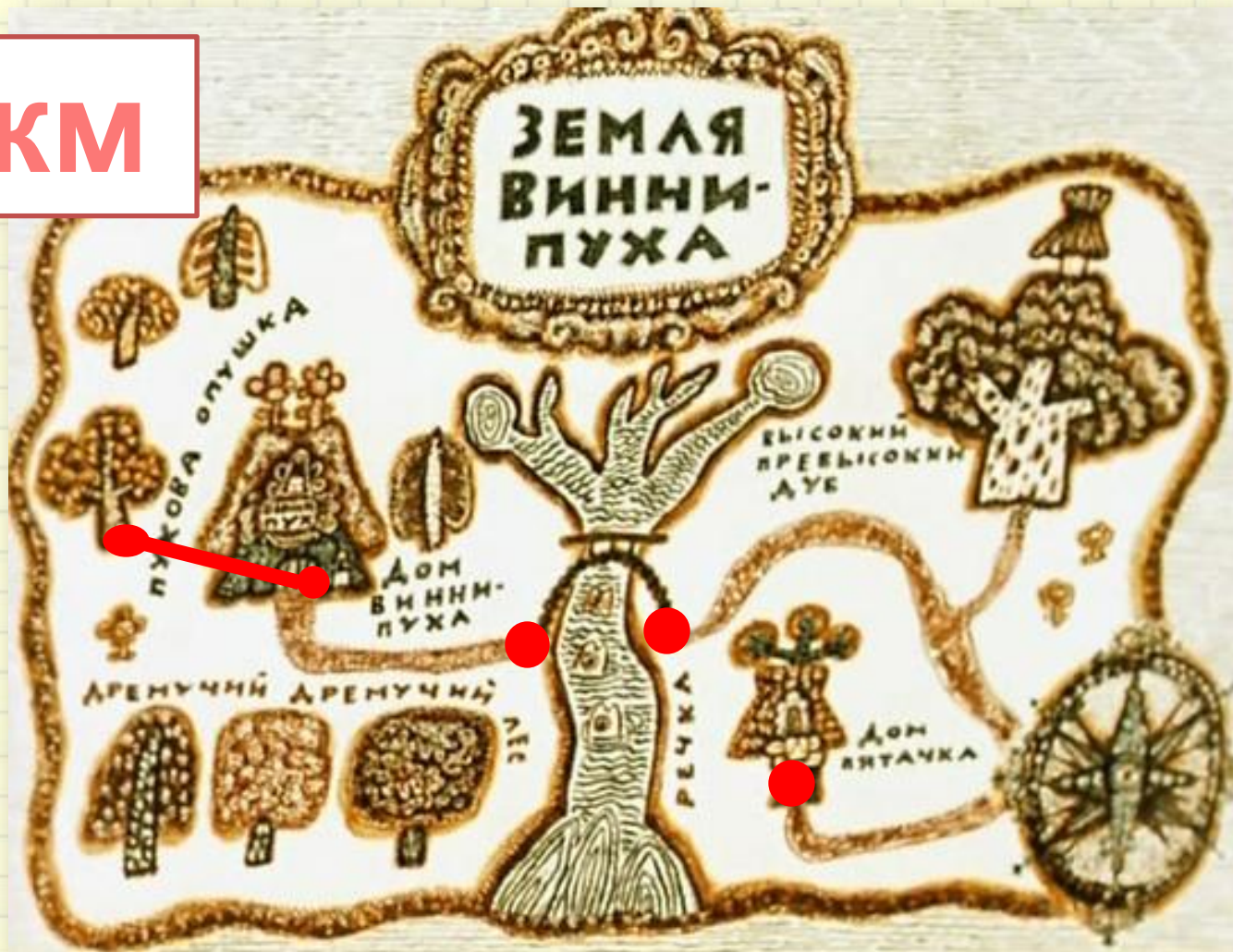
$$4 \cdot 5 + 10 \cdot 7 = 90$$

(стр )

# Задания на смекалку



6 км



От Пуховой опушки до домика Винни - Пуха **1** км.  
От домика Винни - Пуха до речки **2** км. От речки до домика

Пятачка **3** км. На каком расстоянии находятся

# Конец



Екади  
СКОДИ