

Математика

Сегодня на уроке:



**«Сложение и вычитание в
пределах 20.
Закрепление.»**

Назовите самое маленькое
число, самое большое.

2, 11, 14, 13, 17, 16.

Расположите их в порядке
увеличения.



2, 11, 13, 14, 16, 17

Сравните числа:

16 < 19

**Назовите другие пары чисел,
чтобы первое было меньше
второго.**

Какое число называют
при счете


перед числом 18??




15



Какие яблоки упали с этого дерева?



Поставьте в примере
пропущенное число:



Поставьте в примере
пропущенное число:

$$164 + 6 = 182$$

Угадайте знак и
пропущенное число:

$$16 * \boxed{8} = 174$$

Не решая примеров,
скажите, где ответ больше
или меньше? Почему?

$$18 + 9$$

$$18 - 9$$

А теперь задача шутка,
только на одну минутку!



- По траве бежал котенок,
А за ним бежал щенок.
Кто, ребята, сосчитает,
Сколько там бежало ног?

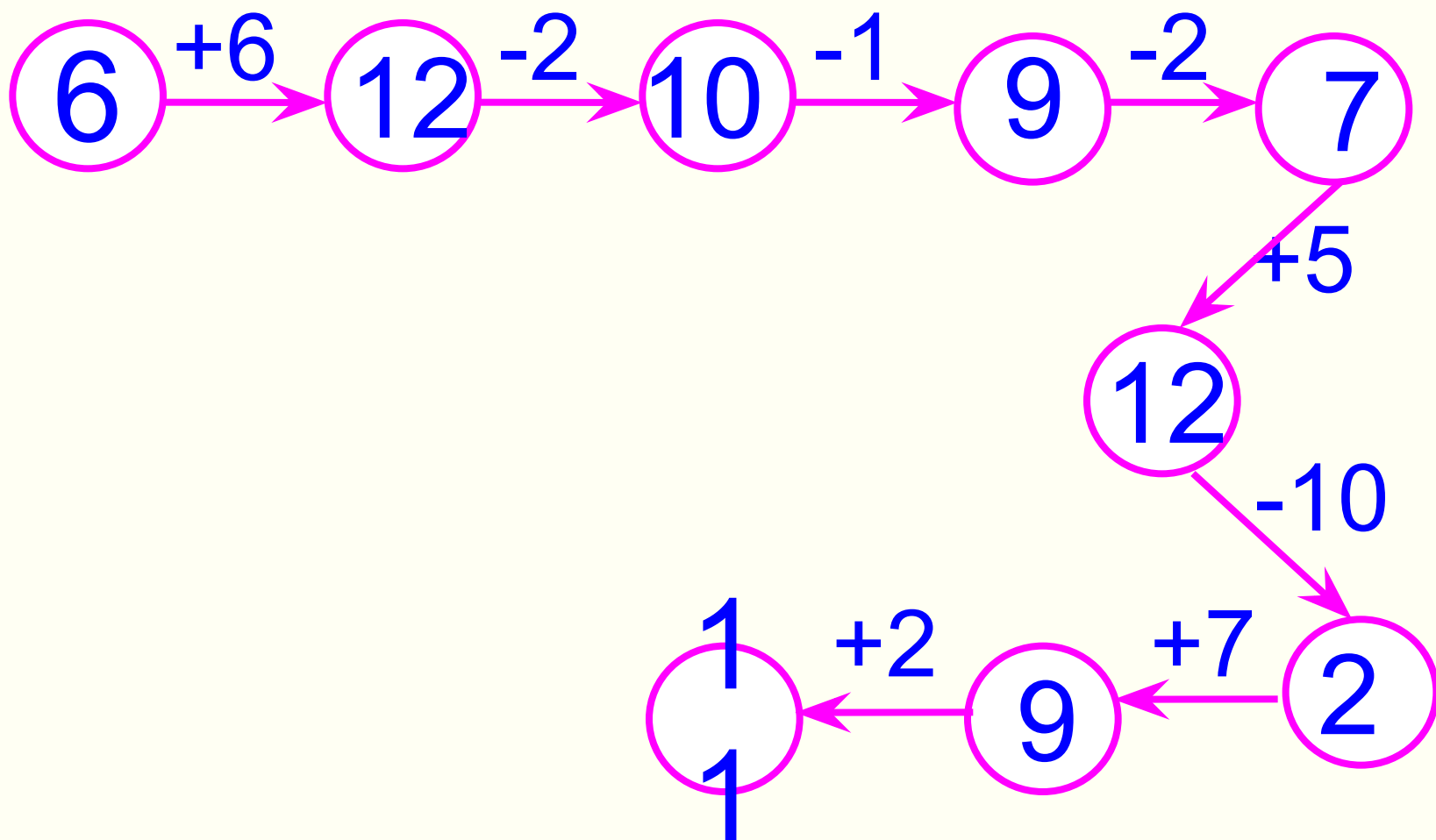
8



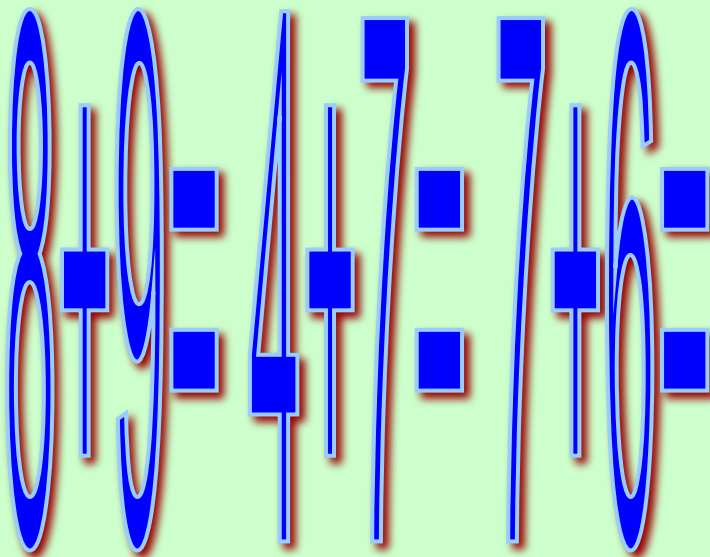
А теперь поиграем!

Игра «Цепочка»

Помогите слоненку. Он добрый и смешной, хочет с вами подружиться.



Помогаем «Незнайке» (исправь ошибку)



16

12

13

Игра

«Кто самый внимательный?»

Определить, сколько
здесь квадратов.

