

ВИКТОРИНА

Час

веселой

математики

1-4 класс

Разработала: Смирнова Ольга Николаевна

МБОУ «СОШ №14».

Загадки.

В школе есть такая птица:

**Если сядет на страницу,
То с поникшей головой
Возвращаюсь я домой.**

(2)

**Пятерка братьев неразлучна,
Им вместе никогда не скучно.
Они работают пером,
Пилюю, ложкой, топором.**

(пальцы)

**Хоть у нас четыре ножки,
Мы не мышки и не кошки.
Хоть мы все имеем
спинки,
Мы не овцы и не свинки.
Мы не кони, хоть на нас
Вы садились много раз.**

(стулья)

**Проживают в трудной
книжке
Хитроумные братишки.
Десять их, но братья эти
Сосчитают все на свете.**

(цифры)

Разгадайте ребусы.

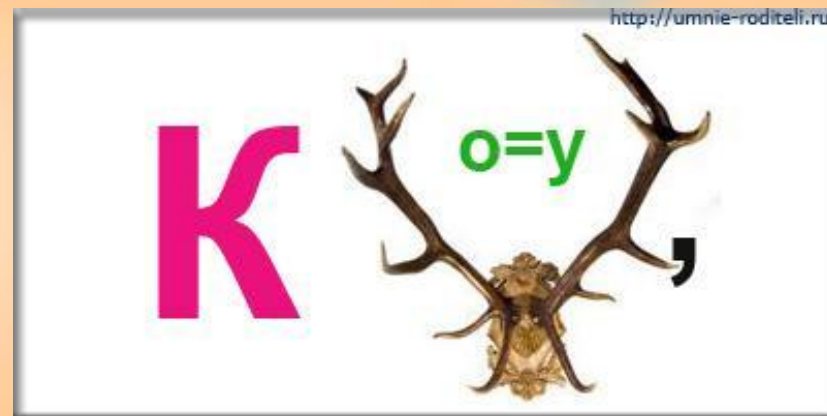

100 лб

По 2 л

40 а

7 я

Разгадайте ребусы.



Задачи-шутки, задачи на смекалку.

1. Что легче 1 кг ваты или 1 кг железа?
 2. Ты да я, да мы с тобой. Сколько нас всего?
 3. Назовите 5 дней не называя чисел и названий дней.
 4. Лестница состоит из 9 ступенек. На какую ступеньку надо встать, чтобы быть как раз на середине лестницы?
1. Две сардельки варятся шесть минут. Сколько времени будут вариться восемь таких сарделек?
 - Когда гусь стоит на двух ногах, то весит четыре килограмма. Сколько будет весить гусь, когда встанет на одну ногу?

Игра в рифмы

- Один!

- ...

- Два!

- ...

- Три!

- ...

- Четыре!

- ...

- Пять!

- ...

- Шесть!

-

- Семь!

- ...

- Восемь!

- ...

- Девять!

-

- Десять!

-

Трёх щенков назвали Бобик, Шарик и Тузик.
У Бобика длинные уши. У Шарика длинный
хвост. А Тузик сидит в середине. Кто есть
кто?

Шарик

Тузик

Бобик



Это Нюся, Пушок и Мурзик.
Нюся и Мурзик не полосатые.
Справа от Нюси сидит Пушок.
Кто есть кто?

Мурзик Нюся Пушок



Подумай – ка!

:

Пассажир такси ехал в село. По дороге он встретил 5 грузовых и 3 легковых машины. Сколько всего машин шло в село?



Подумай!

Жили-были три девочки: Таня, Лена и Даша.
Таня выше Лены, Лена выше Даши.
Кого из них как зовут?




Лена

Даша

Таня

Самый внимательный!

Посмотрите на этот рисунок и найдите две одинаковые фигуры. Чем они отличаются?



Ответ

:



Задача


**Стоит в поле дуб, а на дубе 8 веток.
На каждой ветке по 2 крупные
сладкие сливы. Сколько слив ты
можешь собрать?**

Задача

Сколько концов у трёх с половиной палок?

Сколько здесь
треугольников?

8





Молодцы!

Использованные ресурсы

В.Н.Рудницкая «Дидактические материалы. Математика» 1 класс. II часть
Вентана-Граф. 2006 г.

В.П. Труднев «Внеклассная работа по математике в начальной школе»
М., Просвещение , 1975 г.

**Материалы XII олимпиады младших школьников (24 февраля 2008г) при
малом Мехмате МГУ им. М.В.Ломоносова** *Младшая группа. – 1 класс.*
http://mathbaby.narod.ru/uslov2008_1kl.htm

Рисунки :

http://images.yandex.ru/yandsearch?p=66&ed=1&text=%D0%9F%D1%8F%D1%82%D0%B0%D1%87%D0%BE%D0%BA&spsite=vision.rambler.ru&img_url=www.f10ke.net%2Fuploads%2F3_2.thum.jpg&rpt=simage