
A silver laptop is shown from a front-facing perspective, open. The screen displays text in a large, blue, sans-serif font. The background of the screen is white with a black grid pattern. The laptop's keyboard and trackpad are visible below the screen. A blue vertical bar is present on the right side of the image.




**Збільшення і  
зменшення  
числа в кілька  
разів**

# Усний рахунок

1 2017/12/31 1



За малюнками та схемами склади і розв'яжи задачі.



5

·

2

+


4

За малюнками та схемами склади і розв'яжи задачі.

Було



Взяли



Залишилося



3

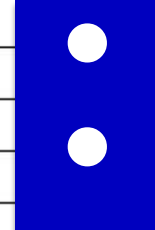
.

2

-

5

Відрізок 12 см поділили на 4 рівні частини. Яка довжина чверті відрізка?



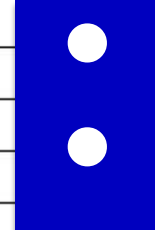
A 3 см B



**Збільшити у ... рази помножити**



# Зменшити у ... рази поділити



A ? см B




C D



9 см

**Сашко намалював 2 сині кружечки,  
а потім ще по 2 білих кружечки 5 разів.  
Скільки білих кружечків намалював Сашко?**



**Сашко намалював 2 сині кружечки,  
а білих - у 5 разів більше.  
Скільки білих кружечків намалював Сашко?**

**Білих кружечків 10, а синіх – у 5 разів менше.  
Скільки синіх кружечків?**

**Синові 3 роки, а батько в 9 разів старший.  
Скільки років батькові?**

**Книжка коштує 36 грн, альбом у 4 рази  
дешевший. Скільки коштує альбом?**



У зоопарку 6 білих лебедів, а чорних - у 3 рази менше. Скільки лебедів всього у зоопарку?

**\*Сума трьох доданків 100. Перший доданок 30, другий доданок – на 10 менше. Знайди третій доданок.**