

Тестовые задания для подготовки к ВПР
по географии 6 класс

Задание № 1

На выполнение работы по географии даётся 45 минут.

Работа включает в себя 10 заданий.

Ответы на задания запишите в поля ответов в тексте работы.

В случае записи неверного ответа зачеркните его и запишите рядом новый. При выполнении работы не разрешается пользоваться учебником, рабочими тетрадями, атласом и другим справочным материалом. При необходимости можно пользоваться черновиком. Записи в черновике проверяться и оцениваться не будут.

Для выполнения заданий с использованием карт Вам потребуются линейка и карандаш.

Советуем выполнять задания в том порядке, в котором они даны. В целях экономии времени пропускайте задание, которое не удаётся выполнить сразу, и переходите к следующему. Если после выполнения всей работы у Вас останется время, то Вы сможете вернуться к пропущенным заданиям.

Система оценивания выполнения всей работы

Максимальный балл за выполнение работы -37

Рекомендации по переводу первичных баллов в отметки по пятибалльной шкале.

Отметка по пятибалльной шкале	«2»	«3»	«4»	«5»
Первичный балл	0-9	10-21	22-30	31-37

№1 Изображения земной поверхности. Глобус и географическая карта. Развитие географических знаний о Земле

Проверяемые требования (умения)

- Умение определять понятия, устанавливать аналогии.
- Сформированность представлений о географии, ее роли в освоении планеты человеком.
- Сформированность представлений об основных этапах географического освоения Земли, открытиях великих путешественников.
- Сформированность представлений о географических объектах.
- Владение основами картографической грамотности и использования географической карты для решения разнообразных задач .

Задание №1 Развитие географических знаний о Земле

- 1.1 Представления о Земле в древности. Географические открытия и путешествия в эпоху Средневековья
- 1.2 Эпоха Великих географических открытий (открытие Нового света, морского пути в Индию, кругосветные путешествия)
- 1.3 Географические открытия XVII–XIX вв. (исследования и открытия на территории Евразии (в том числе на территории России), Австралии и Океании, Африки, Северной и Южной Америки, Антарктиды)
- 1.4 Географические открытия в XX веке (открытие Южного и Северного полюсов, исследования океанов, покорение высочайших вершин и глубочайших впадин)

1

1. Рассмотрите карту мира. На ней буквами А и Б отмечены два материка.

1.1 Запишите названия материков в соответствующем поле

16

Название материка

А

Название материка

Б

1.2 С каким из названных Вами материков связаны открытия путешественников и исследователей, изображённых на портретах? Укажите название материка.


Ответ _____

26

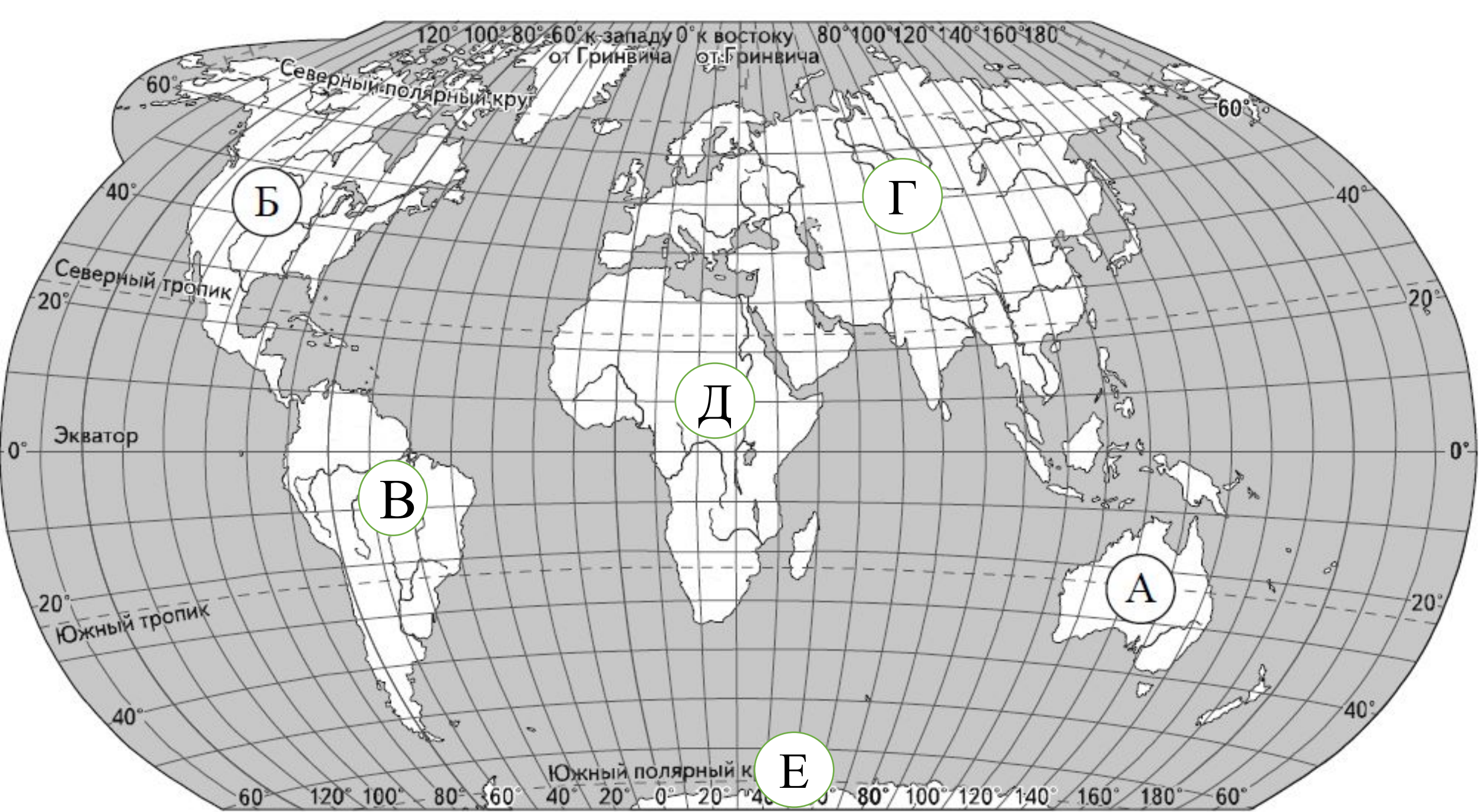
Подпишите на карте океаны, омывающие берега указанного выше материка.



А. Тасман



Н.Н. Миклухо-Маклай



Подпишите на карте океаны, омывающие берега указанного выше материка.

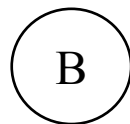
Содержание верного ответа и указания по оцениванию	Баллы
Правильный ответ должен содержать следующие <u>элементы</u> : 1) <u>название материка</u> : Австралия; 2) <u>подписи океанов на карте</u> : Индийский, Тихий	
Правильно указано название материка, подписаны два океана	2
Правильно указано название материка, подписан только один океан	1
Правильно указано только название материка, ни одно название океана не подписано / не подписано правильно. ИЛИ Название материка не указано / указано неправильно независимо от наличия/отсутствия подписи океанов. ИЛИ Ответ неправильный	0
<i>Максимальный балл</i>	2

1. Рассмотрите карту мира. На ней буквами В и Г отмечены два материка.


Вариант №1

1.1 Запишите названия материков в соответствующем поле

Название материка



Название материка




1.2 С каким из названных Вами материков связаны открытия путешественников и исследователей, изображённых на портретах? Укажите название материка.

Ответ _____

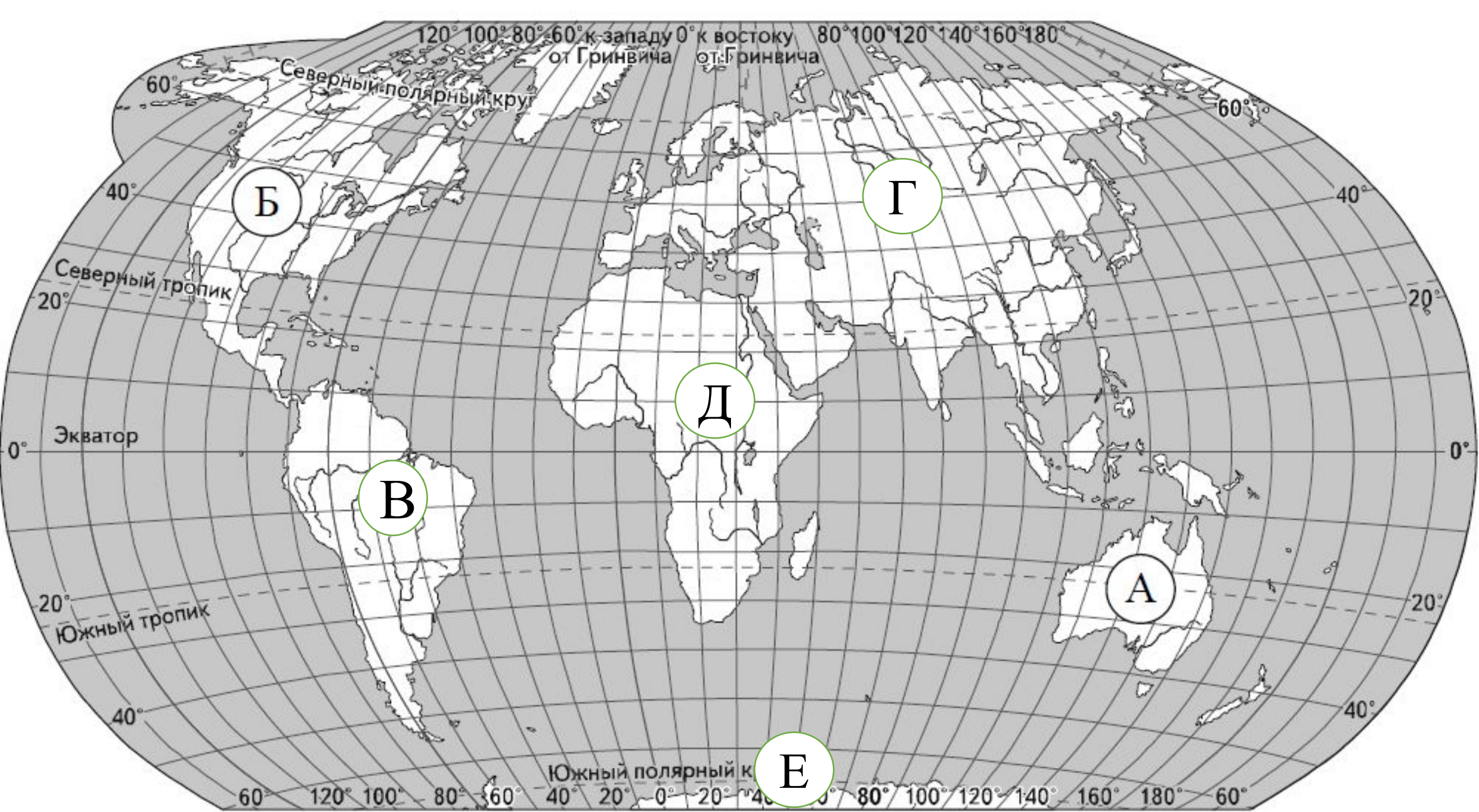
Подпишите на карте океаны, омывающие берега указанного выше материка.



Н. М. Пржевальский



П. П. Семёнов-Тян-Шанский

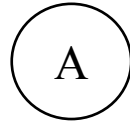


1. Рассмотрите карту мира. На ней буквами А и Б отмечены два материка.


Вариант №2

1.1 Запишите названия материков в соответствующем поле

Название материка



Название материка



1.2 С каким из названных Вами материков связаны открытия путешественников и исследователей, изображённых на портретах? Укажите название материка.


Ответ _____

Подпишите на карте океаны, омывающие берега указанного выше материка.



SIR HENRY HUDSON.

Генри Гудзон



VITUS BERING


Витус Беринг

1. Рассмотрите карту мира. На ней буквами Д и Е отмечены два материка.


Вариант №3

1.1 Запишите названия материков в соответствующем поле

Название материка



Название материка



1.2 С каким из названных Вами материков связаны открытия путешественников и исследователей, изображённых на портретах? Укажите название материка.

Ответ _____

Подпишите на карте океаны, омывающие берега указанного материка.



Фаддей Фаддеевич Беллинсгаузен




Михаил Петрович Лазарев

1. Рассмотрите карту мира. На ней буквами В и Г отмечены два материка.


Вариант №4

1.1 Запишите названия материков в соответствующем поле

Название материка




Название материка



1.2 С каким из названных Вами материков связаны открытия путешественников и исследователей, изображённых на портретах? Укажите название материка.

Ответ _____

Подпишите на карте океаны, омывающие берега указанного выше материка.



Америго Веспуччи




Александр Гумбольдт


1. Рассмотрите карту мира. На ней буквами Д и Е отмечены два материка. **Вариант №5**

1.1 Запишите названия материков в соответствующем поле

Название материка



Название материка




1.2 С каким из названных Вами материков связаны открытия путешественников и исследователей, изображённых на портретах? Укажите название материка.

Ответ _____

Подпишите на карте океаны, омывающие берега указанного выше материка.



Бартоломео Диаш




**Давид
Ливингстон**


1. Рассмотрите карту мира. На ней буквами В и Г отмечены два материка. **Вариант №6**

1.1 Запишите названия материков в соответствующем поле

Название материка




Название материка



1.2 С каким из названных Вами материков связаны открытия путешественников и исследователей, изображённых на портретах? Укажите название материка.

Ответ _____

Подпишите на карте океаны, омывающие берега указанного вами материка.



Семён Иванович Дежнёв



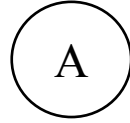
Ерофей Павлович Хабаров

1. Рассмотрите карту мира. На ней буквами А и Б отмечены два материка.

Вариант №7

1.1 Запишите названия материков в соответствующем поле

Название материка



Название материка



1.2 С каким из названных Вами материков связаны открытия путешественников и исследователей, изображённых на портретах? Укажите название материка.

Ответ _____

Подпишите на карте океаны, омывающие берега указанного выше материка.



**Уильям
Баффин**



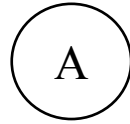
**Александр
Маккензи**

1. Рассмотрите карту мира. На ней буквами А и Б отмечены два материка.


Вариант №8

1.1 Запишите названия материков в соответствующем поле

Название материка



Название материка



1.2 С каким из названных Вами материков связаны открытия путешественников и исследователей, изображённых на портретах? Укажите название материка.

Ответ _____

Подпишите на карте океаны, омывающие берега указанного вами материка.



Виллем Янсзон




Джеймс Кук

1. Рассмотрите карту мира. На ней буквами Д и Е отмечены два материка.


Вариант № 9

1.1 Запишите названия материков в соответствующем поле

Название материка



Название материка



1.2 С каким из названных Вами материков связаны открытия путешественников и исследователей, изображённых на портретах? Укажите название материка.

Ответ _____

Подпишите на карте океаны, омывающие берега указанного выше материка.



Руаль Амундсен




Роберт Фолкон Скотт


1. Рассмотрите карту мира. На ней буквами Г и Е отмечены два океана. Вариант №10

1.1 Запишите названия материков в соответствующем поле

Название океана



Название океана



1.2 С каким из названных Вами океанов связано открытия путешественников и исследователей, изображённых на портретах? Укажите название материка.

Ответ _____

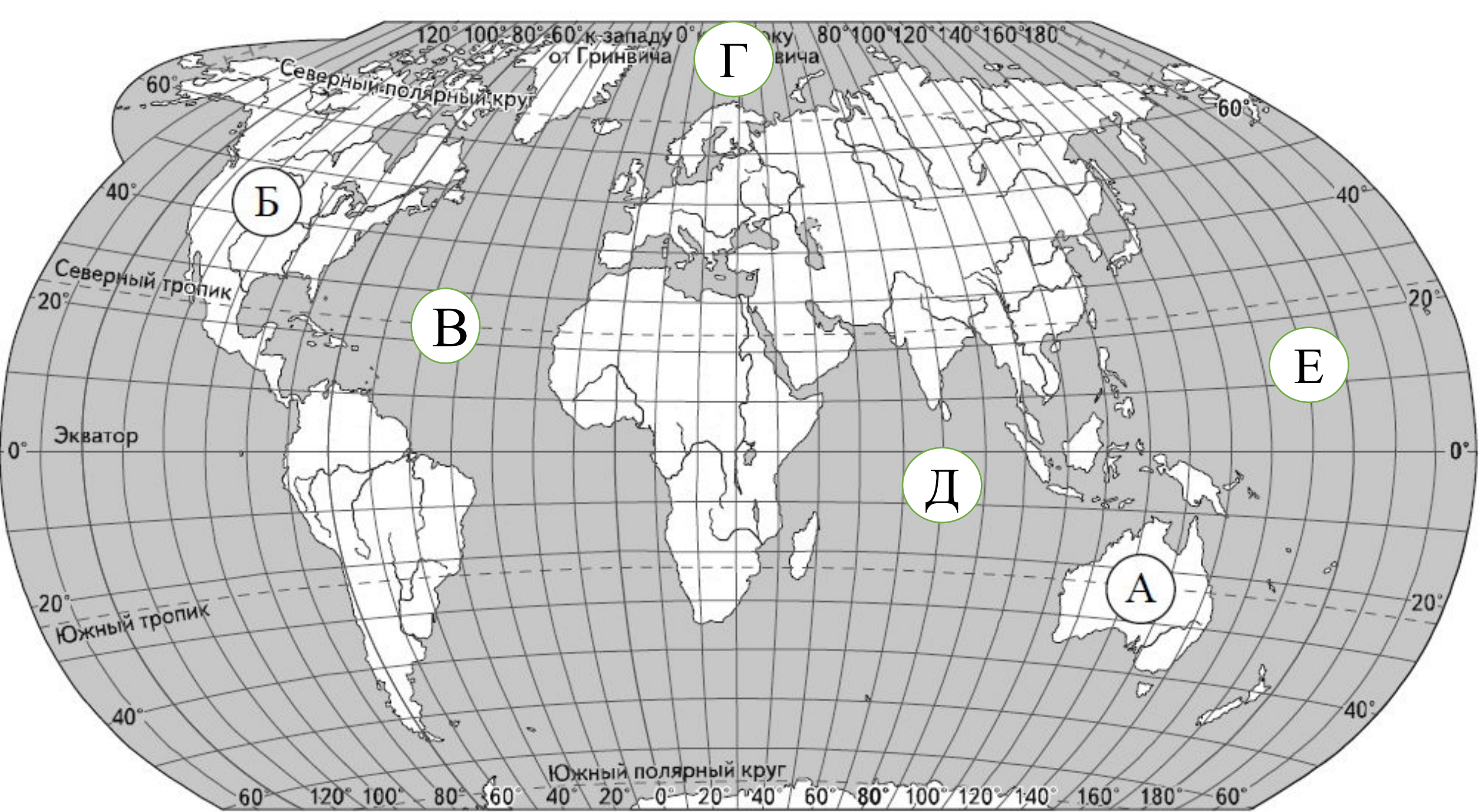
Подпишите на карте материка, которые омываются выше указанным океаном.



Роберт Пири



Руаль Амундсен






Фернан Магеллан –

Командовал экспедицией, совершившей первое известное кругосветное путешествие. Открыл пролив между Огненной Землёй и Южной Америкой, став первым европейцем, проследовавшим по морю из Атлантического океана в Тихий. Пересек самый большой океан и дал ему название Тихий.



Христофор Колумб - открыл и положил начало исследованию Южной и Центральной Америки, включая их континентальные части и близлежащие архипелаги- Большие Антильские (Куба, Гаити, Ямайка и Пуэрто-Рико), Малые Антильские (Доминика до Виргинских островов, а также Тринидад) и Багамские острова.

Северная Америка



Витус Беринг руководил Первой и Второй Камчатскими экспедициями. Прошёл по проливу между Чукоткой и Аляской (впоследствии Берингов пролив), достиг Северной Америки и открыл ряд островов Алеутской гряды.



Уильям Баффин – исследовал северо-западные территории Канады, Гудзонов пролив, открыл остров к западу от Гренландии.




Генри Гудзон исследования территорий современной Канады и Северо-Востока США



Александр Маккензи путешествие через Большое Невольничье озеро вдоль реки протяжённостью 1738 километров (впоследствии названной Маккензи) на север до самого Северного Ледовитого океана.

Южная Америка

Америго Веспуччи – доказал, что открытая земля Х. Колумбом не Азия, а «Новый Свет».



AMERIC VESPUTI.

Александр фон Гумбольдт – путешествовал по Ориноко и поднялся к её верховьям, чтобы проверить, соединяется ли бассейн этой реки с системой Амазонки. Обнаружив, что две речные системы связаны посредством протока Касикьяре.



Фрэнсис Дрейк - первый англичанин, совершил кругосветное плавание в 1577—1580 гг. Открыл пролив между Огненной Землёй и Антарктидой. Привёз и распространил картофель в Европе.

Австралия

Виллем Янсзон-
первый из
европейцев,
достиг берегов
Австралии.




Джеймс Кук

Первым достиг
восточного побережья
Австралии и открыл ряд
остров и архипелагов в
Тихом океане.

Первым среди известных европейских исследователей достиг берегов Новой Зеландии, Тонга и Фиджи. Доказал, что Австралия является отдельным материком.



А. Тасман



Н.Н. Миклухо-Маклай

Изучавший коренное население Юго-Восточной Азии, Австралии и Океании, в том числе папуасов северо-восточного берега

Антарктид а

**Фаддей Фаддеевич
Беллинсгаузен**



Михаил Петрович Лазарев



В 1820 году открыли Антарктиду в ходе кругосветной антарктической экспедиции, назвали обнаруженную землю «льдинный материк».

Карстен Эгеберг Борхгревинк – первым высадился на побережье Антарктиды и проведший там первую успешную зимовку



Руаль Амундсен - первый человек, достигший Южного полюса 14 декабря 1911 года




Роберт Фолкон Скотт - во время второй экспедиции Скотт вместе с ещё четырьмя участниками похода достиг Южного полюса 17 января 1912 года, но обнаружил, что их на несколько недель опередила норвежская экспедиция Руаля Амундсена. Роберт Скотт и его товарищи погибли на обратном пути от холода, голода и физического истощения.


Еврази Я



Марко Поло —
первым побывал
в Китае



Васко да Гама —
морской путь из
Европы вокруг Африки
в Индию



Афанасий Никитин—
путешествие в Индию

Ермак Тимофеевич-
казачий атаман,
исторический
завоеватель Сибири для
Русского государства.



**Иван Юрьевич
Москвитин**- в 1639 г. с
отрядом казаков первым
из европейцев достиг
Охотского моря, открыл
его побережье и
Сахалинский залив.

**Ерофей Павлович
Хабаров**- осуществил
поход в Даурию, освоил
земли по реке Амур и
составил их карты




**Владимир
Васильевич Атласов**
—исследователь
западного берега
полуострова
Камчатки.
«Камчатский Ермак»

Николай Михайлович Пржевальский - экспедиции в Центральную Азию, исследование реки Уссури, озера Ханка, Приамурской области, Уссурийского края, Тибетского нагорья, Тянь-Шаня, горной системы Кунь-Луня, хребтов Северного Тибета, бассейнов Лоб-Нора и Куку-Нора и истоков Жёлтой реки. Кроме того, им был открыт целый ряд новых форм животных: дикий верблюда и дикой лошади Пржевальского.



Пётр Петрович Семёнов-Тян-Шанский - Вице-председатель Императорского Русского географического общества. Инициатор ряда экспедиций в Центральную Азию. Посетил Тянь-Шань и составил впервые схему орографии и высотной зональности горной системы.






Семён Иванович Дежнёв -русский путешественник, землепроходец, мореход, исследователь Северной, Восточной Сибири и Северной Америки. Первый мореплавател, прошедший Берингов пролив, отделяющий Евразию от Северной Америки, Чукотку от Аляски, причём сделал это за 80 лет до Витуса Беринга, в 1648 г., по пути посетив острова Ратманова и Крузенштерна.

Витус Беринг

Алексей Ильич Чириков



Первая и Вторая Камчатские экспедиции. Прошли по проливу между Чукоткой и Аляской (впоследствии Берингов пролив), достигли Северной Америки и открыли ряд островов Алеутской гряды.

Первое русское кругосветное путешествие

Иван Фёдорович Крузенштерн



Юрий Фёдорович Лисянский




На кораблях «Надежда» и «Нева» 8(19) ноября 1770 – 12 (24) августа 1846 совершили первую русскую кругосветную экспедицию.

Африка



Бартоломео Диаш первым из европейцев обогнул Африку с юга, открыл мыс Доброй Надежды и вышел в Индийский океан.



Васко да Гама – морской путь из Европы вокруг Африки в Индию



Давид Ливингстон- исследователь Африки. Экспедиция на реке Замбези, открыл водопад Виктория. Поиски истоков Нила в Центральной Африки. Исследование притока Конго Луалабы.

Источники информации и иллюстраций:

- Демоверсия и описание ВПР по географии в 2018 г.

<https://4vpr.ru/6-klass/152-demoversiya-vpr-2018-po-geografii-dlya-6-klassa.htm>

- Учебник. География. Планета земля 5-6 классы. М. «Просвещение» 2015
- Атлас. География. Планета земля 5-6 классы. М. «Просвещение» 2010
- Учебник. География начальный курс. 5-6 классы. И.И. Баринова, А.А. Плешаков М. «Дрофа» 2015
- Атлас. География. 6 класс М. «Дик Дрофа» 2017
- <https://ru.wikipedia.org/wiki>