

Вариант №2 (05.11.2017)



Готовимся к ОГЭ вместе!
vk.com/oge100ballov



Готовимся к ОГЭ вместе!
vk.com/oge100ballov

ЗАДАНИЕ №1

Какое из перечисленных событий относится к XVII в.?

- 1) реформа патриарха Никона
- 2) учреждение патриаршества в России
- 3) создание Святейшего синода
- 4) созыв Стоглавого собора

Ответ:



Политическая зависимость русских земель в годы ордынского владычества заключалась в (во)

- 1) насаждении язычества в русских землях
- 2) раздаче ханом ярлыков на княжение русским князьям
- 3) включении русских княжеств в состав Золотой Орды
- 4) управлении русскими землями ордынскими наместниками

Ответ:



Готовимся к ОГЭ вместе!
vk.com/oge100ballov

ЗАДАНИЕ №3

Одной из причин политической раздробленности Руси является

- 1) нашествие на Русь монголов
- 2) постоянная половецкая опасность
- 3) рост княжеско-боярского землевладения
- 4) усиление власти великого киевского князя

Ответ:



Прочтите отрывок из сочинения историка и укажите название периода российской истории, о котором идёт речь.

«В недрах русского общества всегда дремлют разрушительные центробежные силы. Роковое стечение обстоятельств, помноженное на ошибки правителей, выпускает их на свободу. Так и случилось во времена Бориса Годунова. Сплетение случайностей и закономерностей увлекло страну в пропасть, имя которой ...»

1) Смута

2) опричнина

3) междуцарствие

4) раскол

Ответ:



Готовимся к ОГЭ вместе!
vk.com/oge100ballov

ЗАДАНИЕ №5

К первой четверти XIX в. относится деятельность

1) декабристов

3) славянофилов

2) народников

4) петрашевцев

Ответ:



Готовимся к ОГЭ вместе!
vk.com/oge100ballov

ЗАДАНИЕ №6

Какая из названных войн завершилась подписанием Ништадтского мира?

- 1) Отечественная
- 2) Крымская
- 3) Семилетняя
- 4) Северная

Ответ:



Готовимся к ОГЭ вместе!
vk.com/oge100ballov

ЗАДАНИЕ №7

Одним из итогов правления Александра II было(-а)

- 1) присоединение Финляндии к России
- 2) отмена крепостного права
- 3) начало железнодорожного строительства в России
- 4) создание общероссийского парламента — Государственной думы

Ответ:



Причина поражения выступления декабристов на Сенатской площади была связана с

- 1) отъездом руководителей тайных обществ за границу
- 2) отсутствием офицеров в рядах восставших
- 3) серьёзными разногласиями в рядах Южного общества
- 4) несовпадением реального хода событий с разработанным планом восстания

Ответ:



Укажите имя государственного деятеля, который первым венчался на царство в России.

- 1) Иван III Великий
- 2) Иван IV Грозный

- 3) Михаил Фёдорович Романов
- 4) Пётр I Великий

Ответ:



Как называли художников, деятельность которых в рамках единого направления началась с организации Артели в 1863 г. после ухода из Академии художеств и к 1870 г. расширилась, и было создано Товарищество.

1) академисты

3) авангардисты

2) «мирискусники»

4) передвижники

Ответ:



Готовимся к ОГЭ вместе!
vk.com/oge100ballov

ЗАДАНИЕ №11

В каком году был образован СССР?

1) 1917 г.

2) 1918 г.

3) 1922 г.

4) 1924 г.

Ответ:



Готовимся к ОГЭ вместе!
vk.com/oge100ballov

ЗАДАНИЕ №12

Какой орган принял Декрет о земле?

- 1) Учредительное собрание
- 2) I Всероссийский съезд Советов

- 3) II Всероссийский съезд Советов
- 4) II съезд РСДРП

Ответ:



Укажите одну из причин проведения индустриализации в СССР в конце 1920-х–1930-х гг.

- 1) стремление наладить торговые отношения с западными странами
- 2) стремление обеспечить экономическую независимость страны
- 3) необходимость ускоренного развития лёгкой промышленности
- 4) необходимость введения рыночных отношений в экономике

Ответ:



Какая операция Красной Армии началась вскоре после открытия Второго фронта в Европе английскими и американскими войсками?

- 1) Ленинградская стратегическая оборонительная операция
- 2) Смоленское сражение
- 3) операция по освобождению Белоруссии
- 4) Ржевско-Вяземская стратегическая наступательная операция

Ответ:



Прочтите отрывок из сочинения историка и укажите название битвы, о которой идёт речь.

«Быстрое продвижение советских войск, начавшееся 5–6 декабря, не позволяло немецким частям подготовить новую линию обороны надлежащим образом. Тыловые позиции в самое короткое время становились передовыми. Кроме того, соединения Красной Армии стали широко применять тактику обхода германских узлов сопротивления. Так, столкнувшись с крепкой, сравнительно хорошо подготовленной обороной частей вермахта на рубеже Истринского водохранилища, командование 16-й советской армии не стало продолжать лобовые атаки. Генерал К. Рокоссовский организовал две подвижные группы для наступления в обход водохранилища. К 15 декабря эти группы, совместно со 2-м гв. кавкорпусом генерала Л. Доватора, создали угрозу окружения немецких войск в этом районе и вынудили их отступить. Теперь германскому командованию приходилось срочно создавать оборону на ружском рубеже и поспешно отводить туда свои соединения».

- 1) Сталинградская битва
- 2) Московская битва

- 3) битва за Берлин
- 4) Курская битва

Ответ:



Что из перечисленного произошло в начале 1960-х гг.?

- 1) подписание Заключительного акта Совецания по безопасности и сотрудничеству в Европе
- 2) «бархатные революции»
- 3) роспуск Организации Варшавского договора
- 4) Карибский кризис

Ответ:



Что было предпринято в рамках рыночных реформ, проведённых в России в конце XX века?

- 1) введение госприёмки
- 2) либерализация цен

- 3) создание совнархозов
- 4) национализация собственности

Ответ:



Прочтите отрывок из выступления руководителя СССР и укажите фамилию этого руководителя.

«Теперь несколько слов насчёт планов работы Коммунистической партии на ближайшее будущее. Как известно, эти планы изложены в новом пятилетнем плане, который должен быть утверждён в ближайшее время. Основные задачи нового пятилетнего плана состоят в том, чтобы восстановить пострадавшие районы страны, восстановить довоенный уровень промышленности и сельского хозяйства и затем превзойти этот уровень в более или менее значительных размерах. Не говоря уже о том, что в ближайшее время будет отменена карточная система, особое внимание будет обращено на расширение производства предметов широкого потребления, на поднятие жизненного уровня трудящихся путём последовательного снижения цен на все товары и на широкое строительство всякого рода научно-исследовательских институтов, могущих дать возможность науке развернуть свои силы».

- 1) И.В. Сталин 2) М.С. Горбачёв 3) Л.И. Брежнев 4) Н.С. Хрущёв

Ответ:



Готовимся к ОГЭ вместе!
vk.com/oge100ballov

ЗАДАНИЕ №19

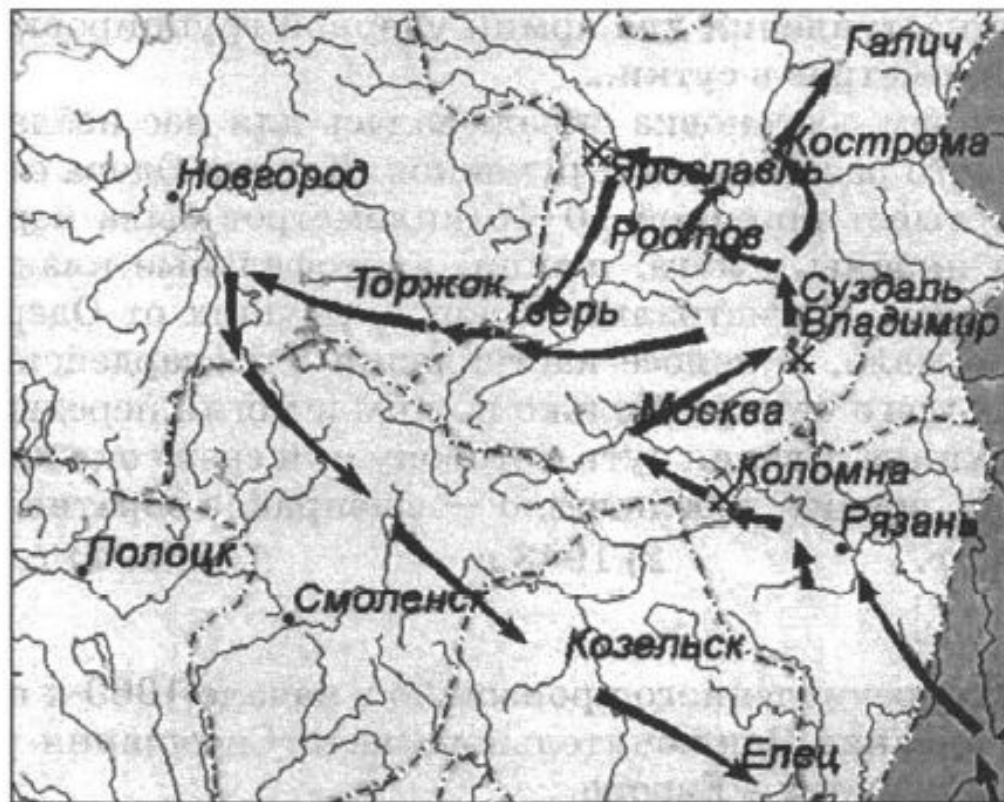
Во главе Красной Армии в должности народного комиссара по военным и морским делам в годы Гражданской войны стоял

- 1) В.И. Ленин 2) И.В. Сталин 3) Л.Д. Троцкий 4) К.Е. Ворошилов

Ответ:



Рассмотрите схему и выполните задание.



Укажите имя монгольского полководца, к деятельности которого относится военный поход по маршруту, представленному на схеме.

1) Мамай

2) Тохтамыш

3) Батый

4) Чингисхан

Ответ:



Готовимся к ОГЭ вместе!
vk.com/oge100ballov

ЗАДАНИЕ №21


Большой вклад в развитие российского театрального искусства внесли

- 1) С.М. Эйзенштейн и Г.В. Александров
- 2) А.А. Галич и Б.Ш. Окуджава
- 3) О.Н. Ефремов и Г.А. Товстоногов
- 4) Р.И. Рождественский и Е.А. Евтушенко

Ответ:



Рассмотрите изображение и ответьте на вопрос.



Какое событие изображено на картине?

- 1) Синопское сражение
- 2) сражение при Калиакрии
- 3) Цусимское сражение
- 4) Гренгамское сражение

Ответ:



Расположите в хронологической последовательности исторические события. Запишите цифры, которыми обозначены исторические события, в правильной последовательности в таблицу.

- 1) введение суда присяжных
- 2) создание Государственного совета Российской империи
- 3) учреждение министерств
- 4) губернская реформа Екатерины II

Ответ:

--	--	--	--



Установите соответствие между фамилиями русских полководцев и событиями военной истории, связанными с их именами: к каждому элементу первого столбца подберите соответствующий элемент из второго.

**ФАМИЛИИ
РУССКИХ ПОЛКОВОДЦЕВ**

- А) А.В. Суворов
- Б) М.И. Кутузов
- В) М.Д. Скобелев

СОБЫТИЯ ВОЕННОЙ ИСТОРИИ

- 1) Северная война
- 2) Итальянский и Швейцарский походы
- 3) русско-турецкая война 1877–1878 гг.
- 4) Бородинское сражение

Запишите в таблицу выбранные цифры под соответствующими буквами.

Ответ:

А	Б	В



Какие республики вошли в состав СССР в 1922 г.? Найдите в приведённом ниже списке две республики и запишите в таблицу цифры, под которыми они указаны.

- 1) Белорусская ССР
- 2) Эстонская ССР
- 3) Молдавская ССР

- 4) Казахская ССР
- 5) Украинская ССР

Ответ:

--	--



Используя данные статистической таблицы, завершите представленные ниже суждения, соотнеся их начала и варианты завершения.

*Поступление кадров командного состава Красной Армии
в действующие части в 1935–1939 гг.*

Год	1935 г.	1937 г.	1939 г.
Выпущено из военно-учебных заведений	5338	11320	39772
Восстановлено в армии	9642	2675	10204
Всего поступило в армию командного состава	14 980	13 995	49 976

НАЧАЛА СУЖДЕНИЙ

- А) Наибольшее число выпущенных из военно-учебных заведений было отмечено в
- Б) Наименьшее число восстановленных в армии было отмечено в
- В) Общее число выпущенных из военно-учебных заведений

ВАРИАНТЫ

ЗАВЕРШЕНИЯ СУЖДЕНИЙ

- 1) постоянно уменьшалось
- 2) 1935 г.
- 3) 1937 г.
- 4) постоянно увеличивалось
- 5) 1939 г.

Запишите в таблицу выбранные цифры под соответствующими буквами.

Ответ:

А	Б	В



Готовимся к ОГЭ вместе!
vk.com/oge100ballov

ЗАДАНИЕ №27

Запишите термин, о котором идёт речь.

«Политический курс Генерального секретаря ЦК КПСС М.С. Горбачёва, провозглашённый в 1985 г. на апрельском пленуме ЦК КПСС, направленный на увеличение темпов социального и экономического развития СССР».

Ответ: _____ .



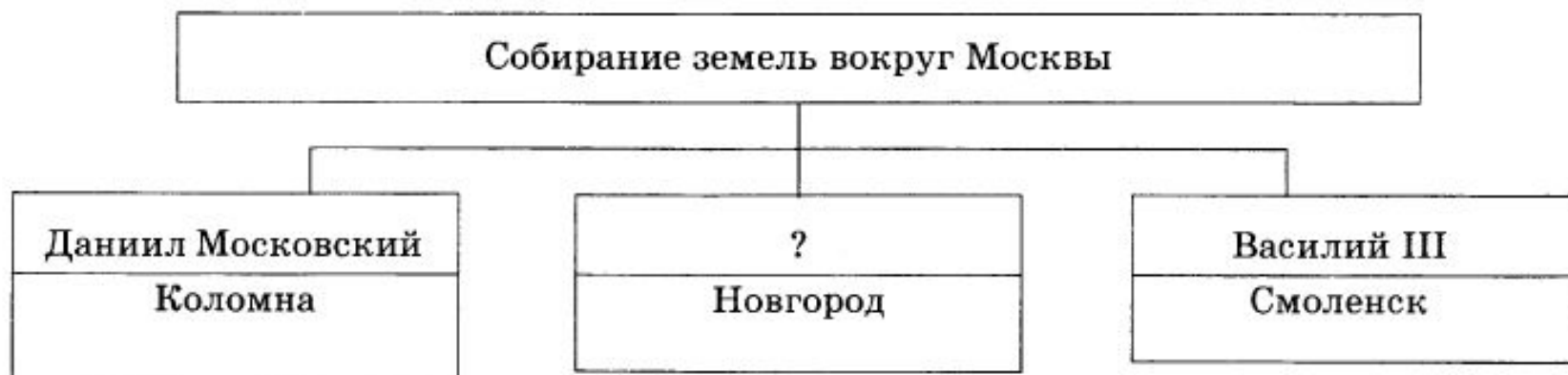
Сравните характерные черты социально-экономического развития России в годы правления Александра I и Николая I. Выберите и запишите в первую колонку порядковые номера черт сходства, а во вторую — порядковые номера черт различия.

- 1) промышленный переворот
- 2) личная зависимость крестьян от помещиков
- 3) привилегированное положение дворянства
- 4) начало железнодорожного строительства

Черты сходства		Черты различия	



Запишите имя, пропущенное в схеме.



Ответ: _____.



Ниже приведён перечень исторических событий и процессов. Все они, за исключением одного, характерны для периода 1930-х гг.

1) раскулачивание; 2) коллективизация; 3) индустриализация; 4) колхозы; 5) продразвёрстка.

Найдите и запишите порядковый номер термина, «выпадающего» из данного ряда.

Ответ: _____ .