


**Муниципальное общеобразовательное учреждение
«Зырянская средняя общеобразовательная школа»**

Проценты



**Учитель математики
Степина Татьяна Сергеевна**



Выберите верное равенство

1

$$1\% = 0,01$$

2

$$1\% = 0,001$$

3

$$1\% = 0,1$$

4

$$1\% = 1$$

ПРАВИЛЬНО!

ПОДУМАЙ!




1

2

3

4



Запишите десятичной дробью 8%

1

0,008

ПРАВИЛЬНО!



2

0,08

ПОДУМАЙ!

3

8

4


0,8

1

2

3

4



Запишите с помощью процентов 0,7

1

7%

2

0,07%

3

0,7%

4

70%

ПРАВИЛЬНО!

ПОДУМАЙ!




1

2

3

4



Запишите с помощью процентов 0,03

1

30%

2

0,3%

3

3%

4

0,03%

ПРАВИЛЬНО!

ПОДУМАЙ!




1

2

3

4



Чему равен 1% от 300 ?

1

300

3

3 000

ПРАВИЛЬНО!

ПОДУМАЙ!

2

3

4

30



1

2

3

4



Чему равны 2% от 80 ?



1
160

ПРАВИЛЬНО!

2
16

ПОДУМАЙ!

3
1,6

4
0,16

1

2

3

4



Чему равны 25% от 180 ?

1

45



2

4,5

ПРАВИЛЬНО!

3

60

ПОДУМАЙ!

4


0,45

1

2

3

4



Из пшеницы получается 60 % муки. Сколько тонн муки получится из 3,5 тонн пшеницы?

1

4,2

2

21

3

0,21

4

2,1

ПРАВИЛЬНО!

ПОДУМАЙ!




1

2

3

4



После уценки компьютера его новая цена составила 0,9 старой. Сколько процентов от старой цены составляет новая?

ПРАВИЛЬНО!

1
0,9

ПОДУМАЙ!

2
9

3
10

4
90




1

2

3

4



Чему равно число, 1% которого равен 12?

1

120

2

1200

ПРАВИЛЬНО!

ПОДУМАЙ!

3

12000

4


1,2

1

2

3

4



Чему равно число, 8% которого равны 56?

1

70

2

700

4

7000

3

7

ПРАВИЛЬНО!

ПОДУМАЙ!




1

2

3

4




Туристы за один день прошли 18 км, что составило 24%. Чему равен весь путь?

1

4

ПРАВИЛЬНО!

ПОДУМАЙ!



2


3

1

2

3

4



*Сколько процентов составляет
число 48 от 200?*



24

2

2,4

1

2

ПРАВИЛЬНО!



ПОДУМАЙ!

3


3

0,24

4

240

4



Каков процент жирности молока, если в одном килограмме жира содержится 49 г ?

1

0,049

2

0,49

3

4,9

4

49

ПРАВИЛЬНО!

ПОДУМАЙ!




1

2

3

4



*В 5 классе 15 мальчиков и 10 девочек.
Сколько процентов составляют мальчики
от общего количества ребят?*

1

60

ПРАВИЛЬНО!

3

20

ПОДУМАЙ!

2

40

4

30

1

2

3

4



*Чайник после распродажи стал стоить 960 р.
Сколько стоил чайник до распродажи,
если его уценили на 20%?*

1

1000 р.

3

1200 р.

ПРАВИЛЬНО!

ПОДУМАЙ!

2

1080 р.

4

120 р.




1

2

3

4



*Куртка стоит 4000р. Во время весенних скидок цену куртки снизили на 20%. Осенью цену на куртку повысили на 20%.
Какой стала цена после этих двух изменений?*

1

4100

ПРАВИЛЬНО!

4

3940

2

4000

3

3840

ПОДУМАЙ...



1

2

3

4

