

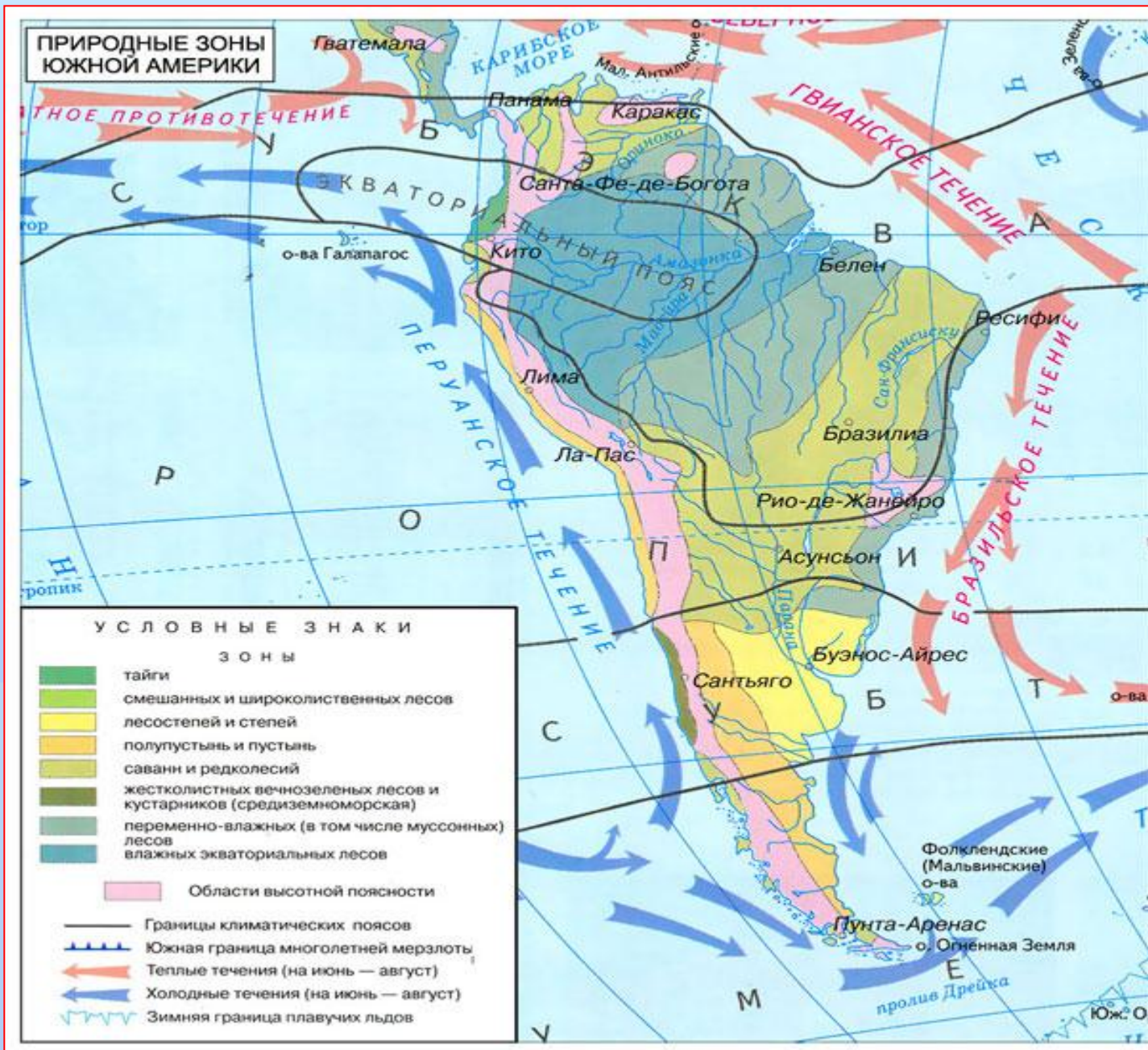
# ПРИРОДНЫЕ ЗОНЫ ЮЖНОЙ АМЕРИКИ

# **ЦЕЛИ И ЗАДАЧИ УРОКА:**

**- закрепить и углубить знания об основном законе географии – широтной зональности на примере природных зон Южной Америки**


**- способствовать формированию представления о природных зонах и высотной поясности Южной Америки**

# КАРТА ПРИРОДНЫХ ЗОН ЮЖНОЙ АМЕРИКИ



- **СЕЛЬВА –ВЛАЖНЫЕ ЭКВАТОРИАЛЬНЫЕ ЛЕСА**
- **САВАННА –травянистый покров с отдельными деревьями и кустарниками**
- **ПАМПА – СУБТРОПИЧЕСКИЕ СТЕПИ**
- **ПАТАГОНИЯ – ЗОНА ПОЛУПУСТЫНЬ**
- **ВЫСОТНАЯ ПОЯСНОСТЬ В АНДАХ**

# СЕЛЪВА



# СЕЙБА





# ВИКТОРИЯ – РЕГИЯ

- выдерживает вес  
до 50 кг

## ПАЛЬМЫ



# ДЕРЕВО ХЛЕБНОЕ



# КАКАО



# ОРХИДЕИ





# ПАУКООБРАЗНАЯ ОБЕЗЬЯНА



**ЛЕНИВЕЦ**

# ХИЩНИКИ



**ЯГУАР**

**ПУМА**





**АНАКОНДА**  
- самая большая на  
Земле змея

**ПИРАНЬЯ**  
- хищная рыба





# ВОДОСВИНКА КАПИБАРА

- самый крупный грызун  
на Земле

# ТАПИР



# КОЛИБРИ

– крохотная птица,  
питается нектаром цветов



# ТУКАН

# САВАННЫ



# КЕБРАЧО





**МУРАВЬЕД**

**СВИНЬИ  
ПЕКАРИ**





# СТРАУС НАНДУ



# ПАМПА - СУБТРОПИЧЕСКИЕ СТЕПИ



# МОЛОЧАЙ



# КОВЫЛЬ





# КАРЛИКОВЫЙ ЖИРАФ - ОКАПИ

ЛАМА



# ПАМПАССКАЯ КОШКА



# ПАМПАССКИЙ ОЛЕНЬ



# ПАТАГОНИЯ - ЗОНА ПОЛУПУСТЫНЬ





**ВИСКАША -  
ГРЫЗУН**



**БРОНЕНОСЕЦ**



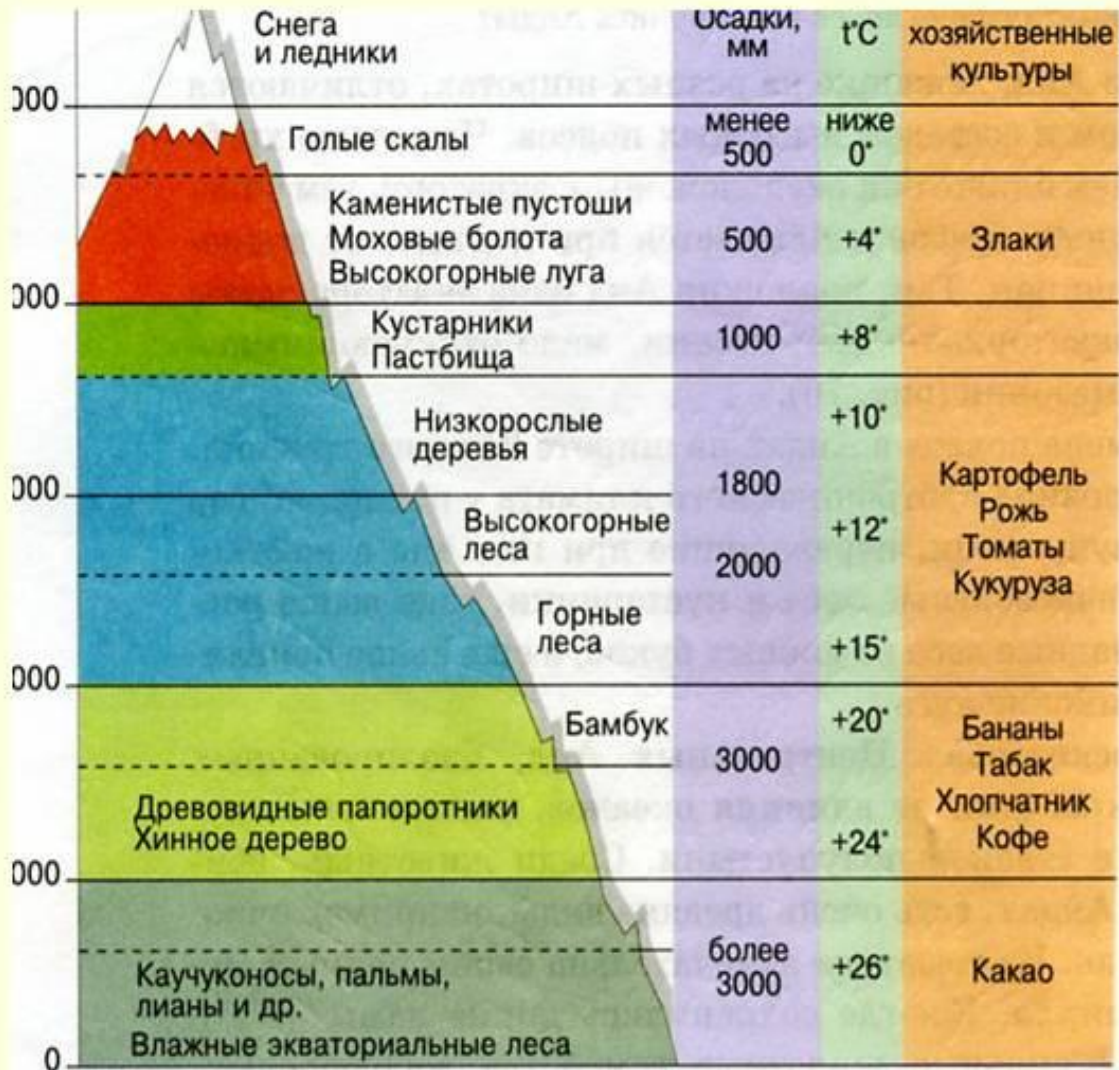
**ЛАМЫ**

# АНДЫ





# Высотная поясность



# САМАЯ ВЫСОКАЯ ТОЧКА – ГОРА АКОНКАГУА



# КОНДОР

Размах крыльев  
до 3 метров



# ОЧКОВЫЙ МЕДВЕДЬ



Вьючное животное  
в Андах

**ЛАМА**

**ШИНШИЛЛА**



# Тестовое задание.

1. Как называется природная зона Южной Америки, где произрастают каучуконосы, орхидеи, сейба, дынное, шоколадное деревья?  
А) Анды    Б) Пустыня    В) Сельва    Г) Патагония    Д) Пампа
2. Самая крупная летающая птица Южной Америки - это:  
А) страус    Б) нектарник    В) кондор    Г) колибри    Д) степной орел
3. К какой природной зоне относится следующее описание: «Для этой области характерен климат с большими различиями в осадках по территории. Здесь растут различные злаки, много грызунов, а по берегам рек водится нутрия»?  
А. Саванны и редколесья.  
Б. Субтропические степи.  
В. Экваториальные леса.  
Г. Пустыни.
4. Какой эндемик Южной Америки, обитающий в Андах, был приручен местным населением и используется как вьючное животное?  
А. Олень.  
Б. Лошадь Пржевальского.  
В. Лама.  
Г. Осел.

# Тестовое задание.

5. Какой ландшафт Южной Америки описан ниже: «.. деревья растут в несколько ярусов. Это различные виды пальм. Более низкие ярусы образуют гевея, какао, красное дерево. Их стволы обвивают лианы. Много папоротников...»?

- А. Саванны и редколесья.
- Б. Влажные вечнозеленые леса
- В. Переменно- влажные леса
- Г. Области высотной поясности.

6. Большую часть Амазонской низменности занимает:

- А. Сельва.
- Б. Льянос.
- В. Кампос.

# **ПОСТАВЬ СЕБЕ ОЦЕНКУ**

- **Оценка руководителя группы**
- **Самооценка**
- **Твоё настроение на уроке**



# ДОМАШНЕЕ ЗАДАНИЕ

- § 44 прочитать
- Ответить на вопросы в конце параграфа
- Заполнить таблицу «Природные зоны Южной Америки»