


A  
MATEMATIK

# Разминка



- 1. Сосед шестерки справа.**
- 2. Сколько человек было в русской народной сказке «Репка»?**
- 3. Как называется время суток между утром и вечером?**
- 4. Каким по счёту является день недели суббота?**
- 5. На улице играли пятеро детей: Петя, Ира, Олег, Миша, Оля. Сколько среди них было девочек?**





$3+3$

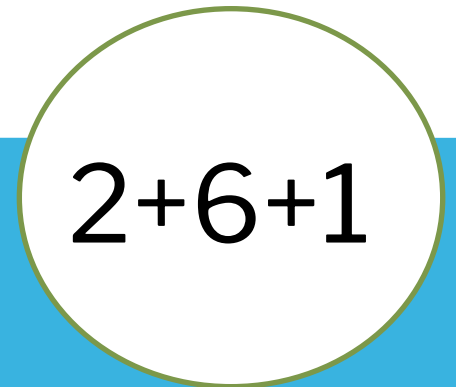
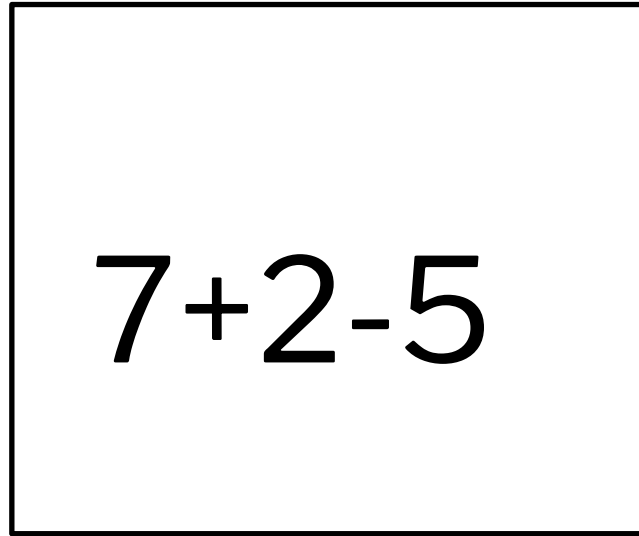
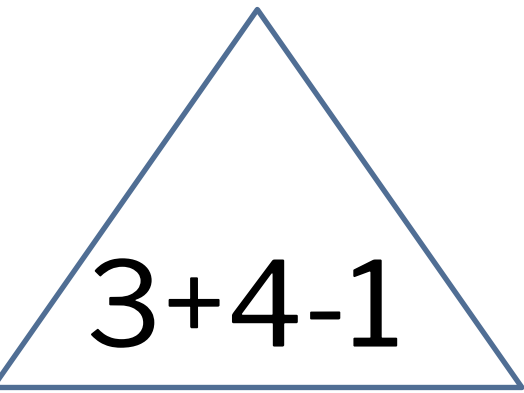
$2+4$

$4+2$

$1+5$

$5+1$



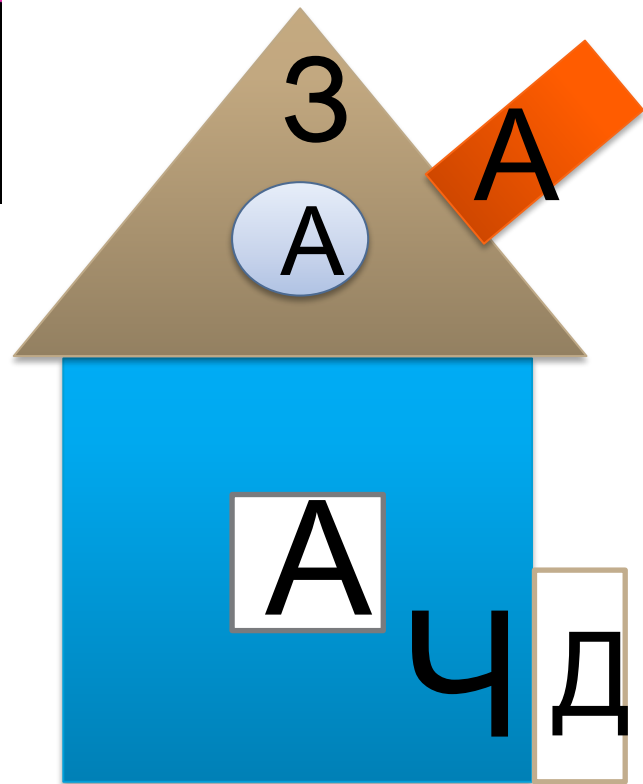





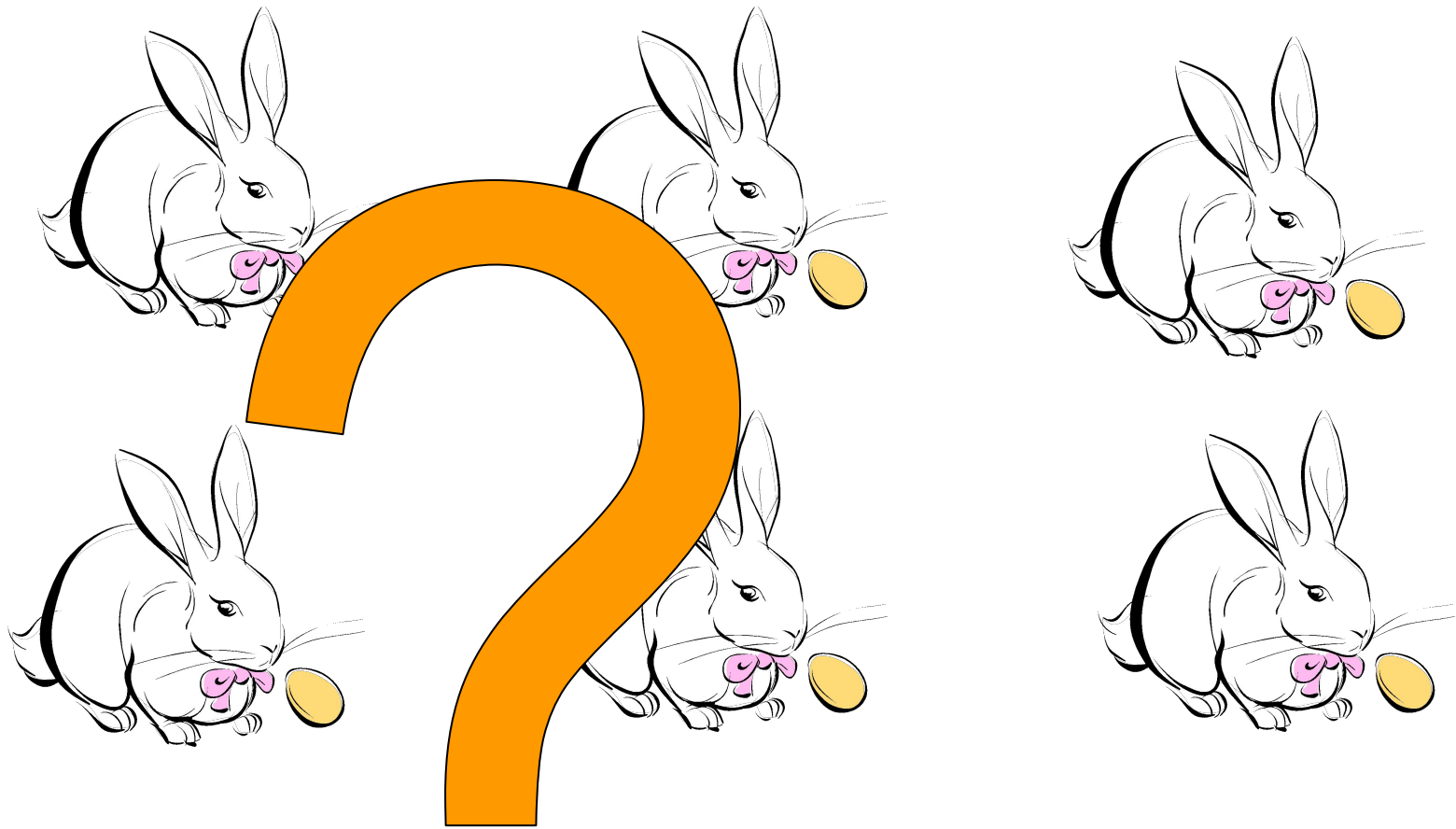
$$9-2-4$$

$$8-3+2$$

$$3+5-2$$







Условие



Решение

ОТВЕТ

БЫЛО 4 ЛЯГУШКИ . ОДНА ПРЫГНУЛА В ВОДУ. СКОЛЬКО ЛЯГУШЕК ПРЫГНУЛО В ВОДУ?



❖ На берёзе было 5 рыбок, 2 улетели. Сколько рыб осталось?

❖ У ежа 3 яблока и 4 гриба.

❖ Сколько будет лап у несколько медведей?

## ПЛАН РАЗБОРА:

- **Условие задачи**
- **Вопрос задачи**
- **Схема задачи: что обозначает весь отрезок? Его части?**
- **Обоснуйте выбор действия: что ищете, целое или часть?**
- **Выражение к задаче**
- **Решение**
- **Ответ задачи**

Спасибо, ребята!

