



5



7



3



Таблица сложения чисел с переходом через десяток



5



7



3



**Сегодня мы закрепим
таблицу сложения чисел
с переходом через
десяток**



5



7



3



**Начинается урок.
Наши ушки – на
макушке,
Глазки широко
открыты.
Слушаем, запоминаем,
Ни минуты не теряем.**






5



7



3



Устный счёт

Вставь пропущенные числа

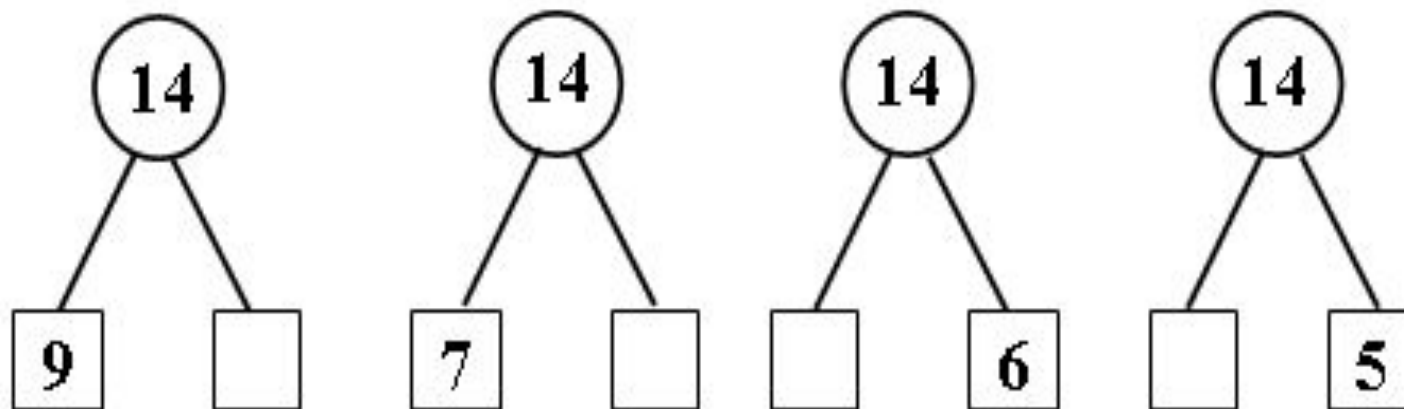
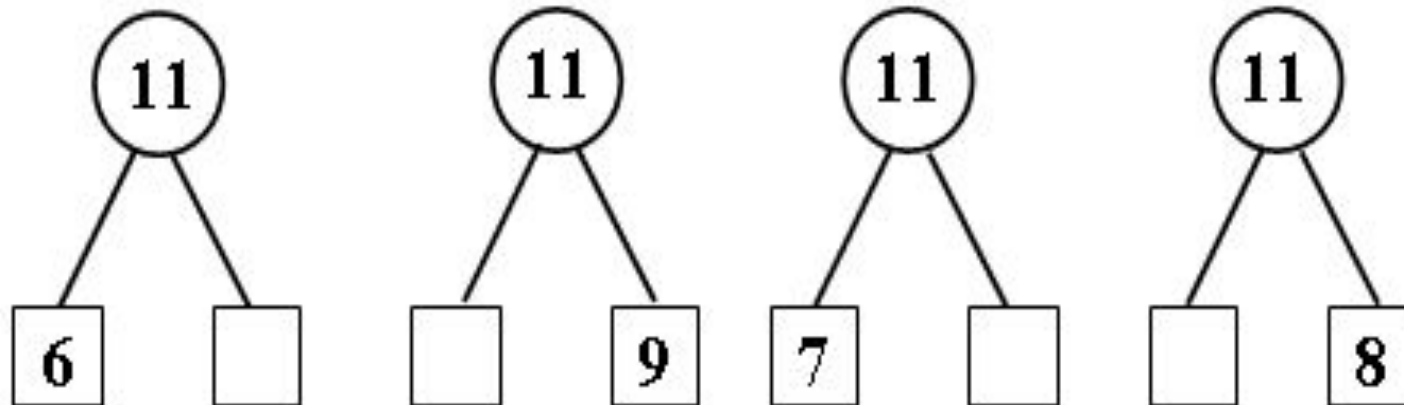


© www.art.ru

Посчитай от 1 до 20 и обратно, через



Заселите домики (устно)



5



7



3



Найди ошибку

$7+7=14$

$5+8=12$

$16-7=8$

$12-8=4$

$9+2=11$

$7+9=15$

$6+7=13$

$4+9=14$

$17-9=8$

$15-6=9$

Открой тетрадь. Запиши 24 апреля, Дистанционная работа, запиши числовой ряд (ряд числа 7, ниже ряд числа 17) А затем запиши слово Диктант и выполни задания (письменно) Помоги Маше найти ошибку, запиши только неверные примеры и реши их верно

$8+3=11$

$8+6=15$











Открой с.72 учебника найди таблицу.
Ты её уже выучил. Рассмотрй её.

(устно)

Проследи, как изменяется первое слагаемое; сумма (рассмотри столбцы, строки).

 $9+2=11$

$8+3=11$

$7+4=11$

$6+5=11$

$9+3=12$

$8+4=12$

$7+5=12$

$6+6=12$

$9+4=13$

$8+5=13$

$7+6=13$

$9+5=14$

$8+6=14$

$7+7=14$

$9+6=15$

$8+7=15$

$9+7=16$

$8+8=16$

$9+8=17$

$9+9=18$

Найди номер 1 на с. 72.

Выполни задание

- 1) Найди по таблице все примеры с ответом 11, 12, 13, 14, 15, 16, 17, 18.
- 2) По каждому примеру на сложение составь и реши два примера на вычитание.

Выполняй так:

Примеры 1

$$9 + 2 = 11$$

$$8 + 4 = 12$$

$$11 - 9 = 2$$

$$12 - 8 = 4$$

$$11 - 2 = 9$$

$$12 - 4 = 8$$



5



7



3



Помоги Маше сварить варенье

(устно)

11

13

15

 $9+4$

 $7+6$

 $5+8$


 $9+2$

 $8+7$

 $4+7$

 $6+5$

 $6+9$

 $7+8$

ОТДОХНИ

Мы ногами топ-топ,
Мы руками хлоп-хлоп,
А потом прыг-скок
А потом вприсядку,
И опять вприсядку,
Побежим мы по дорожке
Раз, два, три!
И похлопаем в ладошки
Раз, два, три!
И покрутим головами
Раз, два, три!
Все танцуйте вместе с нами
Раз, два, три!



Задание:

Вспомни составные части задачи

Составные части задачи



ответ

решение

вопрос

условие

Задание:

Вспомни схемы и типы задач, слова подсказки.

КРАТКАЯ ЗАПИСЬ УСЛОВИЯ ЗАДАЧ

ЗАДАЧИ НА СЛОЖЕНИЕ И ВЫЧИТАНИЕ

НА НАХОЖДЕНИЕ
СУММЫ

$$\begin{array}{l} \text{I} - \square \\ \text{II} - \square \end{array} \left. \vphantom{\begin{array}{l} \text{I} \\ \text{II} \end{array}} \right\} ? (+)$$

НА НАХОЖДЕНИЕ
НЕИЗВЕСТНОГО СЛАГАЕМОГО

$$\begin{array}{l} \text{I} - \square \\ \text{II} - ? \end{array} \left. \vphantom{\begin{array}{l} \text{I} \\ \text{II} \end{array}} \right\} \square (-)$$

НА НАХОЖДЕНИЕ
ОСТАТКА

Было - \square
Убрали - \square (-)
Осталось - ?

НА НАХОЖДЕНИЕ
СУММЫ

Было - \square
Добавили - \square (+)
Стало - ?

НА УВЕЛИЧЕНИЕ ЧИСЛА
НА НЕСКОЛЬКО ЕДИНИЦ

$$\begin{array}{l} \text{I} - \square \\ \text{II} - ?, \text{ на } \square > \end{array} \left. \vphantom{\begin{array}{l} \text{I} \\ \text{II} \end{array}} \right\} (+)$$

НА УМЕНЬШЕНИЕ ЧИСЛА
НА НЕСКОЛЬКО ЕДИНИЦ


$$\begin{array}{l} \text{I} - \square \\ \text{II} - ?, \text{ на } \square < \end{array} \left. \vphantom{\begin{array}{l} \text{I} \\ \text{II} \end{array}} \right\} (-)$$

НА РАЗНОСТНОЕ
СРАВНЕНИЕ

$$\begin{array}{l} \text{I} - \square \\ \text{II} - \square \end{array} \left. \vphantom{\begin{array}{l} \text{I} \\ \text{II} \end{array}} \right\} \text{ на } ? >, < (-)$$



ЗАДАЧИ В
КОСВЕННОЙ ФОРМЕ


$$\begin{array}{l} \text{I} - \square, \text{ что на } \square < \\ \text{II} - ? \end{array} \left. \vphantom{\begin{array}{l} \text{I} \\ \text{II} \end{array}} \right\} (+)$$



Запиши в тетради слово **Задача 2** и реши ее (с.72)


Задача 2

- 
2. Весной Даша и Наташа были одинакового роста. За лето Даша выросла на 5 см, а Наташа — на 2 см. На сколько сантиметров одна девочка стала выше другой? Назови её имя.
- 



Прочти. О ком задача? На сколько см выросла Даша? Запиши. А Наташа? Запиши. Прочти внимательно вопрос. С какого слова он начинается? Какого типа эта задача? Можем ли мы сразу ответить на этот вопрос? Каким действием.

Запиши условие и реши. Проверь.



Даша – 5 см

Наташа – 2 см



на ? выше

Решение:

$$5 - 2 = 3 \text{ (см)} - \text{ выше Даша.}$$

Ответ: **на 3 см** Даша выше Насти.



Запиши в тетради слово **Задача 3** и реши ее (с.72)
Первому варианту номер **1**, второму - вторую

Задача 3

- 3.** Подбери недостающие числа. Реши задачи.
- 1) Высота стула \square дм, а стола \square дм. На сколько дециметров стол выше стула?
 - 2) Миша купил ручку за \square р. и блокнот за \square р. Сколько рублей ему должны дать сдачи с 10 р.?

Прочти. О чём твоя задача? Найди главные слова. Запиши их.
Прочти вопрос? Какого типа твоя задача? Можешь ли ты сразу решить её? Как?

Запиши условие и реши. Проверь. (числа можете брать свои)

1 вариант

Стул – 4 дм.
Стол – 7 дм.

на ? выше

$7 - 4 = 3$ (дм) – стол выше

Ответ: на 3 дм стол выше стула

2 вариант

Ручка – 3 р
Блокнот – 7 р

? р

$7 + 3 = 10$ (р) – всего

Ответ: Мише не должны дать сдачи.



5



7



3



Вспомни таблицу и сыгрой в снежки, реши примеры, ставя между примерами знаки (**устно**)

Поиграем в снежки!

8+3	7+5	7+6	8+4
7+4	8+6	9+3	7+4
9+4	8+5	6+5	9+5
6+6	8+3	4+8	9+3
7+7	6+7	5+6	7+4
4+7	5+9	6+7	9+4

Молодец. **Начертите** квадрат **ОМВА** со сторонами 2 см. Подпиши его.



5



7



3



Молодцы!

Рекомендованное задание:

1. Знать таблицу сложения (с.72)
2. Письменно выполнить номер 4
3. Начерти прямоугольник 1 дм и 3 см. Подпиши СВКА

*Если хочешь выполни ниже
дополнительные задания **устно***

**Поиграй с Капитошкой и закрепи
таблицу**



Игра-тренажёр по
теме
«Таблица
сложения»

ИГРАЕМ С КАПТИТОШКОЙ

УМК «Школа
России»
1 класс





Таблица сложения



$9+2=1$

1

$9+3=1$

2

$9+4=1$

3

$9+5=1$

4

$8+3=1$

1

$8+4=1$

2

$8+5=1$

3

$8+6=1$

4

$7+4=1$

$9+6=1$

$6+5=1$

$8+7=1$

$7+5=1$

$9+7=1$

$6+6=1$

$8+8=1$

$7+6=1$

$9+8=1$

7

$7+7=1$

$9+9=1$

8

6





Давай проверим,
хорошо ли ты
знаешь таблицу
сложения?



Повторить

Начать
игру



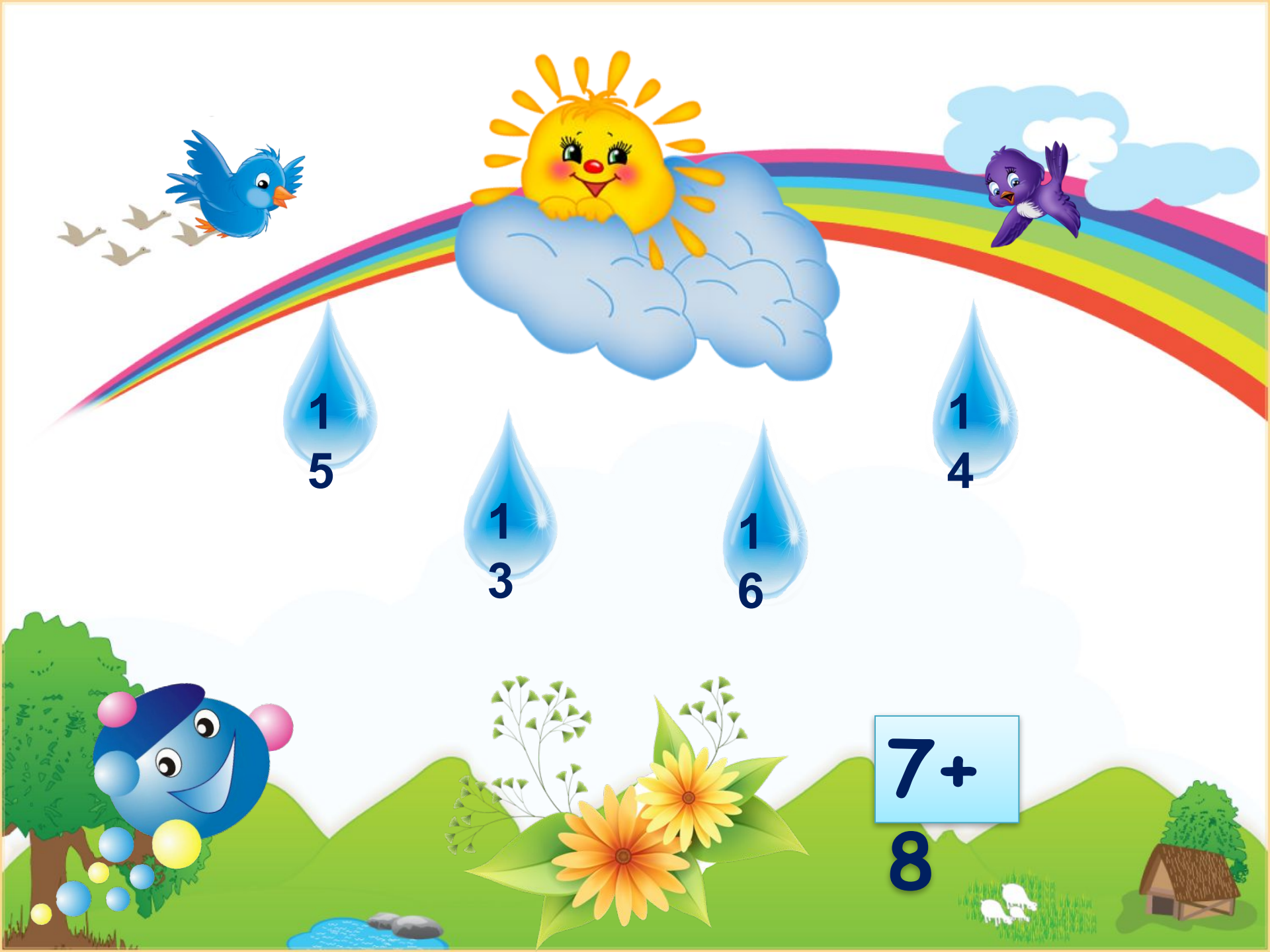
Помоги Солнышку
полить цветочки.
Выбери капельку
с правильным
ответом.



8+

5





1
5

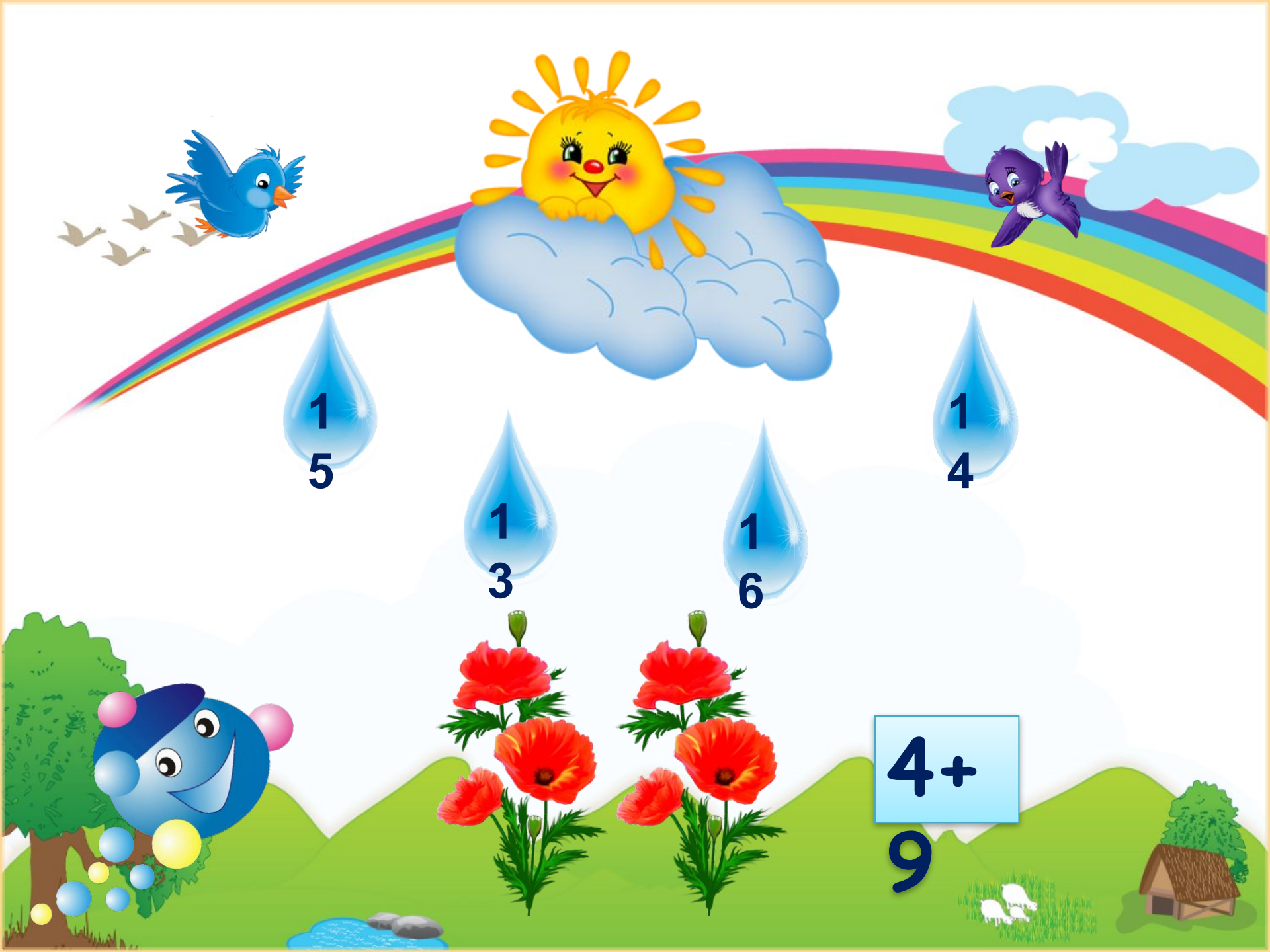
1
3

1
6

1
4

7+

8



1
5

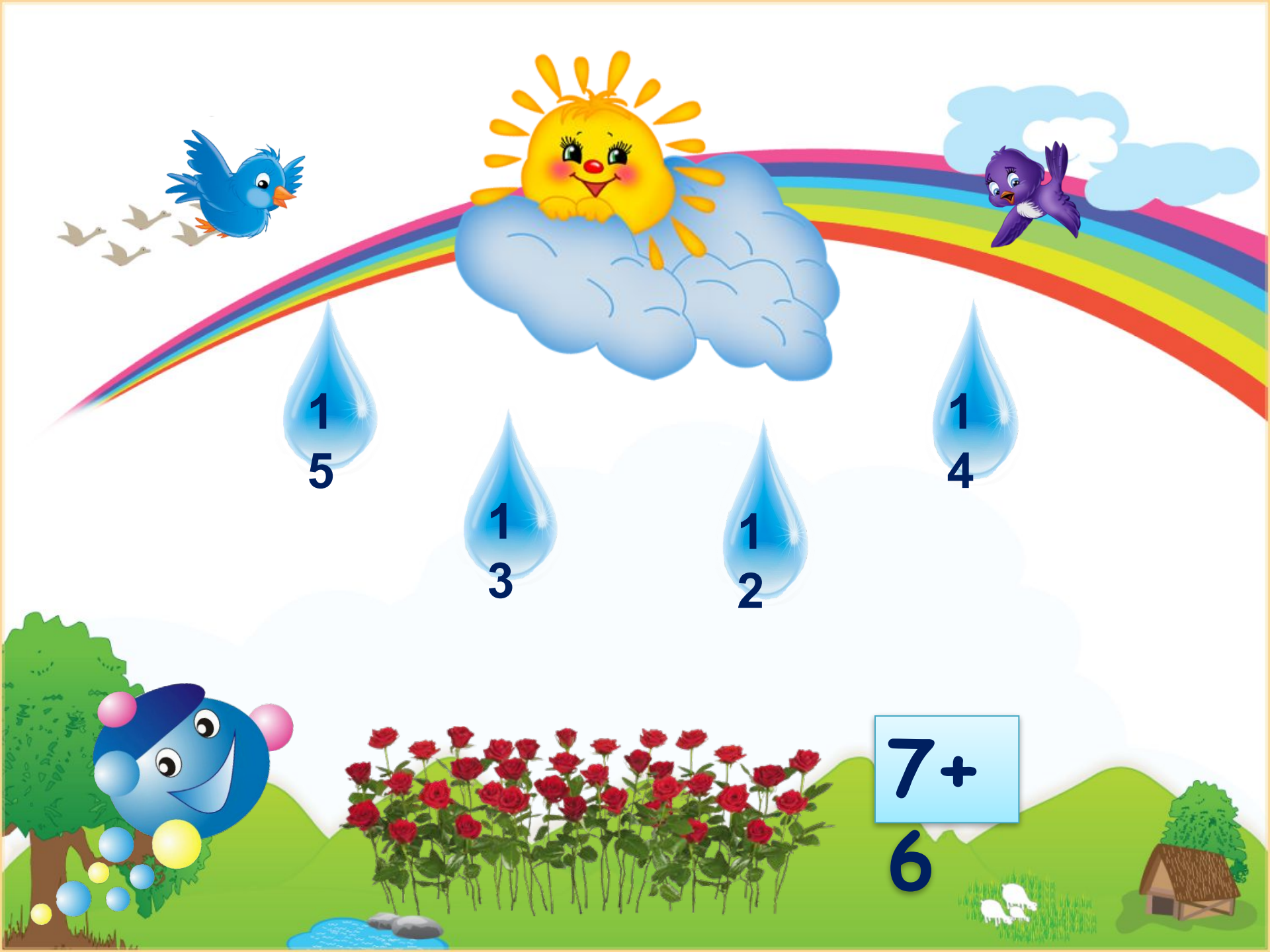
1
3

1
6

1
4

4+

9



1
5

1
3

1
2

1
4

7+

6



1
5

1
6

1
7

1
8

8+

9



1
2

1
0

1
3

1
1

7+

4



1
6

1
4

1
5

1
7

8+

8



1
2

1
1

1
0

1
3

6+

5



1
8

1
7

1
9

1
6

9+

9



1
6

1
5

1
4

1
3

7+
7



1
1

1
4

1
2

1
3

7+

5



1
1

1
4

1
2

1
3

9+

5



1
1

1
4

1
2

1
3

3+

8



1
6

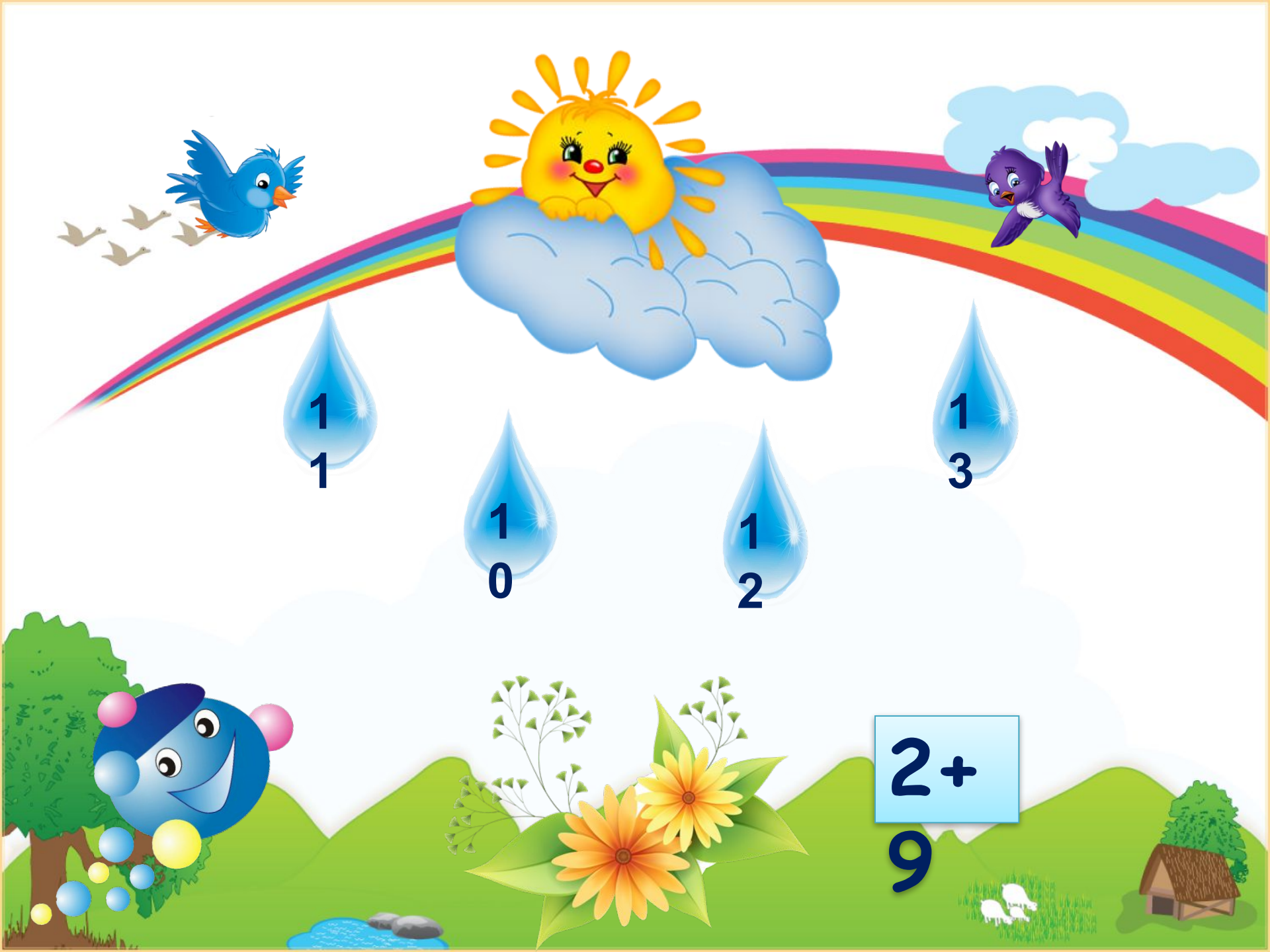
1
4

1
7

1
5

9+

6



1
1

1
0

1
2

1
3

2+

9



1
1

1
3

1
2

1
4

8+

4



1
1

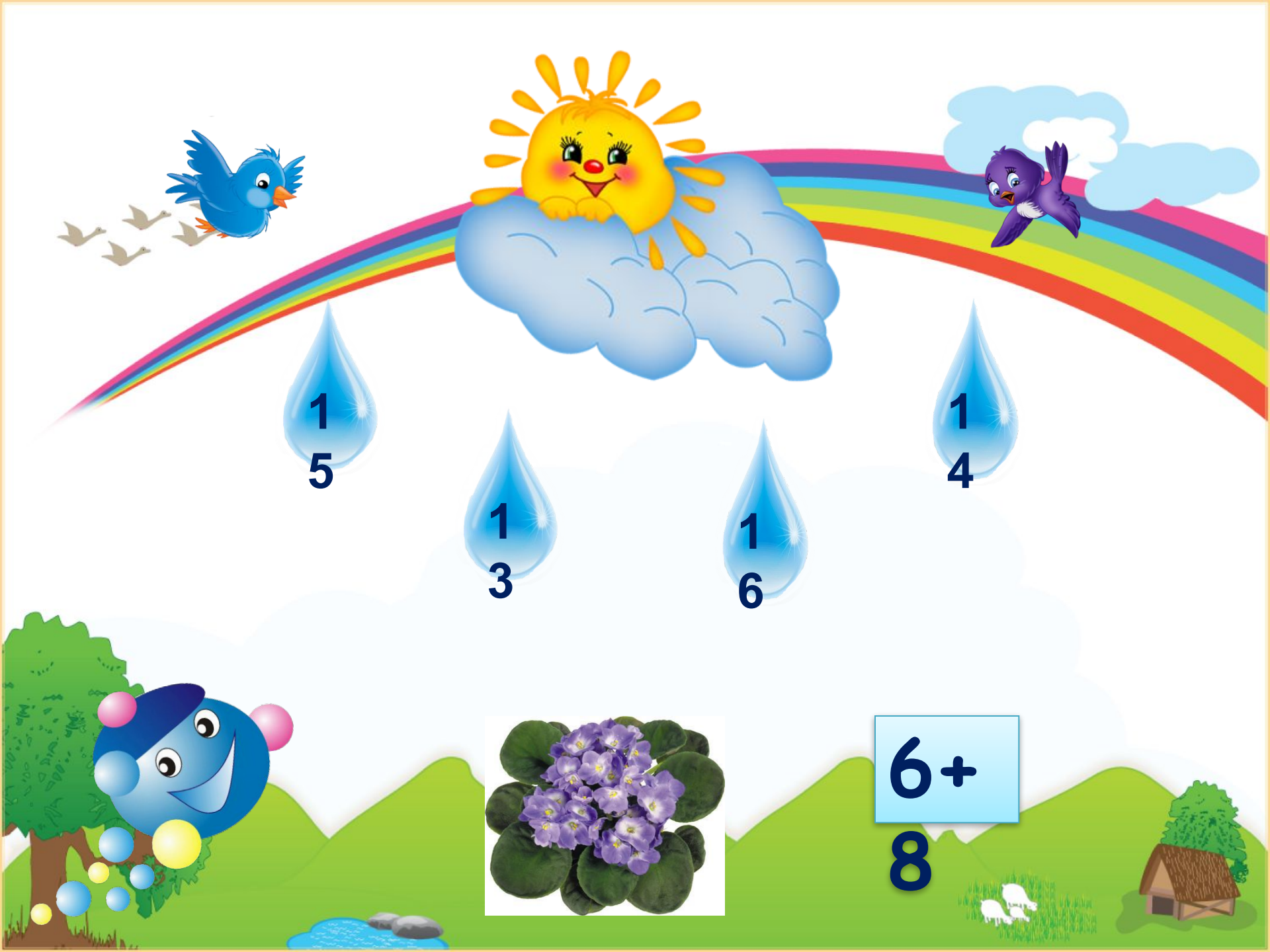
1
3

1
2

1
4

6+

6



1
5

1
3

1
6

1
4

6+

8



1
2

1
3

1
1

1
4

9+

3



1
6

1
5

1
7

1
8

9+
7

Молодец!

