


МАТЕМАТИКА

1 класс



Дополни до 10

6

9

3

5

8

6	9	3	5	8

6	9	3	5	8
4				

6	9	3	5	8
4	1			

6	9	3	5	8
4	1	7		

6	9	3	5	8
4	1	7	5	

6	9	3	5	8
4	1	7	5	2

Увеличь на 1

10

14

17

19

12

10	14	17	19	12

10

14

17

19

12

11

10

14

17

19

12

11

15

10

14

17

19

12

11

15

18

10

14

17

19

12

11

15

18

20

10

14

17

19

12

11

13

16

20

13

Уменьши на 10

12

15

18

20

12	15	18	20

12

15

18

20

2

12

15

18

20

2

5

12

15

18

20

2

5

8

12

15

18

20

2

5

8

10

Открой тетрадь. Отступи 4 клетки от прошлой работы. По середине строки запиши:

15 апреля.

Классная работа.

С новой строки пропиши в строчку два числа 1 и 2

Минутка чистописания



ТЕМА:

**СЛОЖЕНИЕ ОДНОЗНАЧНЫХ ЧИСЕЛ
С ПЕРЕХОДОМ ЧЕРЕЗ ДЕСЯТОК**

ВИДА $\square + 2, \square + 3$

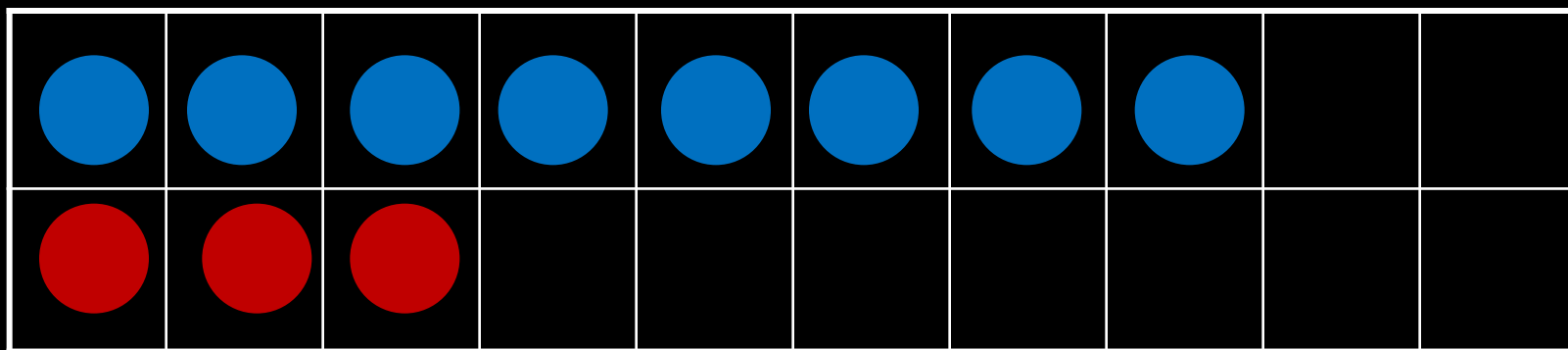
Алгоритм

решения примеров на сложение с переходом через десяток

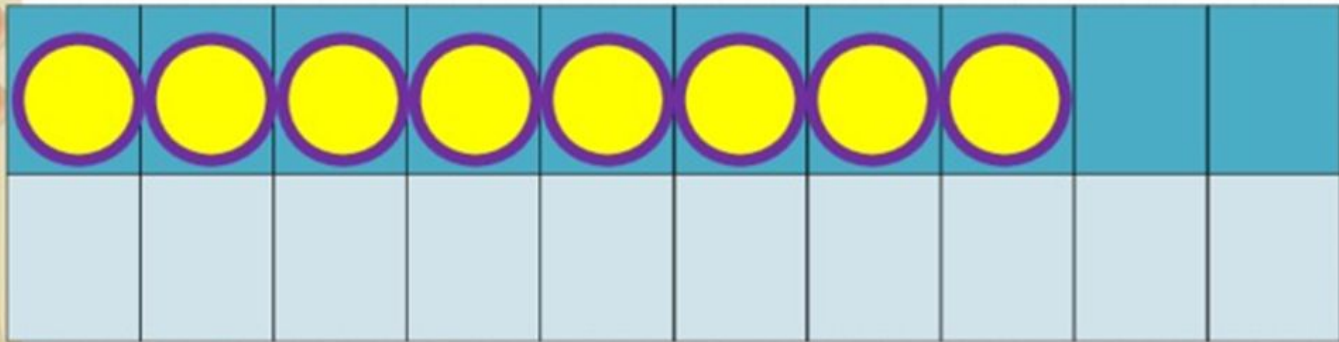
1. Подбираем число, которое может дополнить первое слагаемое до 10.
2. Вспоминаем состав числа второго слагаемого.
3. Прибавляем к первому слагаемому второе по частям.



Научимся вычислять




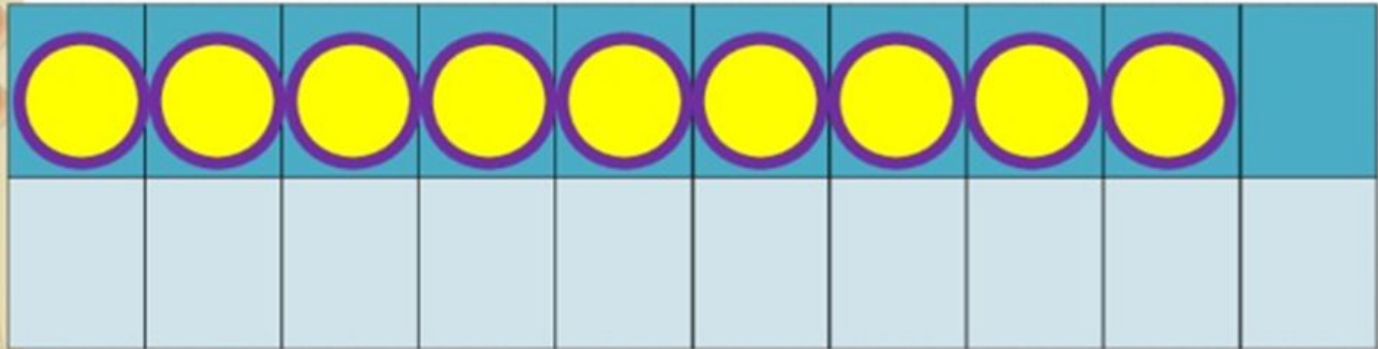
$$8 + 3 = 10 + 1 = 11$$



$$8 + 3$$

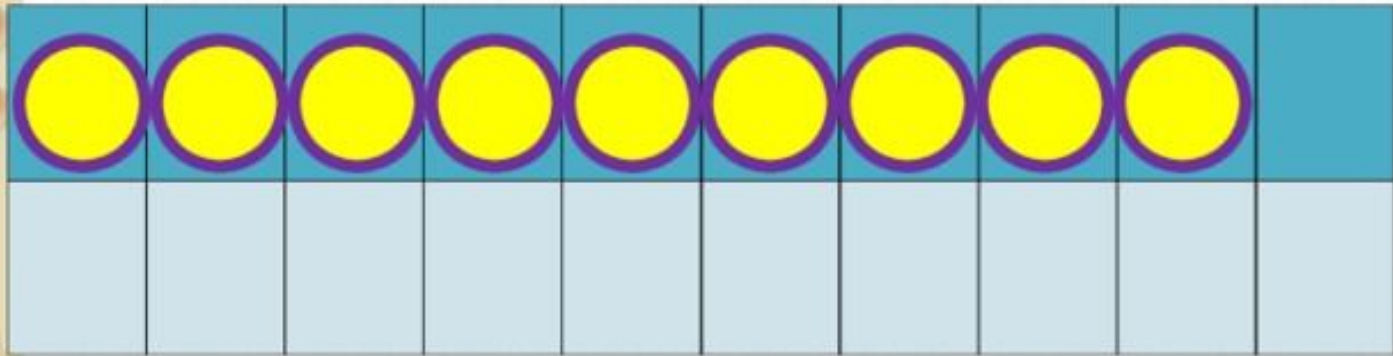
$$8 + 2 + 1$$

Какие числа будем учиться прибавлять?



$$9 + 2$$

$$9 + 1 + 1$$



$$9 + 3$$

$$9 + 1 + 2$$

Запомни!


$$9 + 2 = 11$$

$$8 + 3 = 11$$

$$9 + 3 = 12$$

Работа по учебнику. Стр. 66 (устно)

Объясни, как к числу 9 прибавить 2.



$$\begin{array}{r} 9 + 2 \\ \hline 9 + 1 + 1 \end{array}$$

Рассуждая так же, вычисли.

$$\begin{array}{r} 9 + 3 \\ \hline 9 + 1 + \square \end{array}$$

$$\begin{array}{r} 8 + 3 \\ \hline 8 + 2 + \square \end{array}$$

Запомни!

$$9 + 2 = 11$$

$$9 + 3 = 12$$

$$8 + 3 = 11$$

Работа по учебнику. Стр. 65

(в тетрадь письменно 1 и 3 столбик)

Объясни, сколько всего прибавили
или сколько всего вычли

$$9 + 1 + 3$$

$$12 - 2 - 6$$

$$8 + 2 + 4$$

$$14 - 4 - 5$$

$$7 + 3 = 5$$

$$16 - 6 - 2$$

Работа по учебнику. Стр. 66

Зад. 1 (устный счет)

Зад. 2 Реши задачу (краткая запись, схема, решение, ответ).

Зад. 3 Дополни задачу вопросом и реши ее.

1. $8 - 5 - 2$	$0 + 9 - 8$	$8 - 6 + 10$
$10 - 7 - 2$	$8 + 2 - 4$	$7 - 5 + 10$
$10 - 8 - 2$	$6 + 0 - 5$	$9 - 7 + 10$

- Зина купила 6 тетрадей в клетку, а тетрадей в линейку на 2 меньше. Сколько всего тетрадей купила Зина?
- В большом ведре помещается 10 л воды, а в маленьком — 4 л. Сколько всего ... ?

Молодцы!

