

**математике, выполнение
которых предполагают
развитие творческих
способностей младших
школьников в процессе
формирования
математических
представлений и понятий**

**ВЫПОЛНИЛА: ГОЛИЧЕНКО М.С.,
УЧИТЕЛЬ НАЧАЛЬНЫХ КЛАССОВ МБОУ СОШ №10 Г.САЛЬСКА**

Задание № 1

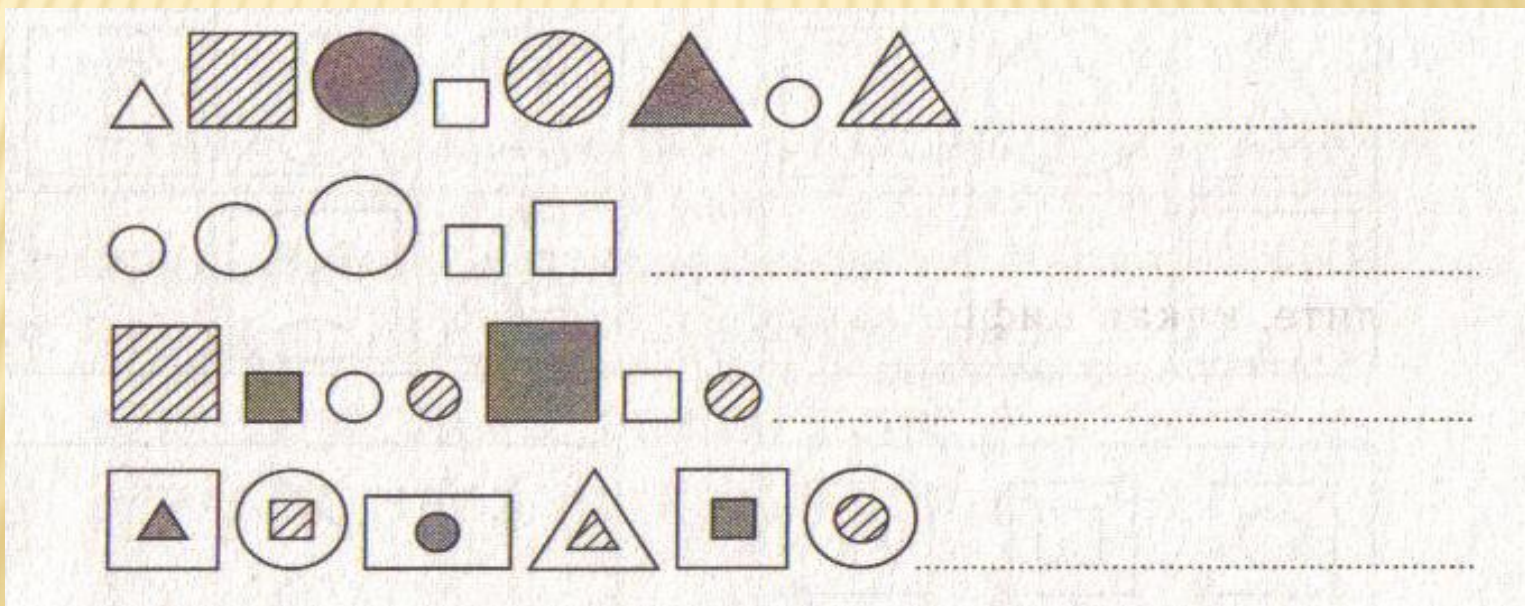
БУКВЫ ЗАМЕНЕНЫ ЦИФРАМИ. ДАНЫ
ЧЕТЫРЕ СЛОВА: 1234, 5678, 9608, 5454.
ЭТО СЛОВА: ПАПА, ЖЕНЯ, ПЕТЯ, ДИМА.
ТОЛЬКО, ВОЗМОЖНО, В ДРУГОМ
ПОРЯДКЕ.

ОПРЕДЕЛИТЕ, КАКАЯ ЦИФРА КАКУЮ
БУКВУ ЗАМЕНЯЕТ.

ПОСЛЕ РЕШЕНИЯ ЗАДАЧИ ПОПРОБУЙТЕ
ПРОЧИТАТЬ ФРАЗУ: 34 34967 1236,
5676 2 9606 361 2 1963.


ЗАДАНИЕ № 2

Продолжите ряд фигур. Чередование может быть по одному из признаков: цвету, форме, размеру. Может быть чередование по двум признакам и даже по трём.




ЗАДАНИЕ № 3

Четыре девочки – Аня, Варя, Галя и Зина – играли с мячами. Найдите, каким из мячей играла каждая девочка, если мяч Варя не самый маленький, но он меньше, чем у Ани и Зины. А мяч не меньше, чем у Зины.



ЗАДАНИЕ № 4

Какая фигура здесь лишняя?



ЗАДАНИЕ № 5

Какую отметку впервые в жизни получил по математике Фома, если известно, что она является числом не простым, а составным?

ЗАДАНИЕ № 6

Гном Забывалка учился писать цифры заострённой палочкой на песке. Только он успел нарисовать 5 цифр:

12345

как увидел большую собаку, испугался и убежал.
Вскоре

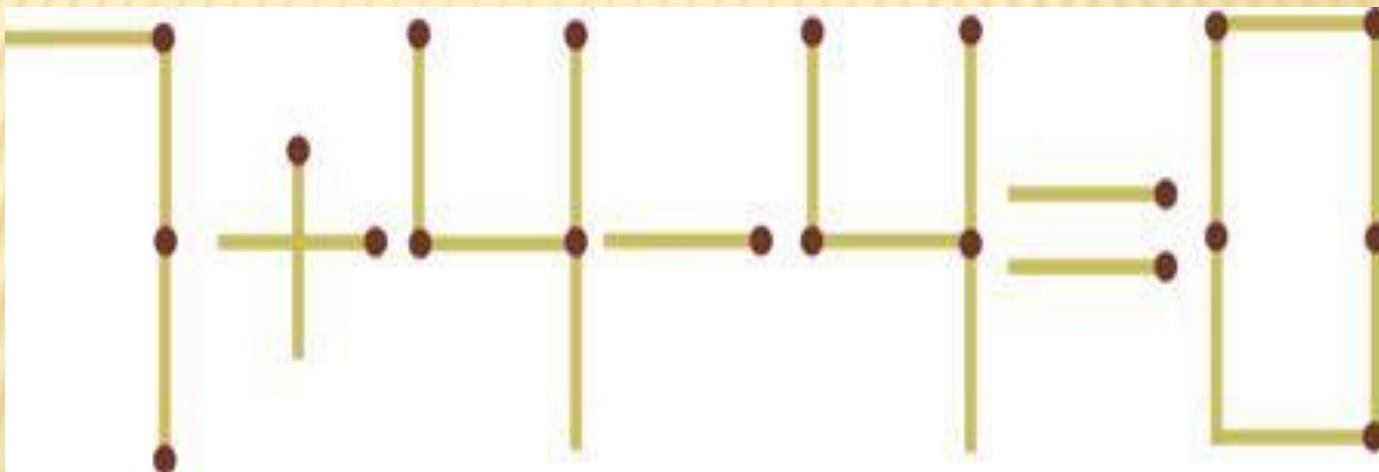
в это место пришёл другой гном Путалка. Он тоже взял палочку и начертил вот что:

12345 = 60

Вставь между цифрами плюсы таким образом, что получившийся пример был решён правильно.

ЗАДАНИЕ № 7

Перед вами равенство $7+4-4 = 0$, которое не выполняется. Переложите всего одну спичку, чтобы оно стало верным



ЗАДАНИЕ №8

Шестиклеточный логикон

Инструкция: сравнивая информацию в верхних клетках и в нижних, найдите в ней логическую связь и по аналогии заполните пустую клетку.

7	45	654
О	Д	?

13	162	81
н	ч	?

ЗАДАНИЕ №9

Магический квадрат

Составьте магический квадрат 3×3 , где есть заданные числа: 7,8,9,10,11,12,13,14,15 и результат должен равняться 33

ЗАДАНИЕ №10

Проанализируйте следующие ряды чисел, выявите закономерность и продолжите их запись:

1, 3, 4, 7, 11, 18...

2, 8, 3, 7, 4, 6...