

Математический Турнир

СВОЯ
ИГРА



Ребусы

Анаграмм
ы

Дроби

Переложил
спичку

Задачи
шутки

100

100

100

100

100

200

200

200

200

200

300

300

300

300

300

400

400

400

400


400

Отгадайте ребус

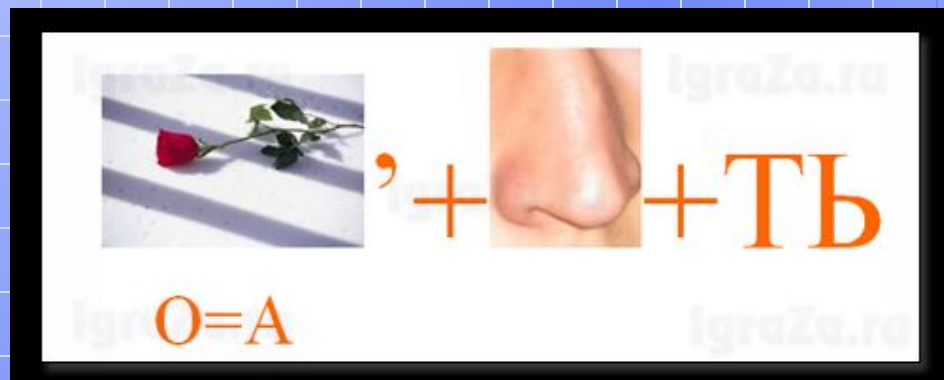


Категория
«Ребусы»
за 100

Минус




Отгадайте ребус



Категория
«Ребусы»
за 200


Разность



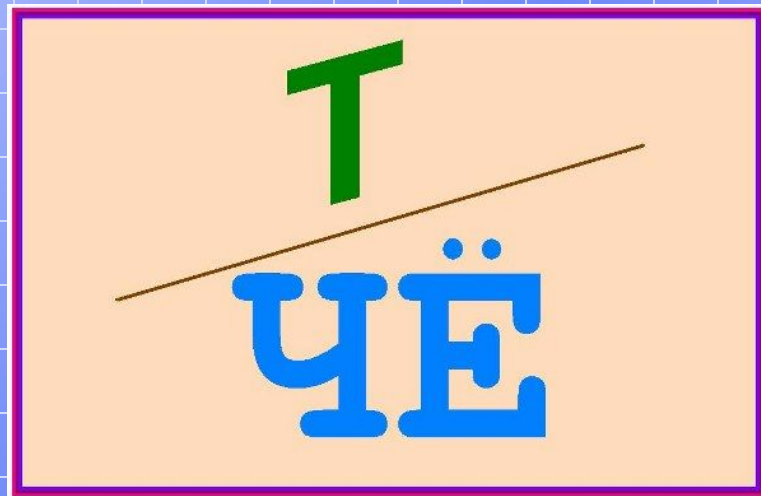
**Отгадайте
ребус**



Категория
«Ребусы»
за 300
Задача




Отгадайте ребус



Категория
«Ребусы»
за 400


Счет



Коньре

Категория
«Анаграммы»
за 100

Корень




Виунеране

Категория

«Анаграммы»

за 200


Уравнение



Марипида

Категория
«Анаграммы»
за 300


Пирамида



Зидевопрение

Категория
«Анаграммы»
за 400

Произведение




**Какой знак надо поставить между
написанным рядом цифрами 2 и 3, так
чтобы получилось число, больше
двух, но меньшее трёх?**

Категория

«Дробь»

за 100

Запятую (2,3)




Сравните дроби. Объясните свой ответ.

$$\frac{5}{10} \text{ и } \frac{3}{4}$$

Категория
«Дроби»
за 200


$$\frac{5}{10} < \frac{3}{4}$$



**Половина – треть его. Какое
это число?**

Категория
«Дроби»
за 300


$$1\frac{1}{2}$$




Бабочки и пчелы опыляли цветы на лугу.
Сколько насекомых опыляло цветы если
известно что бабочек было 24, а пчелы
составляли $\frac{4}{6}$ от всех насекомых?

Категория
«Дробь»
за 400


72



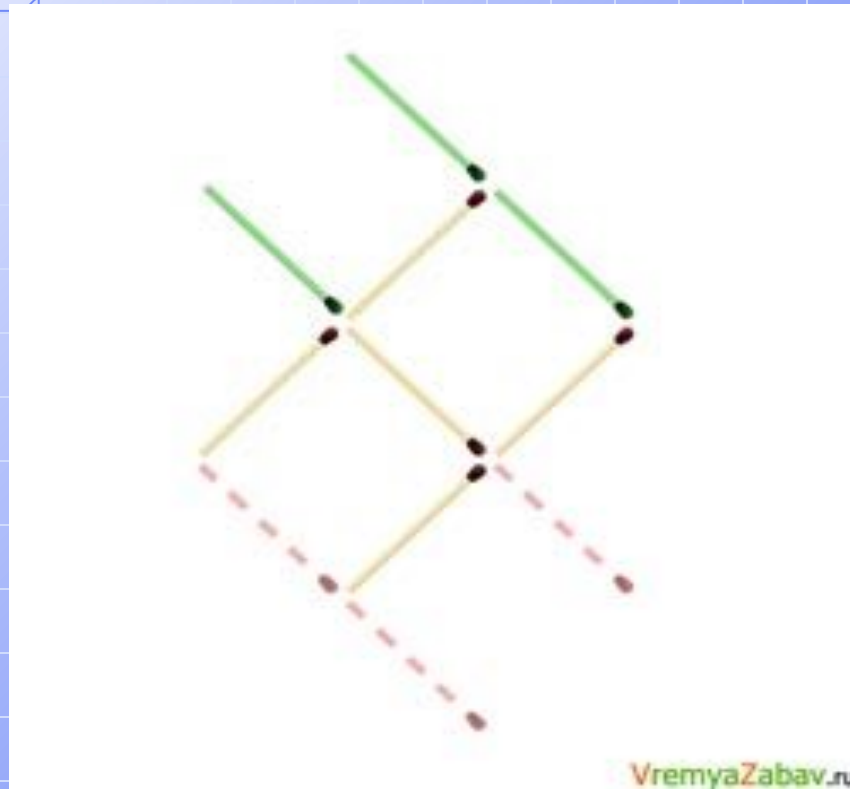
Переложите 3 спички, чтобы стрела поменяла своё направление на противоположное.




Категория
«Переложите
спичку»
за 100



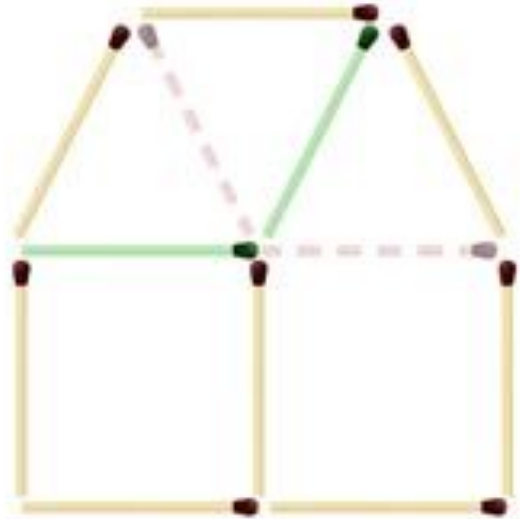
Из спичек сложена золотая рыбка, переложите 3 (три) спички так, чтобы рыбка поплыла в другую сторону ■



Категория
«Переложите
спичку»
за 200




Из спичек построен дом.
Переложите всего 2 (две) спички таким образом, чтобы дом
повернулся другой стороной.

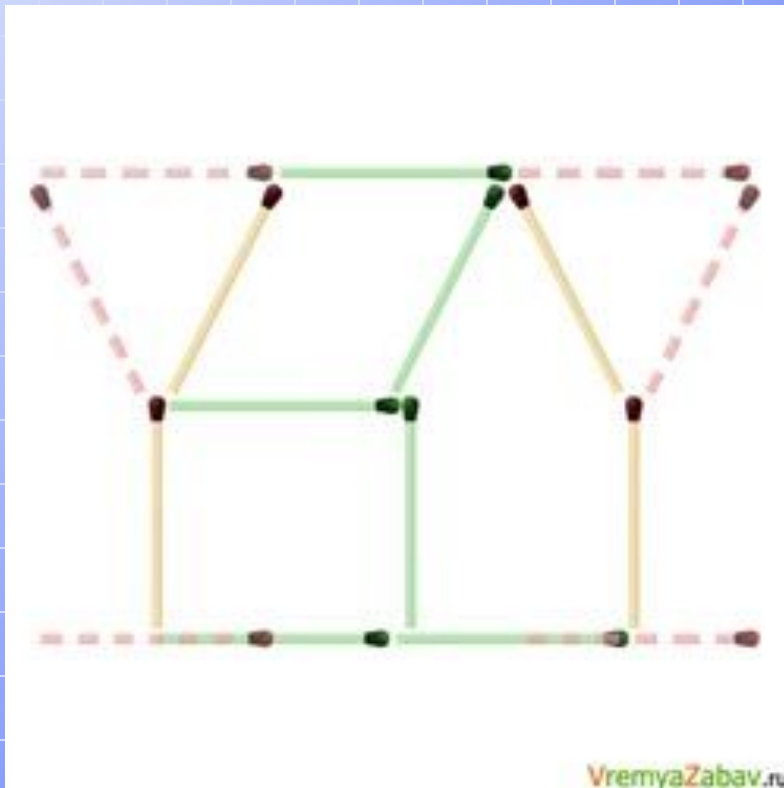


VremyaZabav.ru


Категория
«Переложите
спичку»
за 300



Переложите 6 (шесть) спичек так,
чтобы из двух бокалов получился
домик.




Категория
«Перелож
и спичку»
за 400



У Буратино меньше 20 золотых монет. Эти монеты он может разложить в стопки по две, по три и по четыре монеты. Сколько монет у Буратино?

Категория
«Задачи»
за 100


12 монет



В семье трое братьев. Каждый следующий младше предыдущего на 3 года. А сумма их возрастов равна 15 годам. Сколько лет каждому?

Категория
«Задачи»
за 200


2, 5, 8



Три девочки на вопрос, по сколько им лет
ответили так: Маша: "Мне вместе с Наташей
21 год", Наташа: "Я моложе Тамары на 4
года", Тамара: "Нам троим вместе 34 года".
Сколько лет каждой из девочек?

Категория
«Задачи»
за 300

Тамаре -13, Наташе – 9, Маше – 12.



Аня, Женя и Нина за контрольную работу получили разные оценки, но двоек у них не было. Отгадайте, какую оценку получила каждая из девочек, если у Ани не "3", у Нины не "3" и не "5"

Категория
«Задачи»
за 400

Нина – 4, Аня – 5, Женя – 3.

