

**Здравствуйте!**

**Откройте рабочую тетрадь по  
математике**

**Запишите число и классная работа**

***14 мая***

***Классная работа***

# Табличное вычитание



$$12 - 2 - 3$$

$$15 - 5 - 1$$

- Что общего в данных выражениях? (при вычитании  $12-2$  и  $15-5$  разность будет равна 10)
- Сколько всего вычитают из 12? А из 15?
- А как вычитают из 12 число 5, а из 15 число 6? (по частям)
- Что сделали с числами 5 и 6? (разбили на удобные слагаемые)
- Будем учиться вычитать в пределах 20 (разбивать на удобные слагаемые)

$$12 - 2 - 3$$

$$15 - 5 - 1$$

- Как мы вычитаем по частям? Сколько мы изначально вычитаем? (вычитаем столько, чтобы получилось 10)
- После того, как вычли до 10, вспоминаем состав числа и вычитаем оставшееся. Рассмотрите запись на следующем слайде.

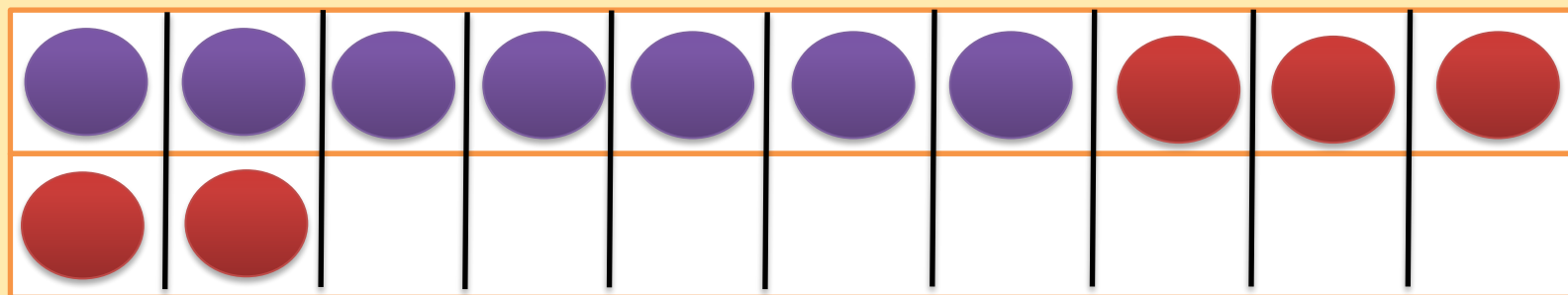
$$12 - 5$$

Вычитаем число 5 по частям.

**ЗАПОМНИ!**

$$12 - 5 = 12 - 2 - 3 = 10 - 3 = 7$$

Diagram illustrating the decomposition of 5 into 2 and 3, and the intermediate step of 10.



Мы вспомнили состав вычитаемого, т.е. числа 5, а можно вспомнить состав уменьшаемого, т.е. числа 12. Рассмотрим второй способ. Но для этого надо знать таблицу сложения.

$$12 - 5$$

$$\begin{array}{c} \diagup \quad \diagdown \\ 5 \quad 7 \end{array}$$

$$12 - 7$$

$$\begin{array}{c} \diagup \quad \diagdown \\ 7 \quad 5 \end{array}$$

- Вспоминаем состав числа 12. Нам уже в этом выражении даётся подсказка. 12 – это 5 и 7.
- Следовательно,  $12 - 5 = 7$  или же  $12 - 7 = 5$

**Откроем учебник на стр. 80. Попробуй устно разобрать № 1**

## Откроем учебник на стр. 81

Обратите внимание на № 2 (Оформи в тетрадь)

Обратите внимание на № 3 (Оформим задачу в тетрадь)

### **Задача № 3**


- Прочитаем задачу.
- О чем задача?
- Что мы знаем о количестве катеров «Ракета»?
- Что мы знаем о количестве моторных лодок?
- Чего не хватает в данной задачи?
- Что мы можем сказать о количестве? (что моторных лодок больше, чем катеров)
- Как поставить вопрос, чтобы мы решили задачу с помощью действия вычитания? Сравнить чего больше.
- Сформулируем вопрос задачи. (На сколько больше моторных лодок, чем катеров «Ракета»?). Как ответить на вопрос задачи?

## Откроем учебник на стр. 81

Обратите внимание на № 3 (Оформим задачу в тетрадь)

**Задача № 3 оформить в тет.**

Катер – 2 шт.  
Лодка – 6 шт.

 На сколько больше?

$$6 - 2 = 4 \text{ (шт.)}$$

Ответ: на 4 моторных лодки больше, чем катеров «Ракета».



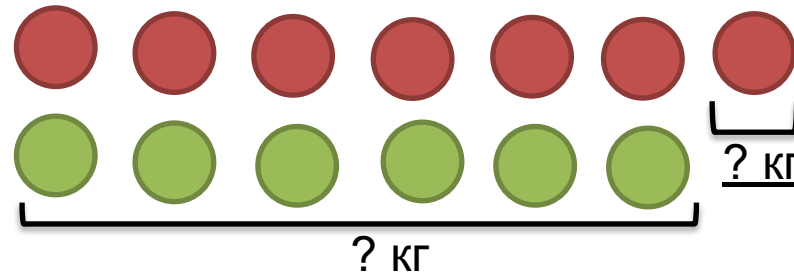
## Откроем учебник на стр. 81

Обратите внимание на № 5 (Оформим задачу в тетрадь)

1 сумка – 7 кг

2 сумка – ? 4 кг и 2 кг

На сколько меньше?



1)  $4 + 2 = 6$  (кг) – во второй сумке

2)  $7 - 6 = 1$  (кг)

Ответ: 2 сумка легче, чем 1 на 1 килограмм.

-Тет. на п/о стр. 41

