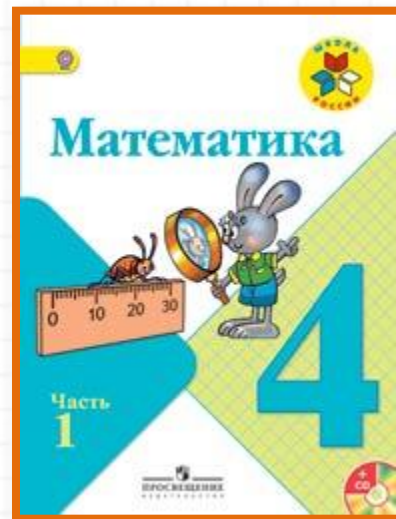



Школа России

4 класс



Письменное деление на
двузначное число.
Закрепление

Устный счёт



Преобразуй величины:

$$6 \text{ кг } 53 \text{ г} = \dots \text{ г}$$

$$5 \text{ т} = \dots \text{ кг}$$

$$4 \text{ ц} = \dots \text{ кг}$$

$$3 \text{ т} = \dots \text{ ц}$$

$$4 \text{ руб.} = \dots \text{ коп}$$

$$2 \text{ сут. } 3 \text{ ч} = \dots \text{ ч}$$

$$5 \text{ мин.} = \dots \text{ с}$$

$$72 \text{ см} = \dots \text{ мм}$$

$$4 \text{ м} = \dots \text{ дм}$$

$$8 \text{ дм} = \dots \text{ см}$$

$$6 \text{ дм } 2 \text{ см} = \dots \text{ мм}$$

$$5 \text{ м } 9 \text{ дм} = \dots \text{ см}$$

$$3 \text{ дм } 8 \text{ см} = \dots \text{ мм}$$

$$2 \text{ км} = \dots \text{ м}$$

Запишите ответы в тетрадь.

1. К какому числу надо прибавить один, чтобы получить **40 000**?
2. Из какого числа надо вычесть один, чтобы получить **40 000**?
3. Запиши к каждому числу по четыре последующих числа: **5008, 5098, 5998**.
4. Запиши число, которое состоит из **4590** десятков и увеличь его в **100** раз.
5. Запиши, сколько всего сотен в числе **37 524**.
6. Увеличь полученное число в **1 000** раз.
7. Запиши число, которое на единицу больше, чем **59 789**.
8. Увеличь полученное число в **10** раз.
9. Из числа **77 777** вычти **7 десятков** тысяч. Увеличь полученное число в **100** раз.

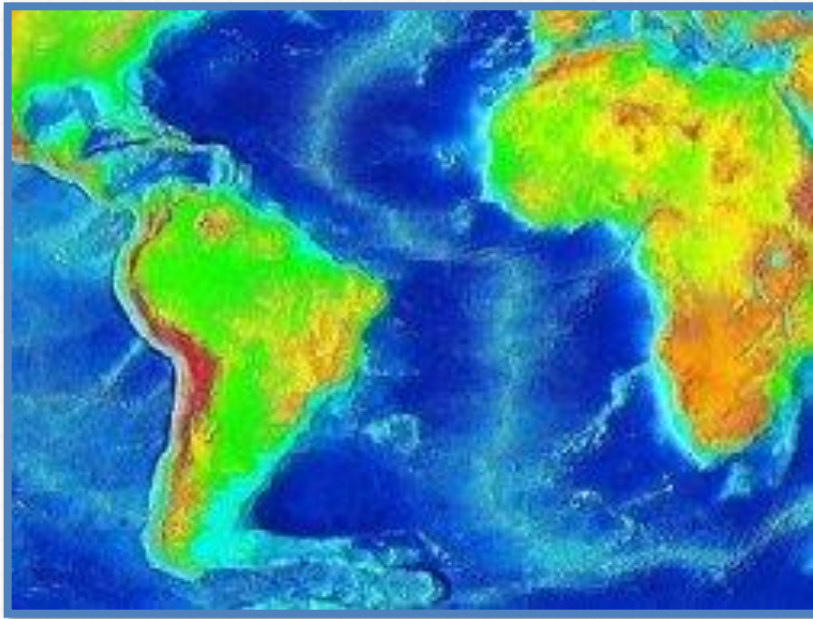
Лисица может издавать **36** звуковых сигналов, а ворона на **264** сигнала больше. Сколько звуковых сигналов может издавать ворона?



300

Средняя глубина Атлантического океана **3 км 597 м**, а Индийского **3 км 710 м**.

На сколько больше средняя глубина Индийского океана, чем Атлантического?



на 113 м

Когда садовник окопал **30** деревьев, ему осталось выполнить **$\frac{2}{3}$** работы, которую он уже сделал. Сколько всего деревьев надо окопать садовнику?




50

Задание на смекалку



В Австралии живут питоны длиной **3/500 км** и черви длиной в **3/1000 км**.
Во сколько раз питон длиннее червя?




в 2 раза

Готовимся к контрольной.

В магазине продали **12** ящиков с яблоками и **16** ящиков с грушами по одинаковой цене. За ящики с яблоками заплатили на **4000** рублей меньше. Сколько заплатили за ящики с грушами и яблоками отдельно?

Периметр прямоугольника равен **10 см 8 мм**. Одна сторона его **3 см**.
Найдите другую его сторону.


3 см



$P = 10 \text{ см } 8 \text{ мм}$

Периметр прямоугольника равен **14 см 8 мм**. Одна сторона его **4 см**.
Найдите другую его сторону.

4 см



$P = 14 \text{ см } 8 \text{ мм}$