

Історична карта

Перевірка домашнього завдання

- Хронологія — це наука, що вивчає ...
 - Розташуйте терміни на позначення відрізків часу від меншого до більшого:
 - 1 — тисячоліття
 - 2 — рік
 - 3 — ера
 - 4 — століття
-

Перевірка домашнього завдання

- Розташуйте терміни на позначення найдавніших одиниць виміру часу від більшого до меншого:
 - 1 — тиждень
 - 2 — рік
 - 3 — доба
 - 4 — місяц
-

Перевірка домашнього завдання

- Визначте початок і кінець XII століття.
 - А 201-300 pp.
 - Б 1201-1300 pp.
 - В 1101-1200 pp.
-

Перевірка домашнього завдання

- Визначте початок і кінець VIII століття.
 - А 1401-1500 рр.
 - Б 701-800 рр.
 - В 801-900 рр.
-

Перевірка домашнього завдання

- Рік проголошення незалежності України. Скільки років виповнилося нашій державі у 2013 р.?
 - А 18 років
 - Б 20 років
 - В 22 роки
-

Перевірка домашнього завдання

- Існують римські й арабські цифри. Якими позначають століття, а якими — роки.

Римськими позначають


Арабськими позначають

Загадки

- У книжці шість листків простих, сьомий золотий.
 - Дванадцять братів один за одним ходять, один одного не обходять.
 - Виходило дванадцять молодців, випускало п'ятдесят два соколи та триста шістдесят п'ять лебедів.
-

Що таке

картка?



Загадка

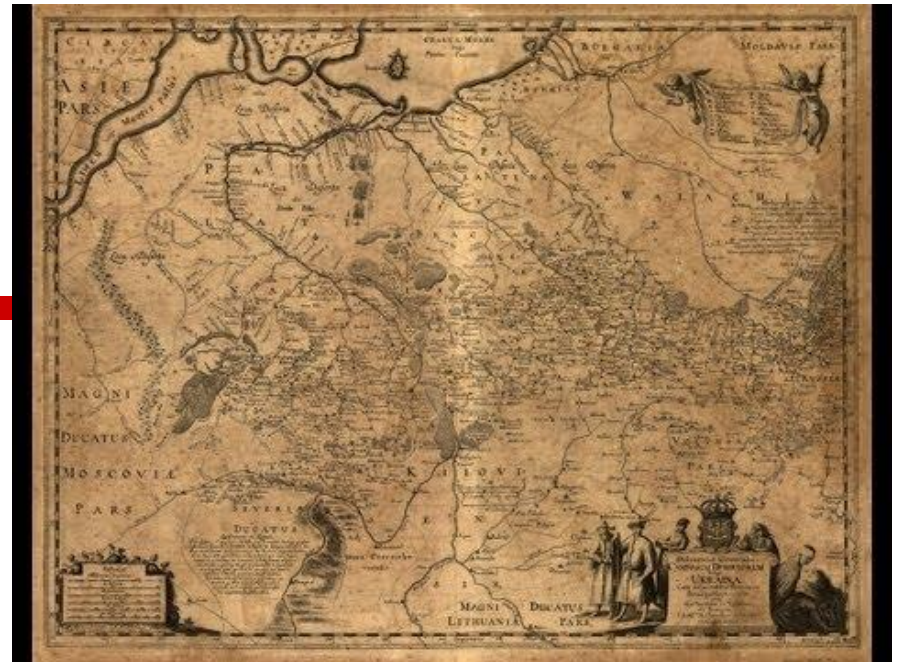
Країни без людей,
Міста без будинків,
Ліси без дерев,
Моря без води.

Історична карта

- легенда історичної карти
- умовні позначки
- територія, кордони на карті

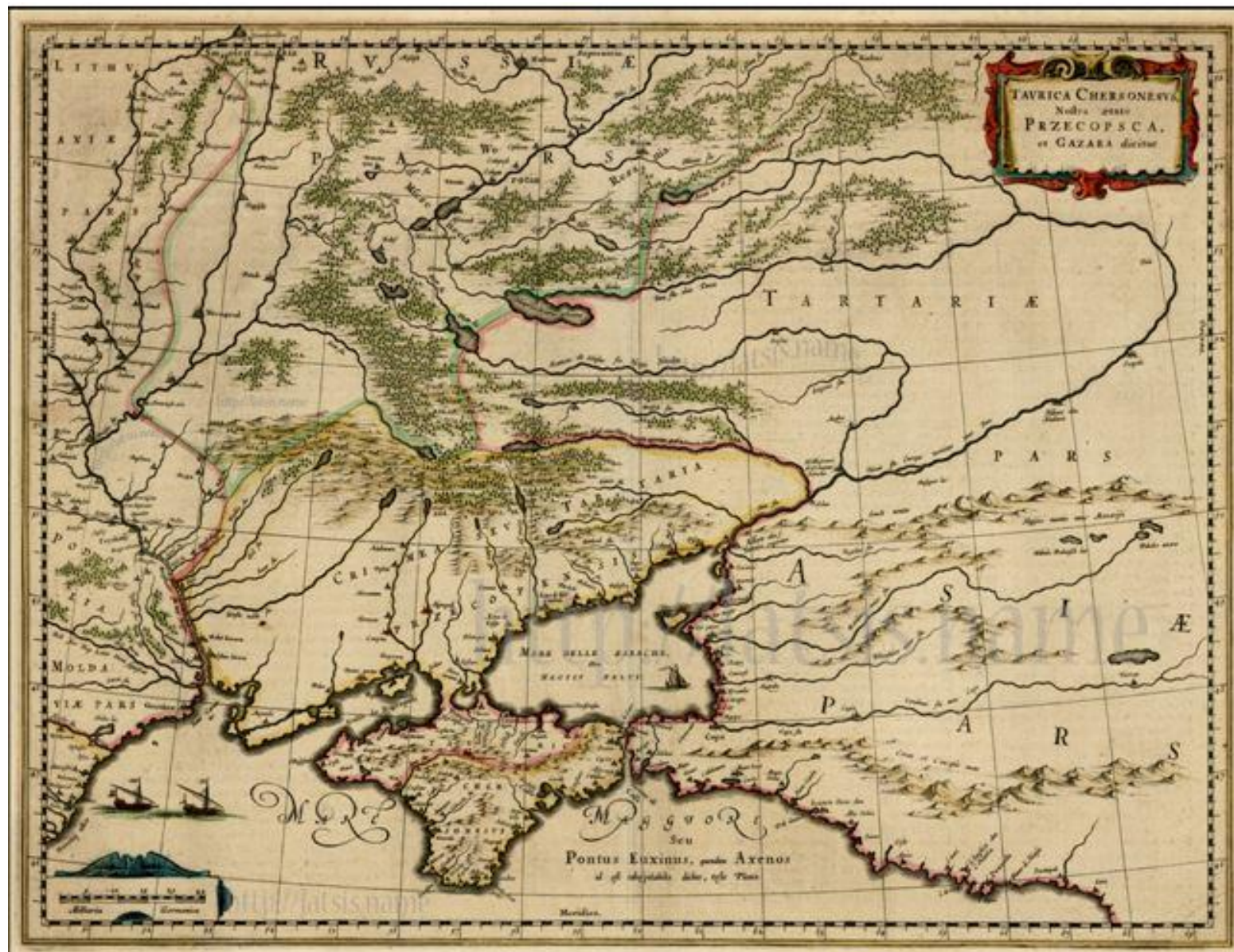
Карта — зменшене зображення на папері поверхні Землі або її частини





Герхард Меркатор 1620 р.

Фламандський картограф



Історична карта



Історична карта



Історична карта



Україна.

Історичні області



ІСТОРІЯ

5
КЛАС

АТЛАС

Історія України
























КАРТОГРАФІЯ
www.ukrmap.com.ua


Легенда карти



УМОВНІ ПОЗНАЧЕННЯ

 КИЇВ	Столиці держав		Гідроелектростанції
 Суми	Інші населені пункти		Озера прісні та водосховища
 Люблін			Озера солоні
	Державні кордони	1501	Позначки висот над рівнем моря
	Межі областей	90	Позначки глибин
	Річки з постійною течією		Болота. Солончаки
	Річки, що пересихають		Піски
	Канали судноплавні		Географічний центр України
	Канали меліоративні		Національні парки, заповідник

КОРИСНІ КОПАЛИНИ

	Кам'яне вугілля		Нікелеві руди		Вапняк
	Буре вугілля		Ртутні руди		Каолін
	Торф		Графіт		Мармур
	Нафта		Озокерит		Граніт
	Газ		Фосфорити		Вогнетривкі глини
	Залізні руди		Калійні солі		Крейда
	Марганцеві руди		Кам'яна сіль		Мергель


 Джерела мінеральних вод

 74,6 Довжина одного градуса дуги паралелі в кілометрах
 111,2 Довжина одного градуса дуги меридіана в кілометрах

ШКАЛА ГЛИБИН І ВИСОТ У МЕТРАХ



Масштаб 1 : 3 500 000 (в 1 см 35 км)



Легенда карти



Правила роботи з картою

- Прочитайте назву історичної карти.
 - Відшукайте на карті умовні позначки, необхідні для розгляду поставленого завдання.
 - Прочитайте інформацію, вміщену на карті.
 - Співвіднесіть інформацію, прочитану на карті, з матеріалом підручника.
-

Контурна карта



Правила роботи з контурною картою

- Працюйте добре загостреним олівцем, не використовуйте фарби, фломастери та маркери
 - Зафарбовуючи певну ділянку карти, слідкуйте, щоб олівець не виходив за її контури.
 - Пам'ятайте, що контурна карта зафарбовується не заради краси. Кольором на карті виділяються території, які чимось відрізняються одна від одної.
 - Підписи мають бути грамотними.
 - Робіть підписи друкованими літерами.
 - Створіть легенду карти. На спеціально відведеному на контурній карті місці виписуйте умовні позначки та їхнє значення.
-

Висновки:

- історична карта — це карта, на якій позначаються кордони держав та населені пункти, а також найважливіші історичні події;
 - легенда карти — це умовні позначки, які використовуються на карті.
-

Домашнє завдання

- § 3
- Дивитися презентацію
- Творче завдання

Позначте на контурній карті

- населені пункти, які ви відвідали,
 - замалюйте різними кольорами області
 - Позначте річки Дніпро і Південний Буг
 - Підпишіть сусідні країни
 - Підпишіть моря
-